

## Tabellen & Grafieken 009

**Eiland:** Staafgrafieken tekenen  
**Doel:** Weergeven van aantallen in hokjes



Kleurpotloden









Potlood

### Opgave 1 Hoeveel dieren tel je?

Kleur bij elk dier het juiste aantal hokjes.



10						
9						
8						
7						
6						
5						
4						
3						
2						
1						
						

**Opgave 2** Hoeveel stukken groente en fruit tel je?

Kleur bij elk stuk groente en fruit het juiste aantal hokjes.



10						
9						
8						
7						
6						
5						
4						
3						
2						
1						

**Opgave 3** Hoeveel voorwerpen tel je?

Kleur bij elk voorwerp het juiste aantal hokjes.



10					
9					
8					
7					
6					
5					
4					
3					
2					
1					

**Opgave 4** Hoeveel voorwerpen tel je?

Kleur bij elk voorwerp het juiste aantal hokjes.



10						
9						
8						
7						
6						
5						
4						
3						
2						
1						

**Opgave 5** Hoeveel dieren tel je?

Kleur bij elk dier het juiste aantal hokjes.



10						
9						
8						
7						
6						
5						
4						
3						
2						
1						

**Opgave 6** Hoeveel stukken groente en fruit tel je?


Kleur bij elk stuk groente en fruit het juiste aantal hokjes.



10						
9						
8						
7						
6						
5						
4						
3						
2						
1						

**Opgave 7** Hoeveel voorwerpen tel je?

Kleur bij elk voorwerp het juiste aantal hokjes.









10					
9					
8					
7					
6					
5					
4					
3					
2					
1					

**Opgave 8 Hoeveel voorwerpen tel je?**

Kleur bij elk voorwerp het juiste aantal hokjes.









10						
9						
8						
7						
6						
5						
4						
3						
2						
1						
						

**Opgave 9 Hoeveel dieren tel je?**

Kleur bij elk dier het juiste aantal hokjes.



10						
9						
8						
7						
6						
5						
4						
3						
2						
1						
						

**Opgave 10** Hoeveel stukken groente en fruit tel je?


Kleur bij elk stuk groente en fruit het juiste aantal hokjes.



10						
9						
8						
7						
6						
5						
4						
3						
2						
1						

**Opgave 11** Hoeveel voorwerpen tel je?

Kleur bij elk voorwerp het juiste aantal hokjes.



10					
9					
8					
7					
6					
5					
4					
3					
2					
1					

**Opgave 12** Hoeveel voorwerpen tel je?

Kleur bij elk voorwerp het juiste aantal hokjes.



10						
9						
8						
7						
6						
5						
4						
3						
2						
1						
	