

Meten 019

Eiland: Lengte met schaalverhouding
Doel: Meten met verhoudingen met schaal

**Opgave 1** Hoe hoog is het busje in het echt?

Vul het antwoord in op je scherm.

Opgave 2 Hoe hoog is de lantaarnpaal in het echt?


Vul het antwoord in op je scherm.

Opgave 3 Hoe hoog is de boom in het echt?

Vul het antwoord in op je scherm.

Opgave 4 Hoe hoog is het huis in het echt?

Vul het antwoord in op je scherm.



Opgave 5 **Hoe hoog is het schuurtje in het echt?**
Vul het antwoord in op je scherm.

Opgave 6 **Hoe hoog is het klimrek in het echt?**
Vul het antwoord in op je scherm.

Opgave 7 **Hoe hoog is de boom in het echt?**
Vul het antwoord in op je scherm.

Opgave 8 **Hoe hoog is de school in het echt?**
Vul het antwoord in op je scherm.



Opgave 9 Hoe hoog is het huis met huisnummer 3 in het echt?

Vul het antwoord in op je scherm.

Opgave 10 Hoe hoog is het huis met huisnummer 5 in het echt?

Vul het antwoord in op je scherm.

Opgave 11 Hoe hoog is het huis met huisnummer 7 in het echt?

Vul het antwoord in op je scherm.

Opgave 12 Hoe hoog is het huis met huisnummer 9 in het echt?

Vul het antwoord in op je scherm.



Opgave 13 Hoe hoog is het klimrek in het echt?

Vul het antwoord in op je scherm.

Opgave 14 Hoe hoog is de schommel in het echt?

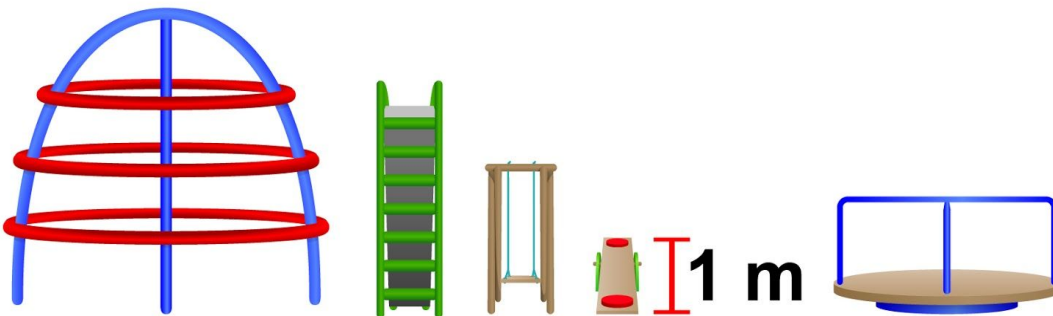
Vul het antwoord in op je scherm.

Opgave 15 Hoe hoog is de glijbaan in het echt?

Vul het antwoord in op je scherm.

Opgave 16 Hoe hoog is de draaimolen in het echt?

Vul het antwoord in op je scherm.



Afbeelding 5

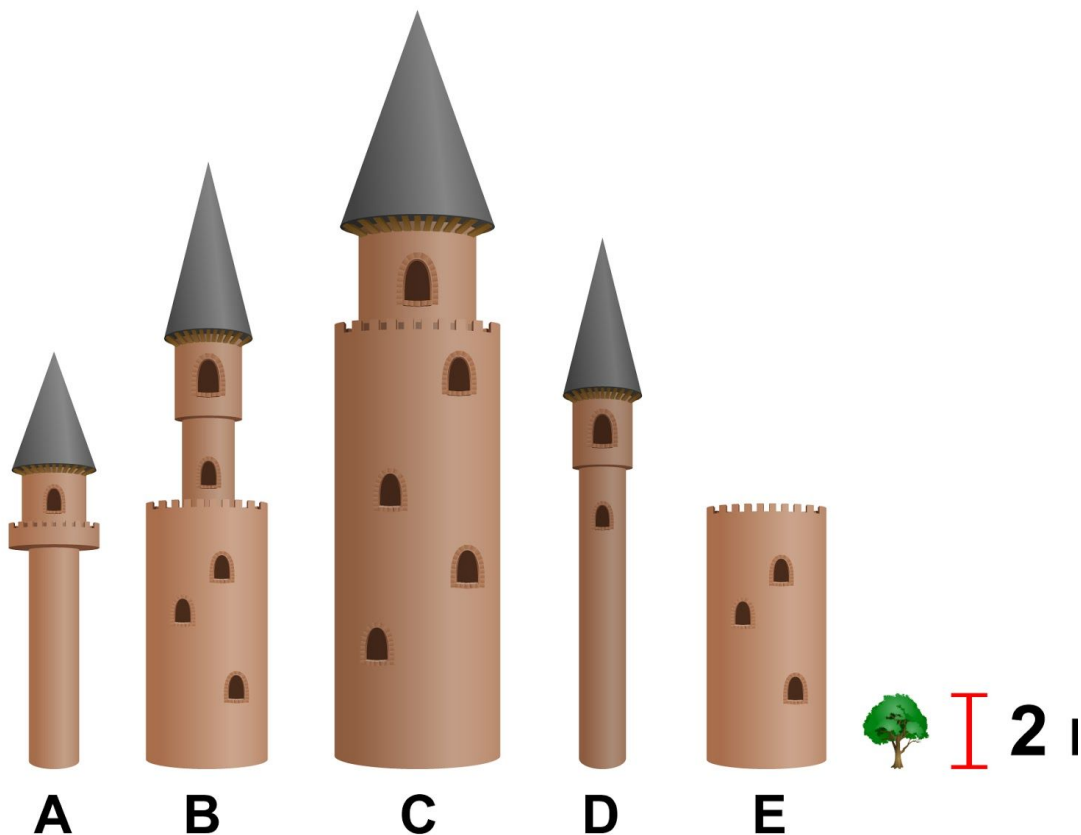
Opgave 17 Hoe hoog is gebouw A in het echt?
Vul het antwoord in op je scherm.

Opgave 18 Hoe hoog is gebouw B in het echt?
Vul het antwoord in op je scherm.

Opgave 19 Hoe hoog is gebouw C in het echt?
Vul het antwoord in op je scherm.

Opgave 20 Hoe hoog is gebouw D in het echt?
Vul het antwoord in op je scherm.

Opgave 21 Hoe hoog is gebouw E in het echt?
Vul het antwoord in op je scherm.



Opgave 22 Hoe hoog is gebouw A in het echt?

Vul het antwoord in op je scherm.

Opgave 23 Hoe hoog is gebouw B in het echt?

Vul het antwoord in op je scherm.

Opgave 24 Hoe hoog is gebouw C in het echt?


Vul het antwoord in op je scherm.

Opgave 25 Hoe hoog is gebouw D in het echt?

Vul het antwoord in op je scherm.

Opgave 26 Hoe hoog is gebouw E in het echt?

Vul het antwoord in op je scherm.



Opgave 27 Hoe hoog is de auto in het echt?*Vul het antwoord in op je scherm.***Opgave 28** Hoe hoog is het restaurant in het echt?*Vul het antwoord in op je scherm.***Opgave 29** Hoe hoog is het tankstation in het echt?*Vul het antwoord in op je scherm.***Opgave 30** Hoe hoog is de boom in het echt?*Vul het antwoord in op je scherm.*