

**Meten 008****Eiland:** Kubieke maten**Doel:** Bepalen van oppervlakten en inhoud met schaal

Linaal

Potlood

**Opgave 1** Wat is de oppervlakte en inhoud van zwembad C?

Vul het antwoord in op je scherm.

**Opgave 2** Wat is de oppervlakte en inhoud van zwembad D?

Vul het antwoord in op je scherm.

**Opgave 3** Wat is de oppervlakte en inhoud van zwembad B?

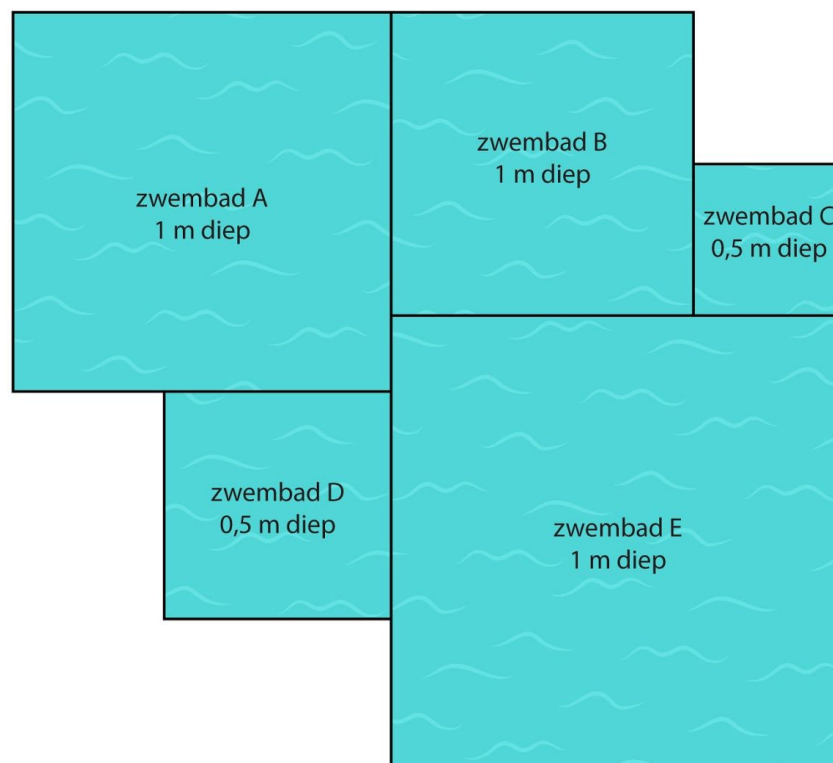
Vul het antwoord in op je scherm.

**Opgave 4** Wat is de oppervlakte en inhoud van zwembad A?

Vul het antwoord in op je scherm.

**Opgave 5** Wat is de oppervlakte en inhoud van zwembad E?

Vul het antwoord in op je scherm.

**Zwemparadijs De schoolslag**

= 1 m

**Opgave 6** Wat is de oppervlakte en inhoud van vijver B?

Vul het antwoord in op je scherm.

**Opgave 7** Wat is de oppervlakte en inhoud van vijver E?

Vul het antwoord in op je scherm.

**Opgave 8** Wat is de oppervlakte en inhoud van vijver C?

Vul het antwoord in op je scherm.

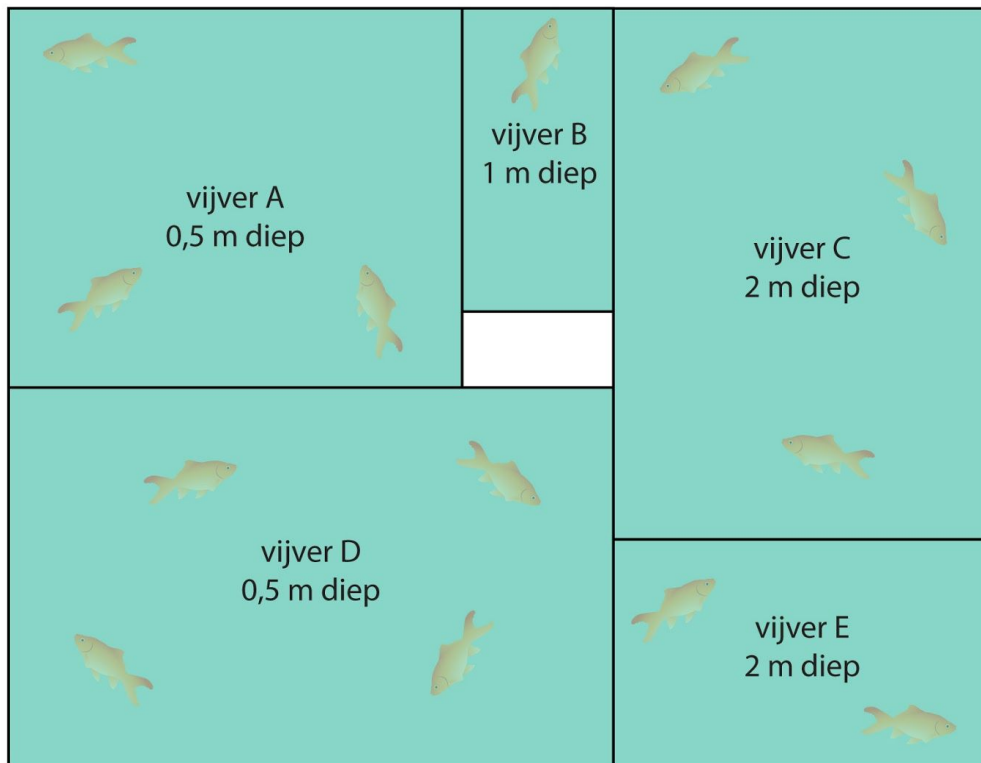
**Opgave 9** Wat is de oppervlakte en inhoud van vijver A?

Vul het antwoord in op je scherm.

**Opgave 10** Wat is de oppervlakte en inhoud van vijver D?

Vul het antwoord in op je scherm.

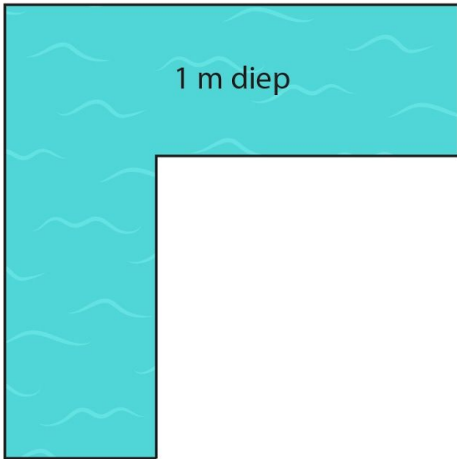
## Vijverpark de Visjes



— = 1 m

**Opgave 11** Wat is de oppervlakte en inhoud?

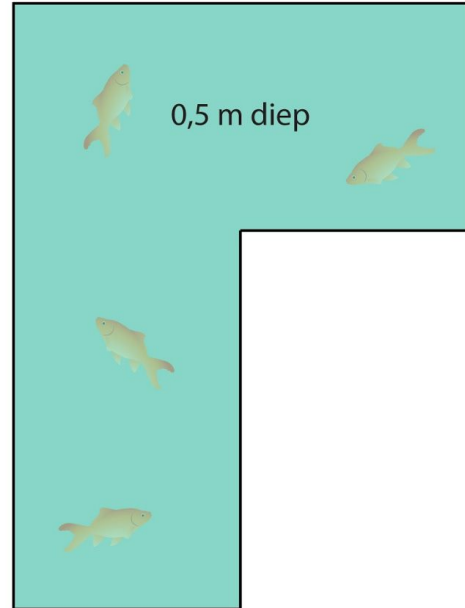
Vul het antwoord in op je scherm.



—| = 1 m

**Opgave 12** Wat is de oppervlakte en inhoud?

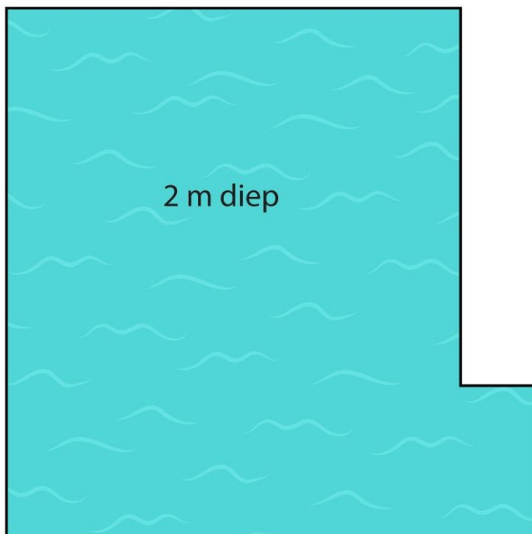
Vul het antwoord in op je scherm.



—| = 1 m

**Opgave 13** Wat is de oppervlakte en inhoud?

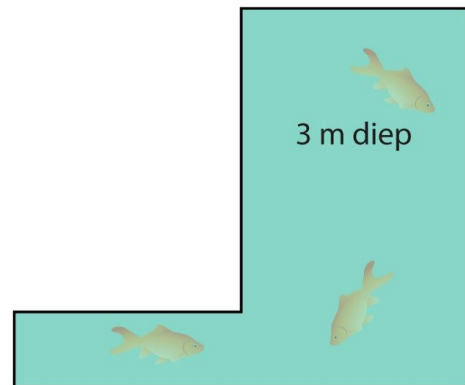
Vul het antwoord in op je scherm.



—| = 1 m

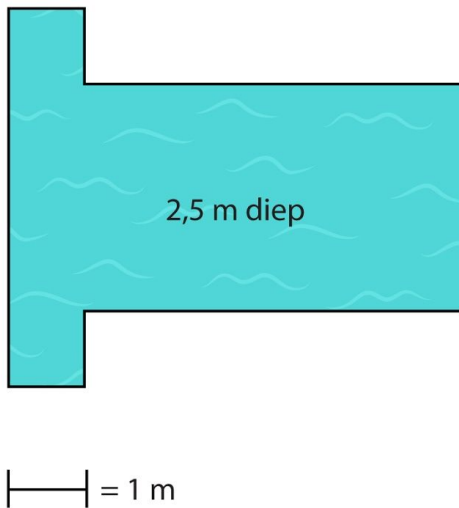
**Opgave 14** Wat is de oppervlakte en inhoud?

Vul het antwoord in op je scherm.

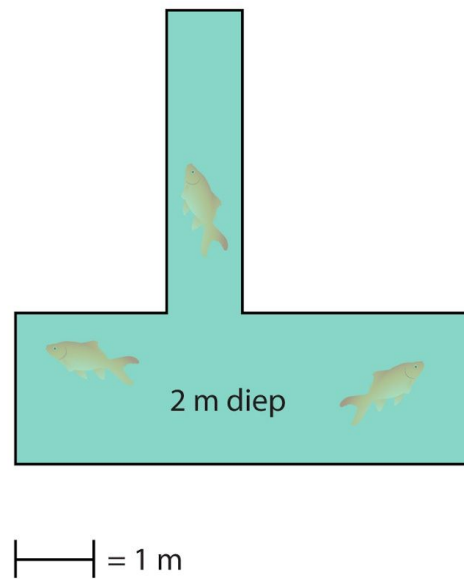


—| = 1 m


**Opgave 15** Wat is de oppervlakte en inhoud?  
 Vul het antwoord in op je scherm.



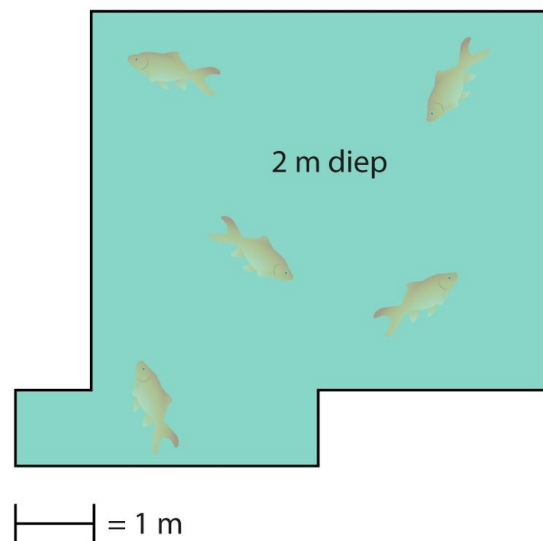
**Opgave 16** Wat is de oppervlakte en inhoud?  
 Vul het antwoord in op je scherm.



**Opgave 17** Wat is de oppervlakte en inhoud?  
 Vul het antwoord in op je scherm.



**Opgave 18** Wat is de oppervlakte en inhoud?  
 Vul het antwoord in op je scherm.



**Opgave 19** Wat is de oppervlakte en inhoud?

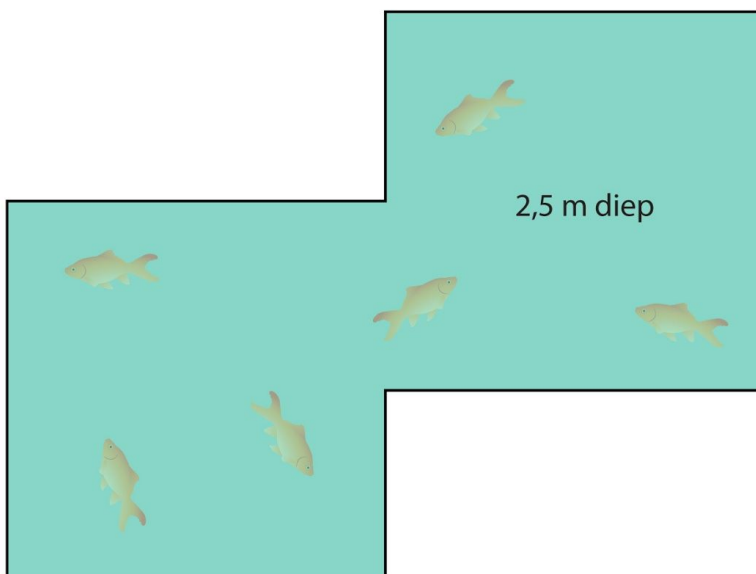
Vul het antwoord in op je scherm.



— = 1 m

**Opgave 20** Wat is de oppervlakte en inhoud?

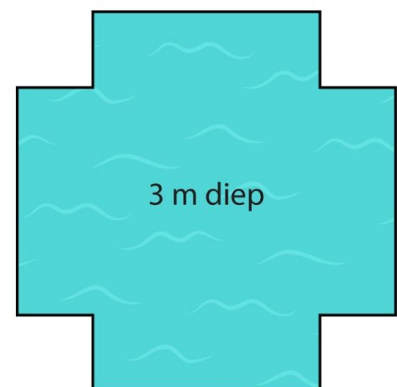
Vul het antwoord in op je scherm.



— = 1 m

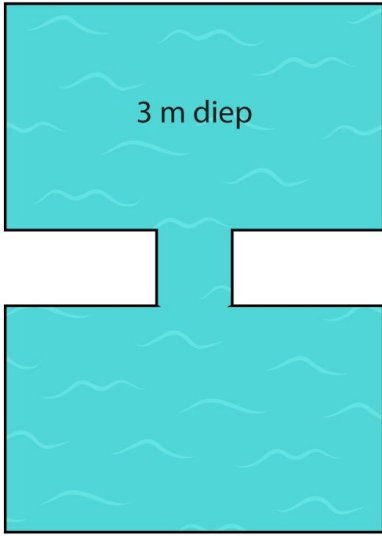
**Opgave 21** Wat is de oppervlakte?

Vul het antwoord in op je scherm.



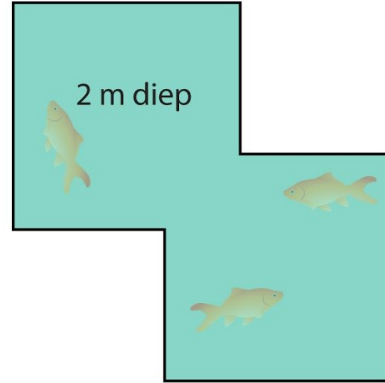
— = 1 m

**Opgave 22** Wat is de oppervlakte en inhoud?  
 Vul het antwoord in op je scherm.



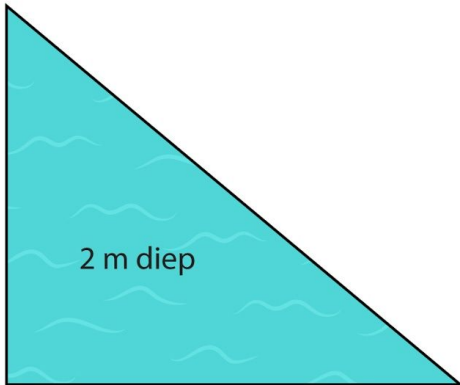
—| = 1 m

**Opgave 23** Wat is de oppervlakte en inhoud?  
 Vul het antwoord in op je scherm.



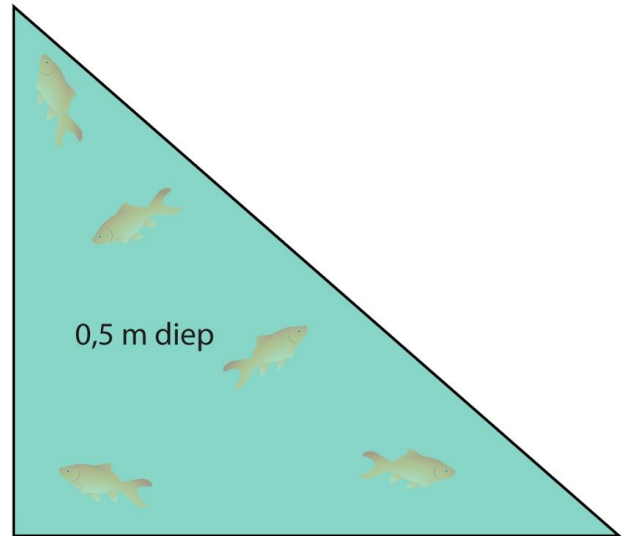
—| = 1 m

**Opgave 24** Wat is de oppervlakte en inhoud?  
 Vul het antwoord in op je scherm.



—| = 1 m

**Opgave 25** Wat is de oppervlakte en inhoud?  
 Vul het antwoord in op je scherm.



—| = 1 m

**Opgave 26** Wat is de oppervlakte en inhoud?

Vul het antwoord in op je scherm.

 $\text{---} = 1 \text{ m}$ **Opgave 27** Wat is de oppervlakte en inhoud?

Vul het antwoord in op je scherm.

 $\text{---} = 1 \text{ m}$

**Opgave 28 Welk zwembad heeft meer inhoud, zwembad 2 of zwembad 3?**

Vul het antwoord in op je scherm.

**Opgave 30 Welk zwembad heeft de meeste inhoud?**

Vul het antwoord in op je scherm.

**Opgave 29 Welk zwembad heeft meer inhoud, zwembad 5 of zwembad 6?**

Vul het antwoord in op je scherm.

