


Meten 009

Eiland: Lengte met schaalverhouding
Doel: Bepalen van schaal via opmeten



Opgave 1 Wat is de schaal?

Vul het antwoord in op je scherm.



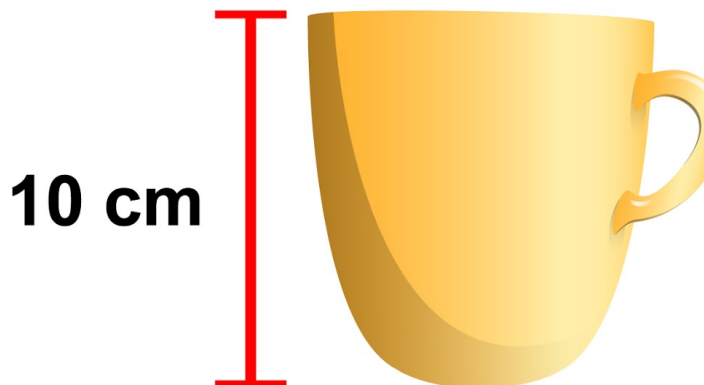
Opgave 2 Wat is de schaal?

Vul het antwoord in op je scherm.



Opgave 3 Wat is de schaal?

Vul het antwoord in op je scherm.



Opgave 4 Wat is de schaal?

Vul het antwoord in op je scherm.




Opgave 5 Wat is de schaal?

Vul het antwoord in op je scherm.



Opgave 6 Wat is de schaal?

Vul het antwoord in op je scherm.




Opgave 7 Wat is de schaal?

Vul het antwoord in op je scherm.



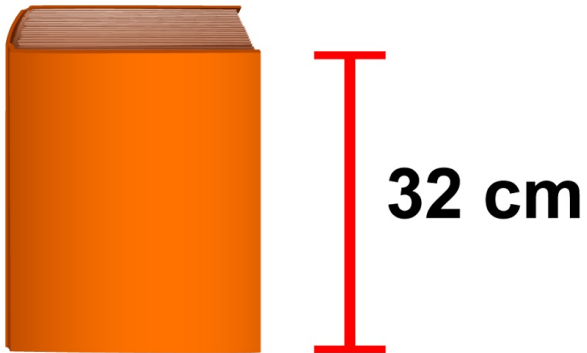
Opgave 8 Wat is de schaal?

Vul het antwoord in op je scherm.




Opgave 9 Wat is de schaal?

Vul het antwoord in op je scherm.



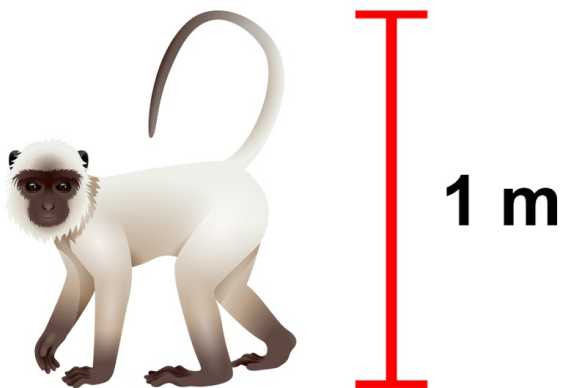
Opgave 10 Wat is de schaal?

Vul het antwoord in op je scherm.



Opgave 11 Wat is de schaal?

Vul het antwoord in op je scherm.



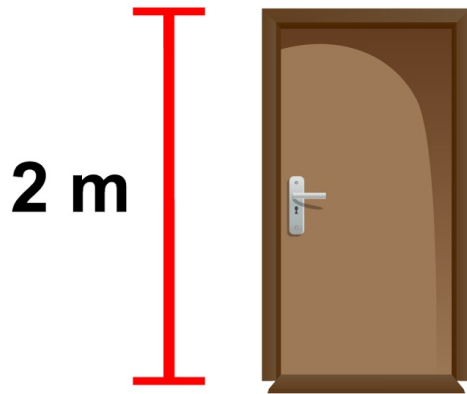
Opgave 12 Wat is de schaal?

Vul het antwoord in op je scherm.

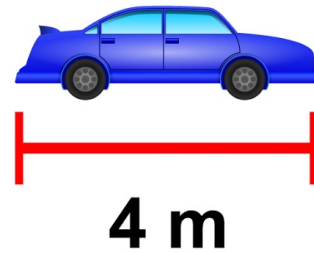


Opgave 13 Wat is de schaal?

Vul het antwoord in op je scherm.

**Opgave 14** Wat is de schaal?

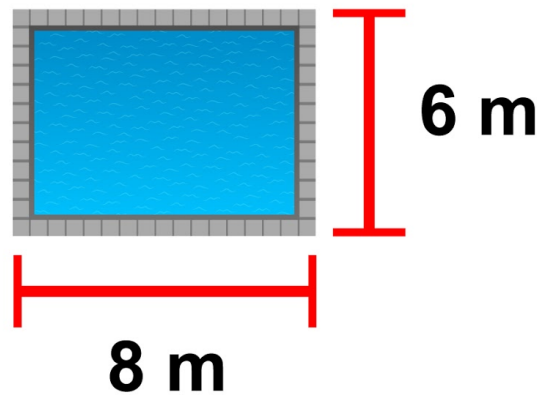
Vul het antwoord in op je scherm.

**Opgave 15** Wat is de schaal?

Vul het antwoord in op je scherm.

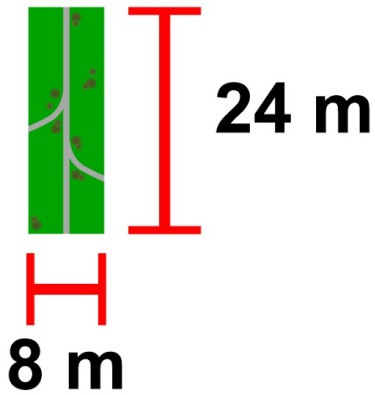
**Opgave 16** Wat is de schaal?

Vul het antwoord in op je scherm.



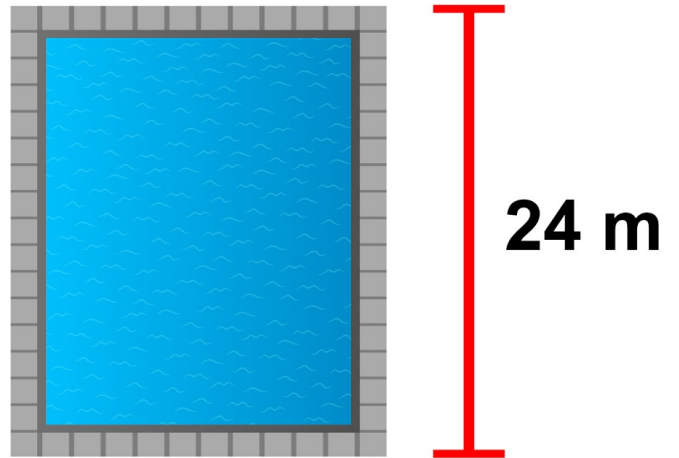
Opgave 17 Wat is de schaal?

Vul het antwoord in op je scherm.



Opgave 18 Wat is de schaal?

Vul het antwoord in op je scherm.



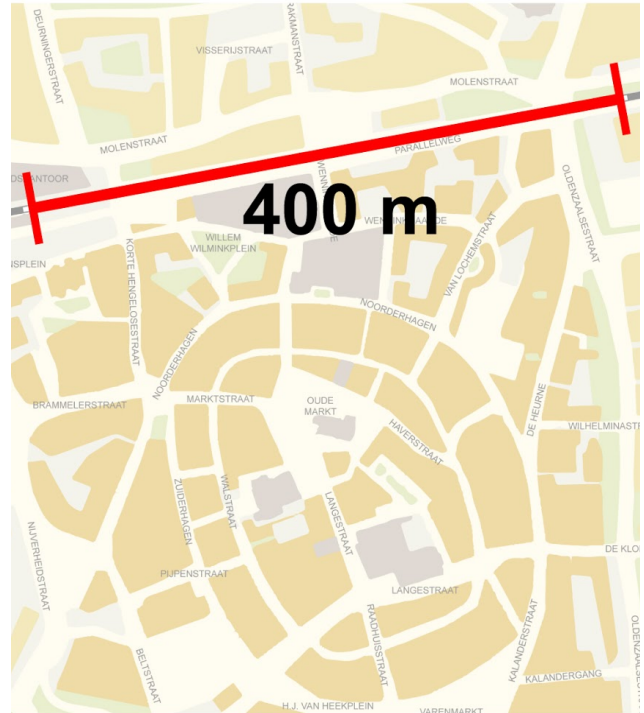
Opgave 19 Wat is de schaal?

Vul het antwoord in op je scherm.



Opgave 20 Wat is de schaal?

Vul het antwoord in op je scherm.



Opgave 21 Wat is de schaal?

Vul het antwoord in op je scherm.



Opgave 22 Wat is de schaal?

Vul het antwoord in op je scherm.



Opgave 23 Wat is de schaal?

Vul het antwoord in op je scherm.



Opgave 24 Wat is de schaal?

Vul het antwoord in op je scherm.



Opgave 25 Wat is de schaal?

Vul het antwoord in op je scherm.



Opgave 26 Wat is de schaal?

Vul het antwoord in op je scherm.



Opgave 27 Wat is de schaal?

Vul het antwoord in op je scherm.



Opgave 28 Wat is de schaal?

Vul het antwoord in op je scherm.



Opgave 29 Wat is de schaal?

Vul het antwoord in op je scherm.



Opgave 30 Wat is de schaal?

Vul het antwoord in op je scherm.

