

Tabellen en Grafieken 004

Eiland: Lijngrafieken tekenen
Doel: Teken van een lijngrafiek op basis van een tabel



Liniaal



Potlood



Kleurpotloden

Bij elke opdracht moet je de informatie uit de tabel in een lijngrafiek zetten. Dit kan op de volgende pagina van dit werkblad.

Opgave 1 Temperatuur per dagdeel.

dagdeel	's ochtends	's middags	's avonds
temperatuur	4 °C	9 °C	3 °C

Opgave 2 Leeftijdsgebonden zakgeld.

leeftijd	8 jaar	9 jaar	10 jaar	11 jaar
euro's zakgeld	€ 5,-	€ 6,-	€ 8,-	€ 10,-

Opgave 3 Uren huiswerk per week.

week	week 1	week 2	week 3	week 4	week 5
aantal uren huiswerk	10	8	5	2	8

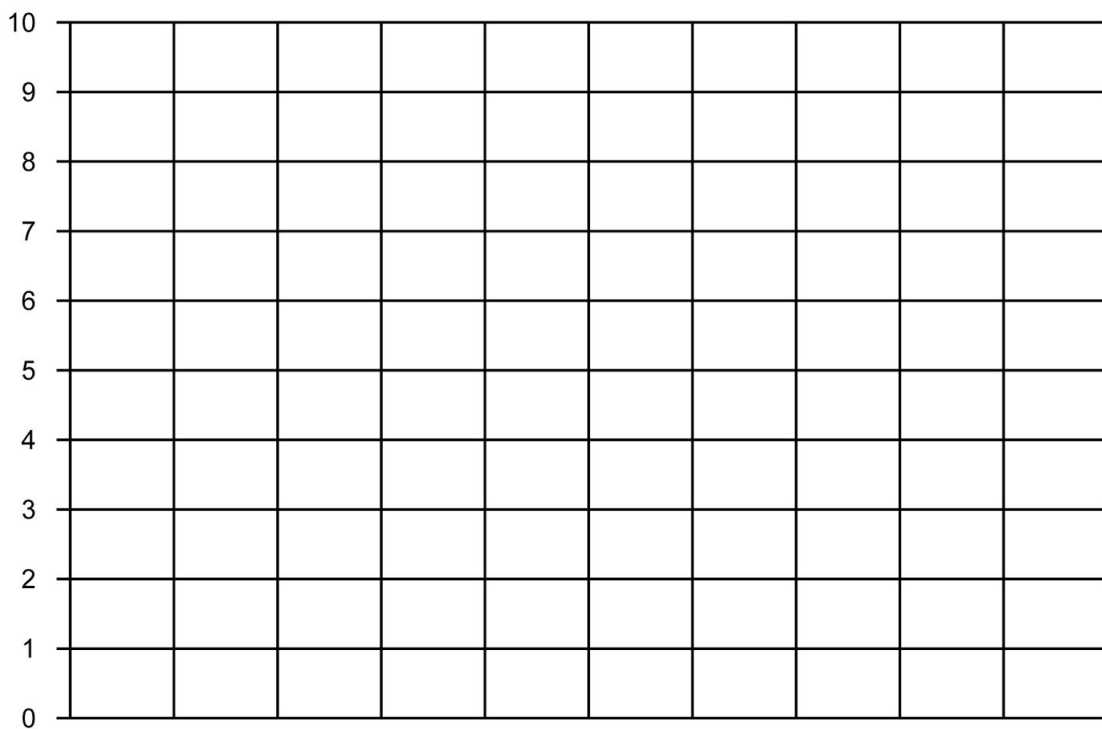
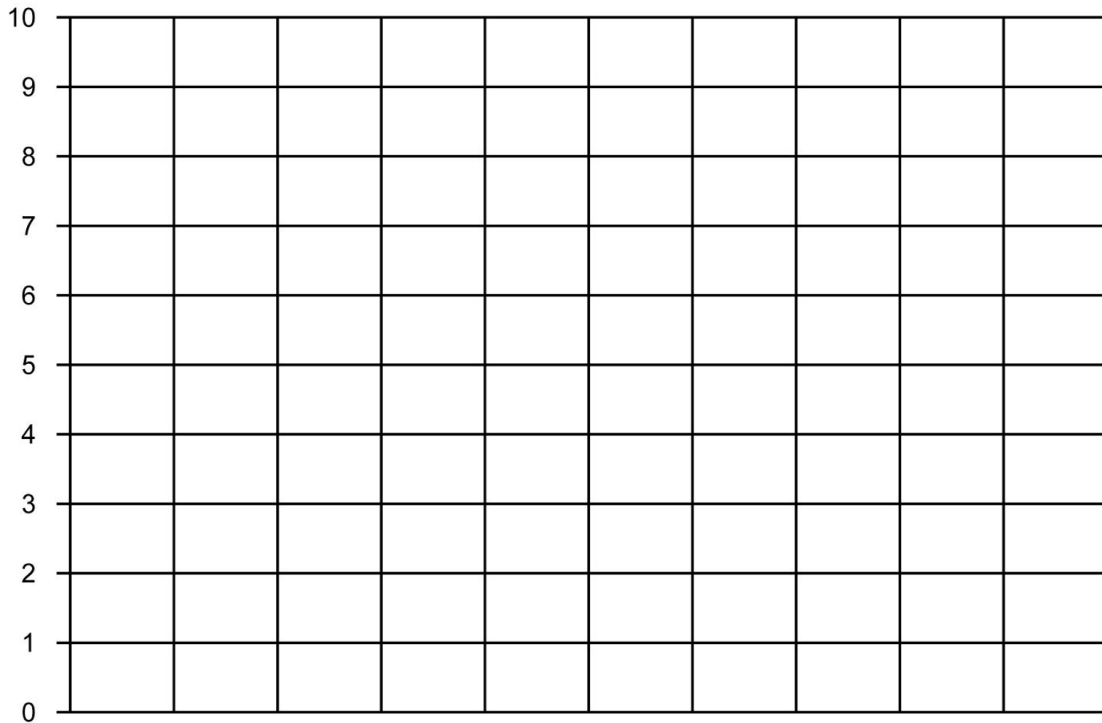
Opgave 4 Temperatuur per maand.

maand	november	december	januari	februari	maart	april
gemiddelde nachttemperatuur	2 °C	3 °C	5 °C	5 °C	7 °C	9 °C

Opgave 5 Uren regen per dag.

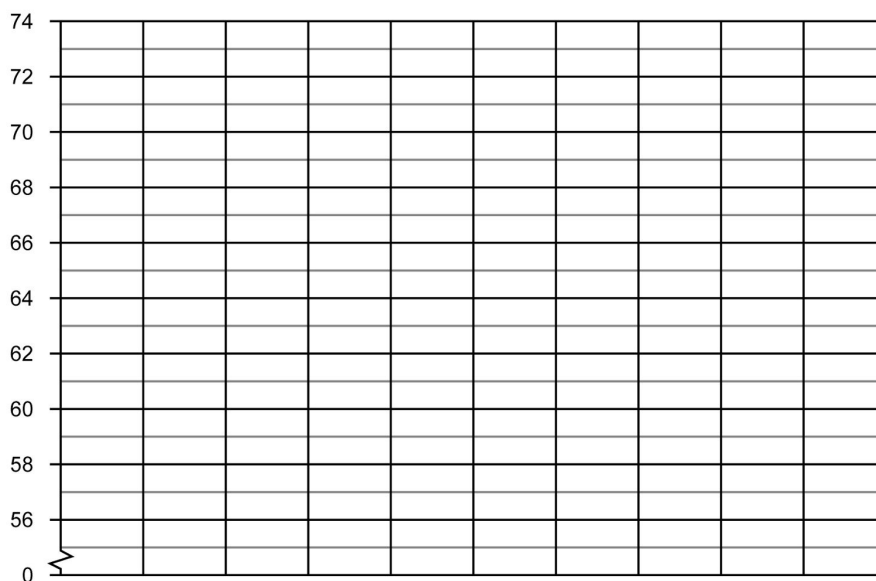
dag	maandag	dinsdag	woensdag	donderdag	vrijdag	zaterdag	zondag
aantal uren regen per dag	5	2	4	4	1	5	8

Hieronder kun je de lijngrafieken met getallen tot 10 tekenen. Deze kun je gebruiken bij opdracht 1 t/m 5. Zet het opdrachtnummer erbij.



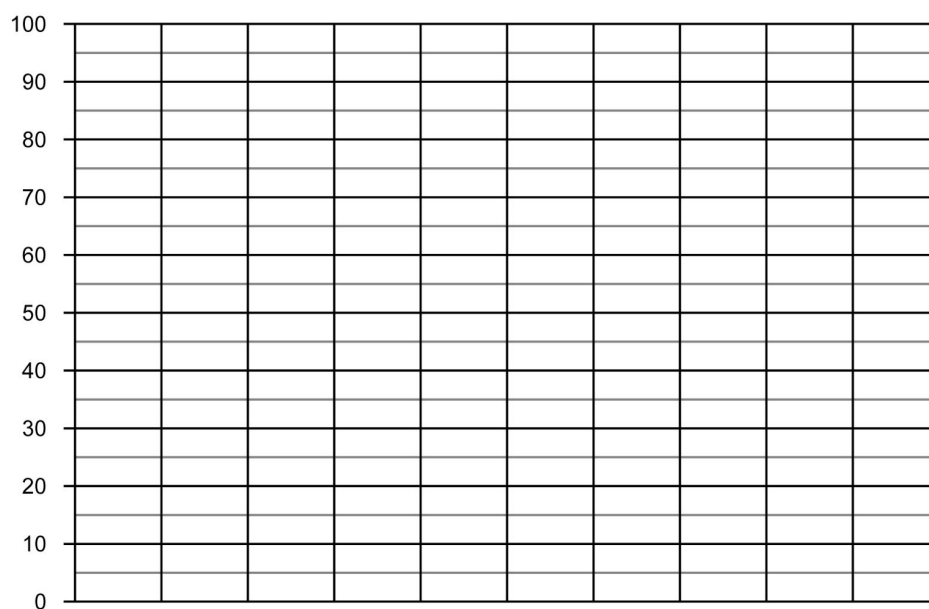
Opgave 6 Gemiddelde lengte baby's.

leeftijd in maanden	maand 1	maand 2	maand 3
lengte van een baby in cm	58	60	64



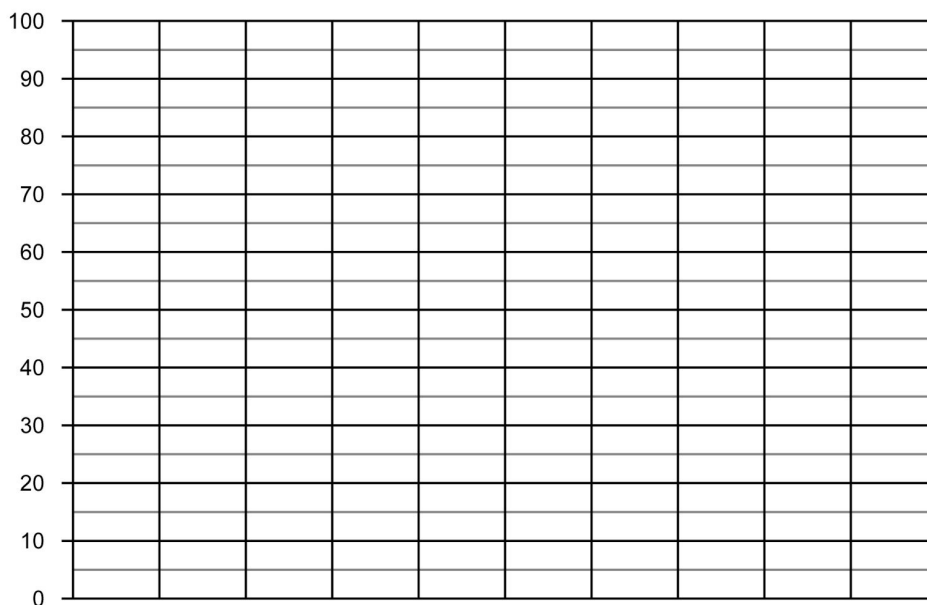
Opgave 7 Wekelijkse ijsverkoop.

week	week 1	week 2	week 3	week 4
aantal verkochte ijsjes	15	80	65	50



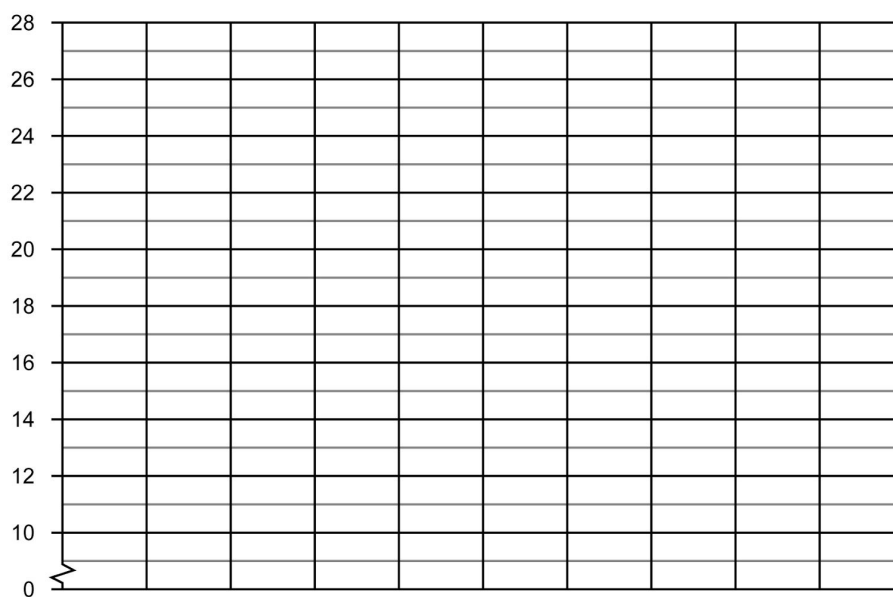
Opgave 8 Kinderen met huisdieren.

dag	maandag	dinsdag	woensdag	donderdag	vrijdag
aantal klanten in de winkel	80	75	90	55	60



Opgave 9 Aantal kinderen per groep.

maand	februari	maart	april	mei	juni	juli
temperatuur	12 °C	15 °C	18 °C	19 °C	21 °C	22 °C

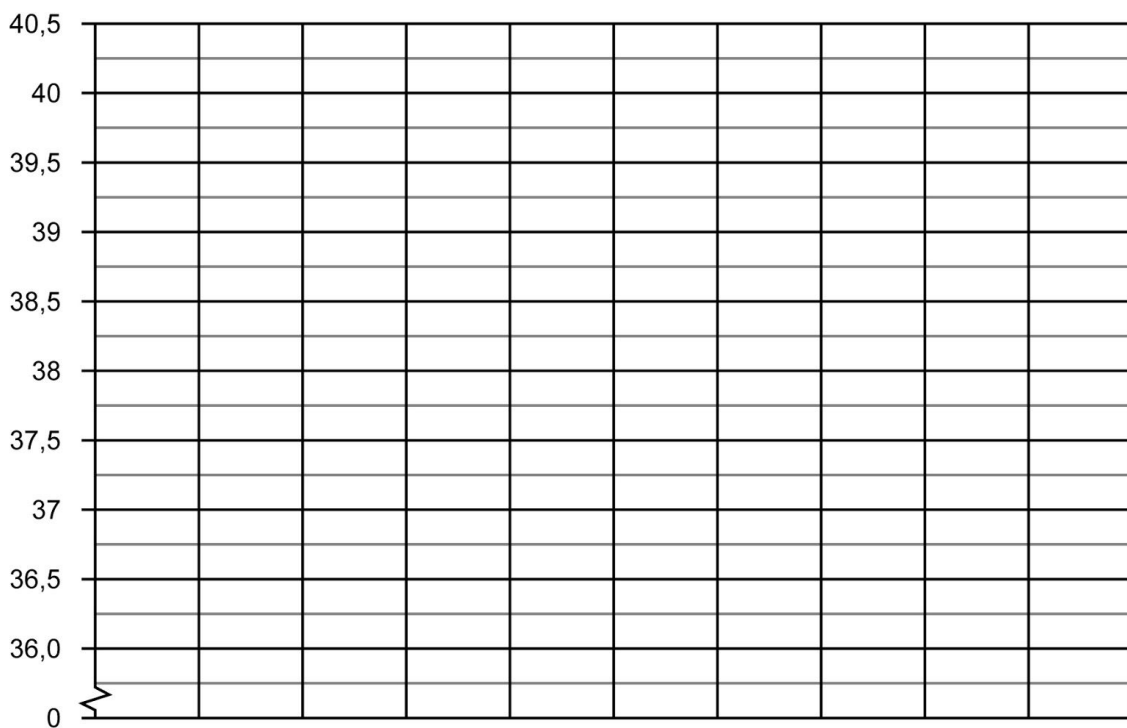


Opgave 10 Gemeten lichaamstemperatuur per dag.



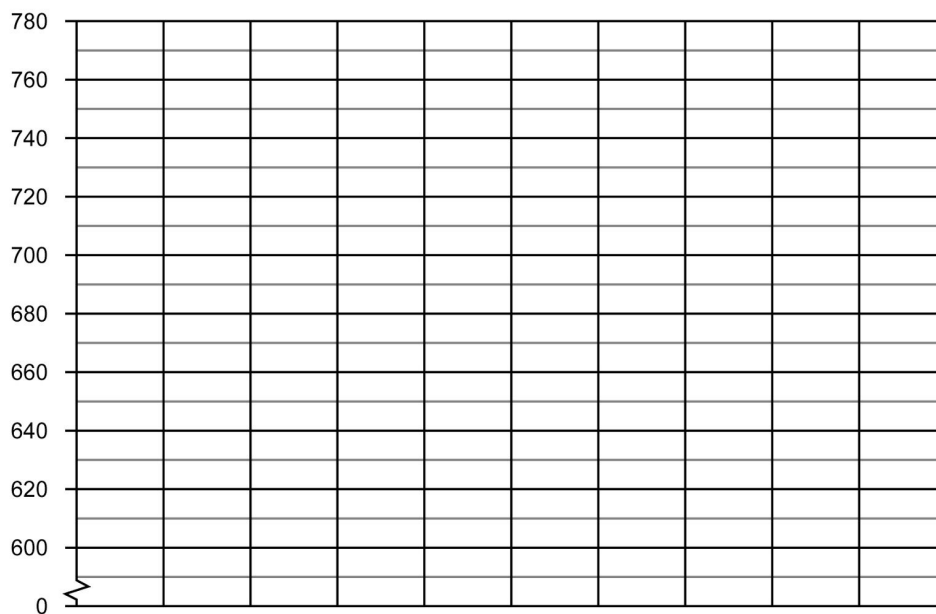
Ik heb uw temperatuur de hele week gemeten.

- Op maandag 37,5 °C
- Op dinsdag 39 °C
- Op woensdag 40,5 °C
- Op donderdag 38,5 °C
- Op vrijdag 40 °C
- Op zaterdag 39,5°C
- Op zondag 37,5 °C



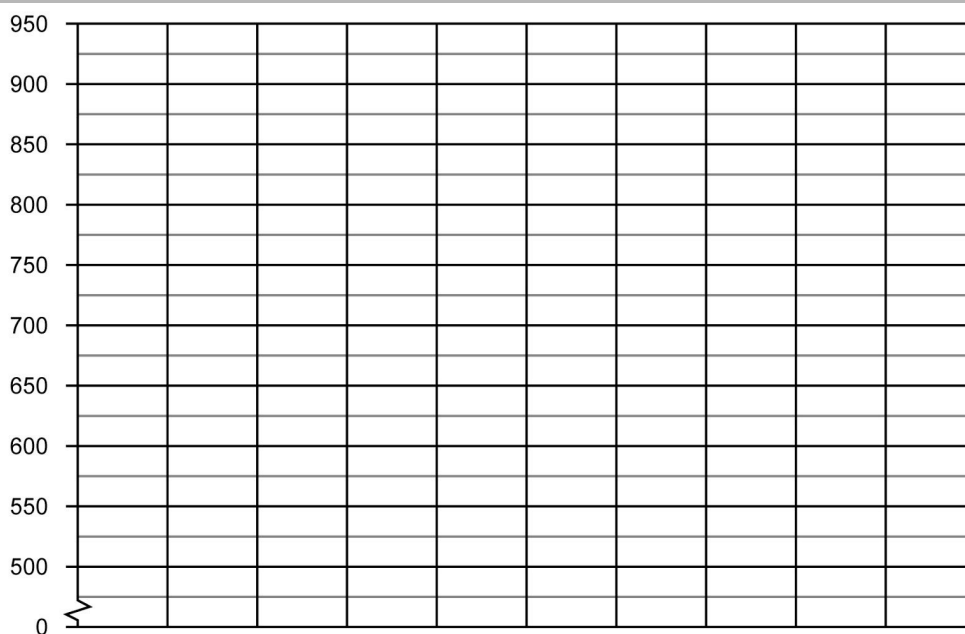
Opgave 11 Gewicht puppy.

dag	dag 1	dag 2	dag 3
gewicht van een puppy in gram	600	620	740



Opgave 12 Bezoekers dierentuin De Grote Beer.

maand	juni	juli	augustus	oktober
aantal bezoekers	600	525	875	650



Bij elke opdracht moet je de informatie uit de tabel in een lijngrafiek zetten. Dit kan op de volgende pagina van dit werkblad.

Opgave 13 Tablet-verkoop in winkels.

winkel	Gigant	Techneut	Media	Megabite	Gigabite
aantal verkochte tablets	150	800	550	450	700

Opgave 14 Wekelijkse bezoekers museum.

week	week 1	week 2	week 3	week 4	week 5	week 6
aantal bezoekers museum	250	900	400	550	750	400

Opgave 15 Dagelijks bezorgde brieven.

dagen	maandag	dinsdag	woensdag	donderdag	vrijdag	zaterdag	zondag
aantal bezorgde brieven	950	500	450	600	800	350	50

Hieronder kun je de lijngrafieken met getallen tot 1000 tekenen. Deze kun je gebruiken bij opdracht 13 t/m 15. Zet het opdrachtnummer erbij.

