

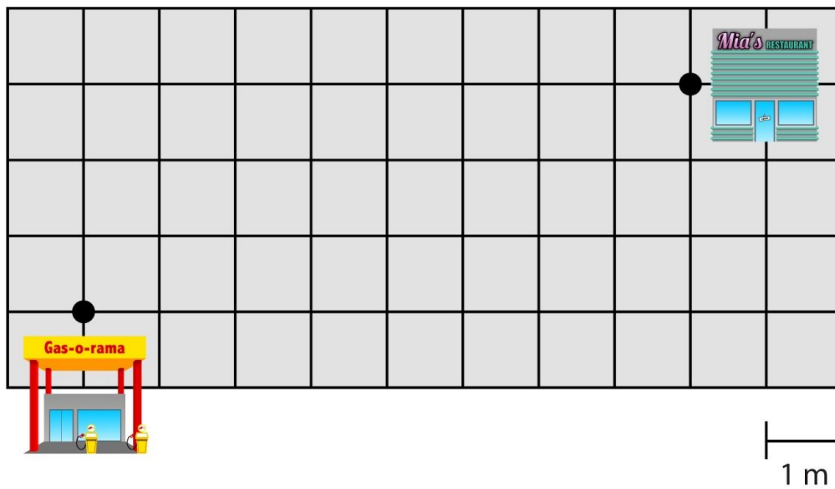
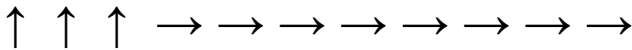
Meetkunde 026

Eiland: Kaartlezen
Doel: Bepalen van een route met pijlen



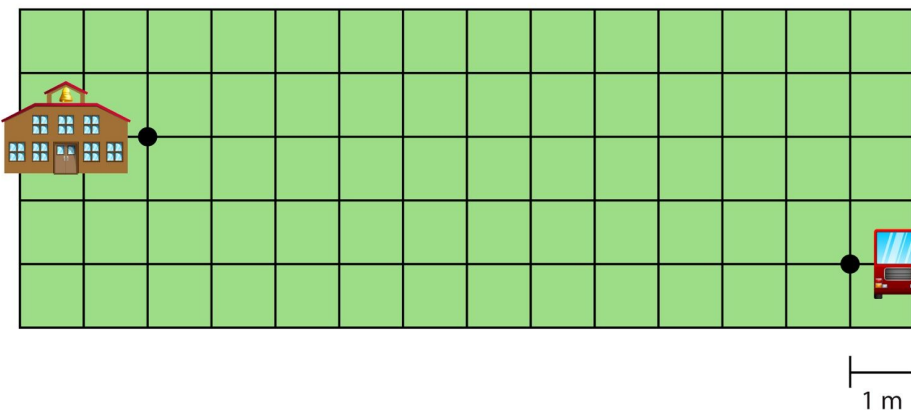
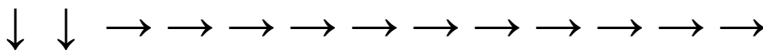
Opgave 1 Teken de route van het tankstation naar het restaurant.

Kijk goed naar de pijlen. Elke pijl is een streepje langs een hokje in die richting.



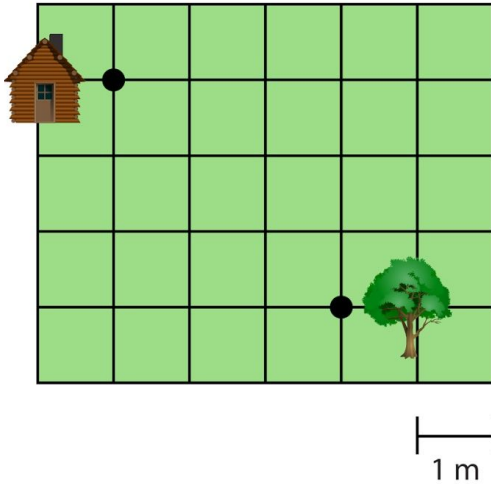
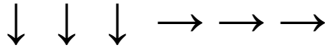
Opgave 2 Teken de route van de school naar de bus.

Kijk goed naar de pijlen. Elke pijl is een streepje langs een hokje in die richting.



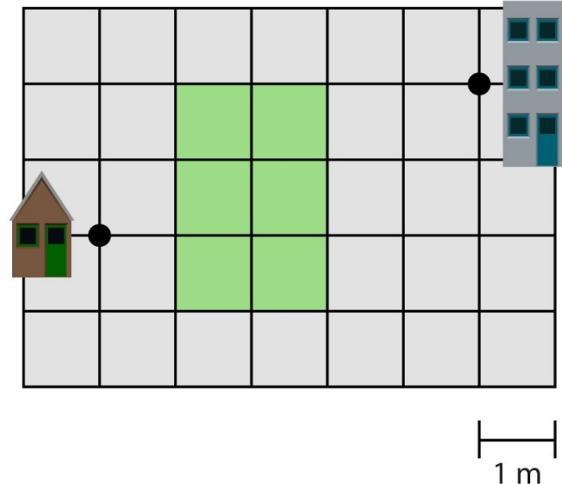
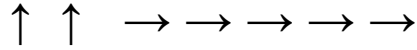
Opgave 3 Teken de route van het huis naar de boom.

Kijk goed naar de pijlen. Elke pijl is een streepje langs een hokje in die richting.



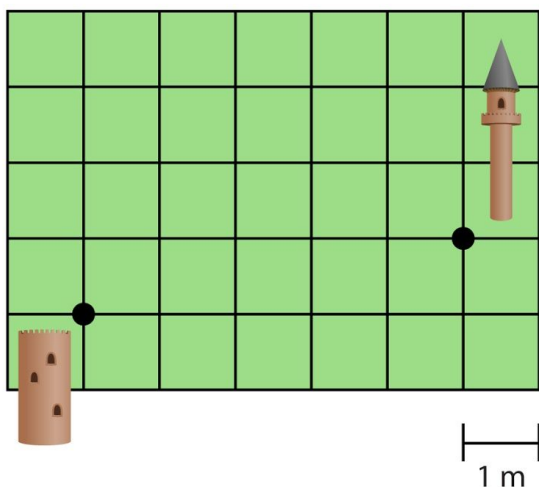
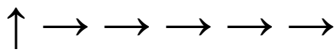
Opgave 4 Teken de route van het huis naar het kantoor.

Kijk goed naar de pijlen. Elke pijl is een streepje langs een hokje in die richting.



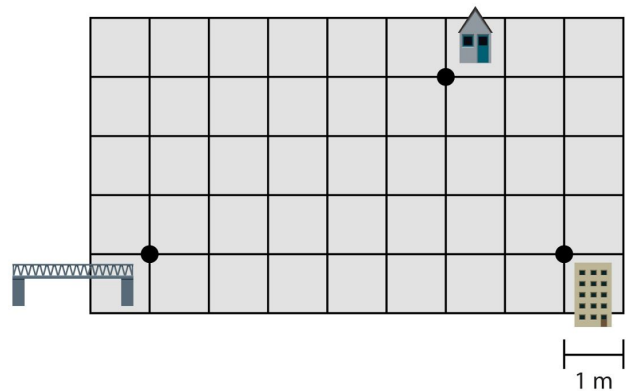
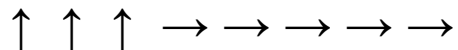
Opgave 5 Teken de route van de ene naar de andere toren.

Kijk goed naar de pijlen. Elke pijl is een streepje langs een hokje in die richting.



Opgave 6 Teken de route van de brug naar het huis.

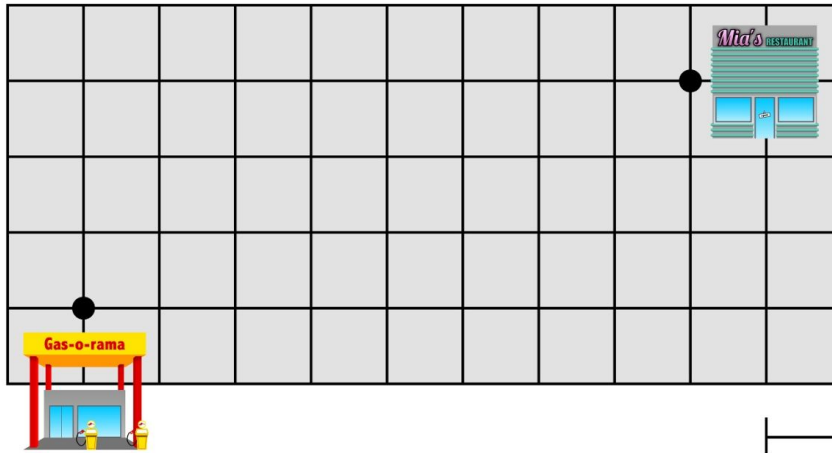
Kijk goed naar de pijlen. Elke pijl is een streepje langs een hokje in die richting.



Opgave 7 Teken de route van het tankstation naar het restaurant.

Kijk goed naar de pijlen. Elke pijl is een streepje langs een hokje in die richting.

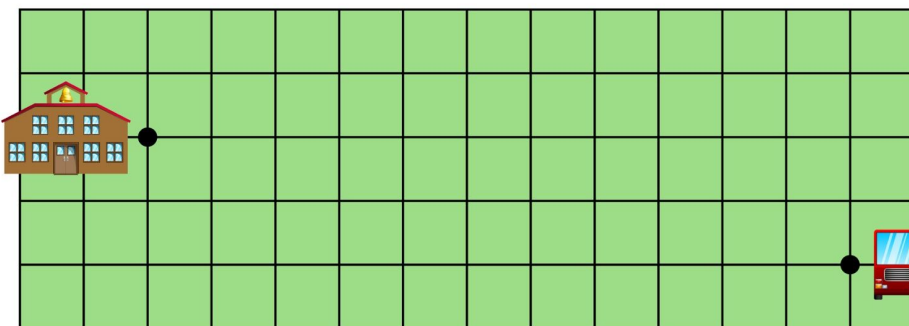
↑ → ↑ → ↑ → → → → → →



Opgave 8 Teken de route van de school naar de bus.

Kijk goed naar de pijlen. Elke pijl is een streepje langs een hokje in die richting.

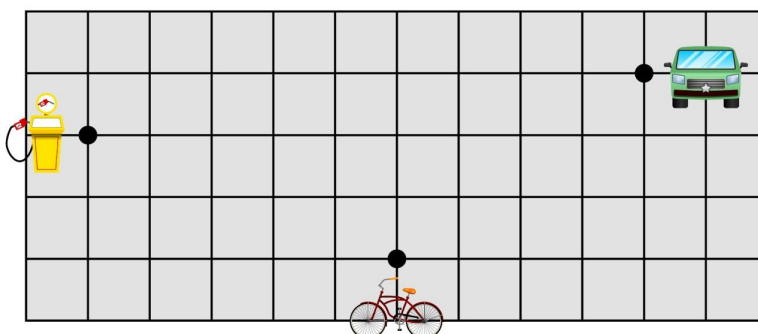
→ ↓ → ↓ → → → → → → → → →



Opgave 9 Teken de route van de auto naar de pomp.

Kijk goed naar de pijlen. Elke pijl is een streepje langs een hokje in die richting.

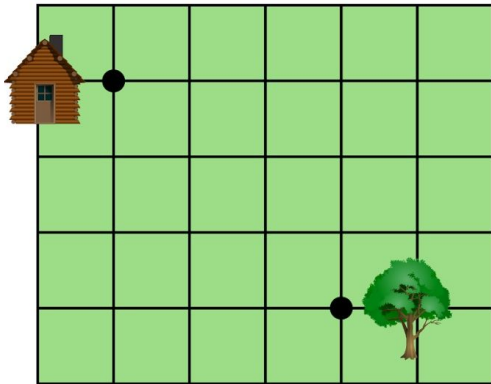
← ↓ ← ← ← ← ← ← ← ←



Opgave 10 Teken de route van het huis naar de boom.

Kijk goed naar de pijlen. Elke pijl is een streepje langs een hokje in die richting.

→ ↓ → ↓ → ↓

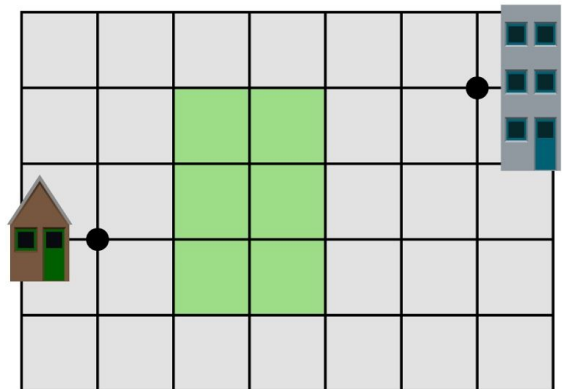


1 m

Opgave 11 Teken de route van het huis naar het kantoor.

Kijk goed naar de pijlen. Elke pijl is een streepje langs een hokje in die richting.

→ ↑ → ↑ → → →

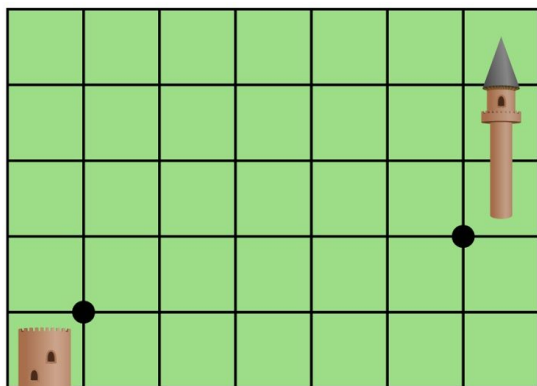


1 m

Opgave 12 Teken de route van de ene naar de andere toren.

Kijk goed naar de pijlen. Elke pijl is een streepje langs een hokje in die richting.

→ ↑ → → → →

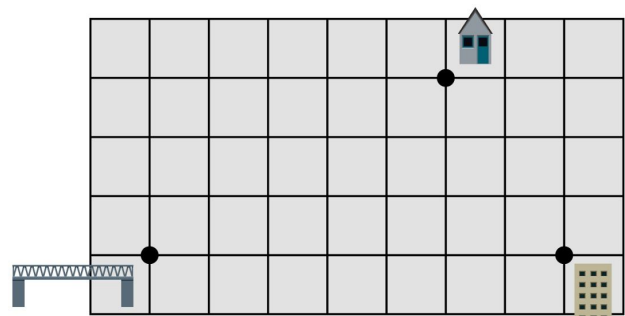


1 m

Opgave 13 Teken de route van de brug naar het huis.

Kijk goed naar de pijlen. Elke pijl is een streepje langs een hokje in die richting.

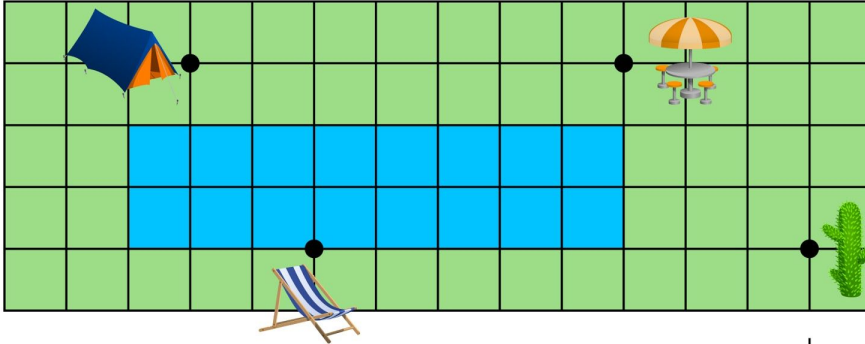
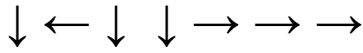
→ ↑ → ↑ → ↑ → →



1 m

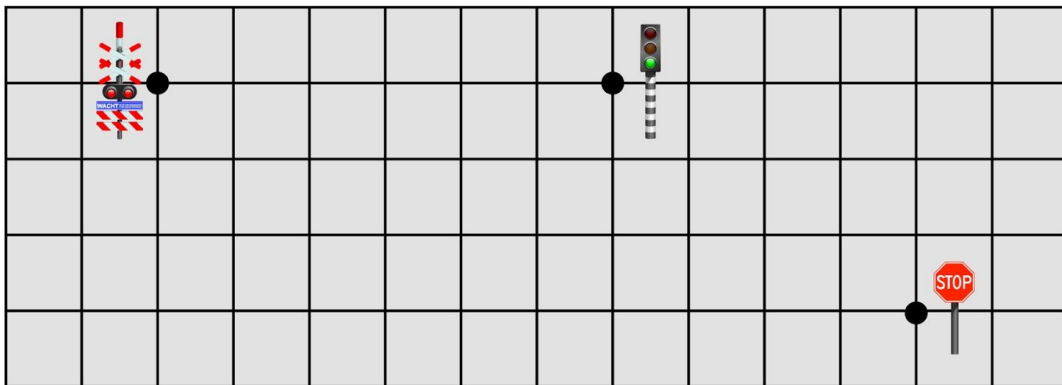
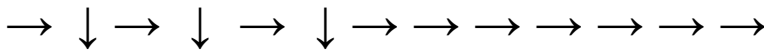
Opgave 14 Teken de route van de tent naar de ligstoel

Kijk goed naar de pijlen. Elke pijl is een streepje langs een hokje in die richting.



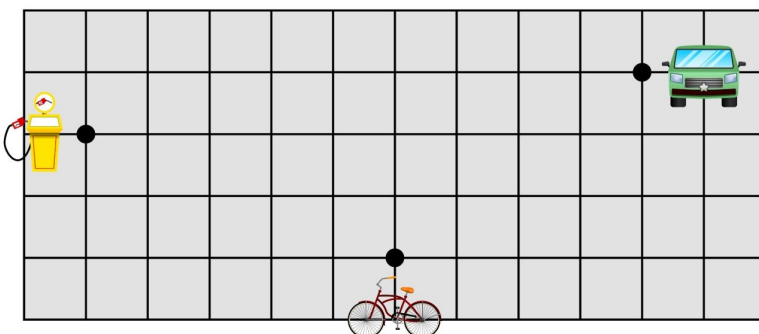
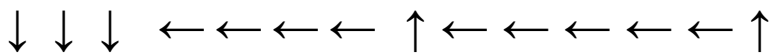
Opgave 15 Teken de route van de spoorovergang naar het stopbord.

Kijk goed naar de pijlen. Elke pijl is een streepje langs een hokje in die richting.



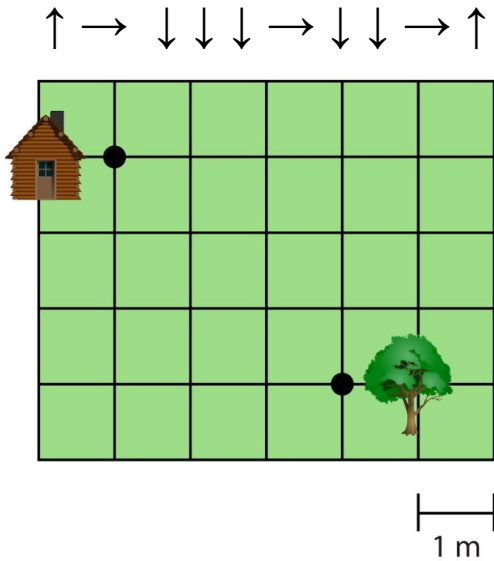
Opgave 16 Teken de route van de auto naar de pomp.

Kijk goed naar de pijlen. Elke pijl is een streepje langs een hokje in die richting.



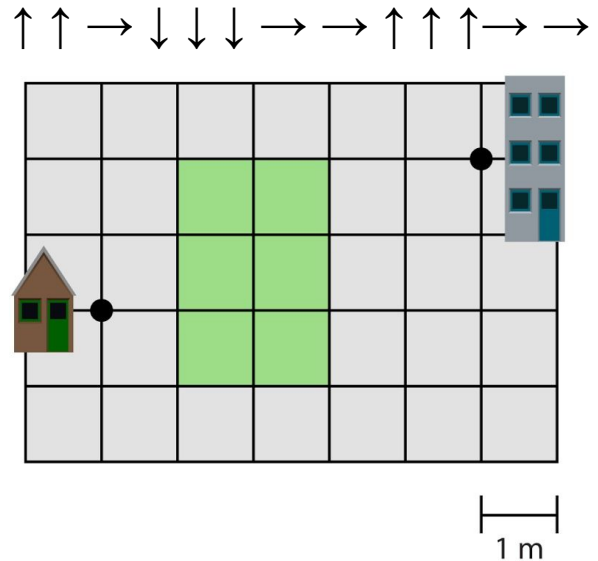
Opgave 17 Teken de route van het huis naar de boom.

Kijk goed naar de pijlen. Elke pijl is een streepje langs een hokje in die richting.



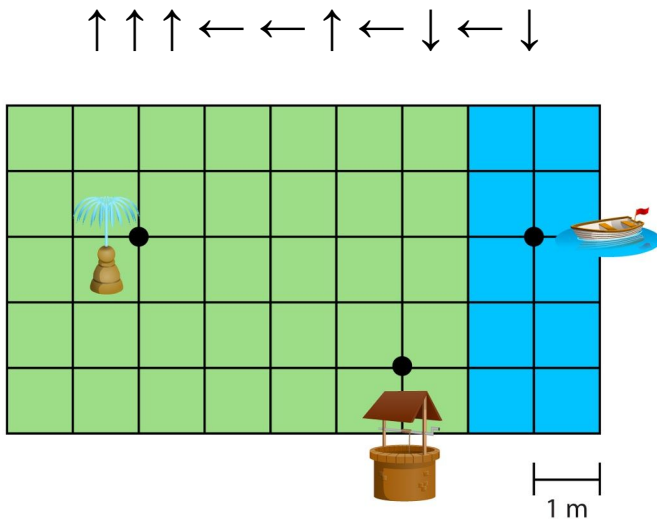
Opgave 18 Teken de route van het huis naar het kantoor.

Kijk goed naar de pijlen. Elke pijl is een streepje langs een hokje in die richting.



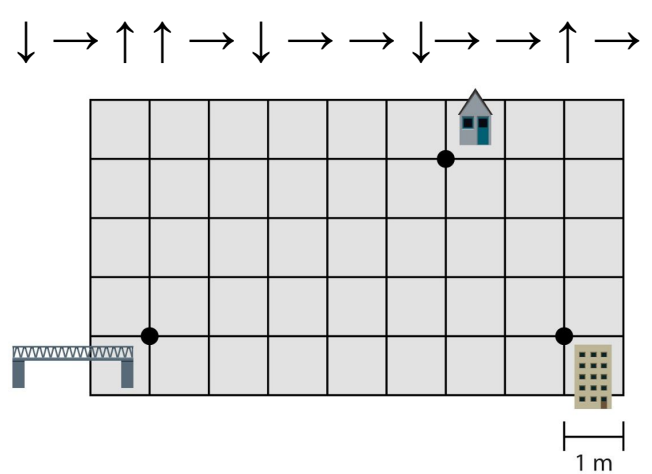
Opgave 19 Teken de route van de put naar de fontein.

Kijk goed naar de pijlen. Elke pijl is een streepje langs een hokje in die richting.



Opgave 20 Teken de route van de brug naar de flat.

Kijk goed naar de pijlen. Elke pijl is een streepje langs een hokje in die richting.



Opgave 21 Teken de route van de ligstoel naar de parasol.

Kijk goed naar de pijlen. Elke pijl is een streepje langs een hokje in die richting.

← ← ← ↑ ↑ → ↑ → → → → → → ↓ → ↑

Opgave 22 Teken de route van het stopbord naar het stoplicht.

Kijk goed naar de pijlen. Elke pijl is een streepje langs een hokje in die richting.

← ← ← ↓ ← ↑ ← ↑ ↑ ↑ →

Opgave 23 Teken de route van de bus naar de school.

Kijk goed naar de pijlen. Elke pijl is een streepje langs een hokje in die richting.

↑ ↑ ↑ ↑ ← ← ← ↓ ↓ ↓ ← ↑ ← ↑ ← ← ← ↑ ← ↓ ← ↓ ←