

Getalbegrip 018




Eiland: Tellen van hoeveelheden
Doel: Maken van groepjes met hoeveelheden t/m 20

Opgave 1 Maak 6 groepjes van 2.




Opgave 2 Hoeveel groepjes van 2?

Vul het antwoord in op je scherm.




Opgave 3 Maak 5 groepjes van 3.




Opgave 4 Hoeveel groepjes van 3?

Vul het antwoord in op je scherm.

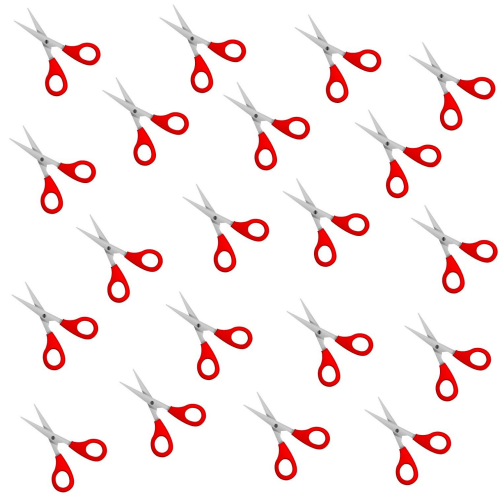


Opgave 5 Maak 4 groepjes van 4.



Opgave 6 Hoeveel groepjes van 4?

Vul het antwoord in op je scherm.




Opgave 7 Maak 3 groepjes van 5.



Opgave 8 Hoeveel groepjes van 5?

Vul het antwoord in op je scherm.




Opgave 9 Maak 3 groepjes van 6.



Opgave 10 Hoeveel groepjes van 6?

Vul het antwoord in op je scherm.




Opgave 11 Maak 2 groepjes van 7.




Opgave 12 Hoeveel groepjes van 7?

Vul het antwoord in op je scherm.




Opgave 13 Maak 2 groepjes van 8.




Opgave 14 Hoeveel groepjes van 8?

Vul het antwoord in op je scherm.




Opgave 15 Maak 2 groepjes van 9.



Opgave 16 Hoeveel groepjes van 9?


Vul het antwoord in op je scherm.




Opgave 17 Maak 2 groepjes van 10.



Opgave 18 Hoeveel groepjes van 10?
Vul het antwoord in op je scherm.



Opgave 19 Maak groepjes van 2. Hoeveel hou je over?
Vul het antwoord in op je scherm.




Opgave 20 Maak groepjes van 3. Hoeveel hou je over?
Vul het antwoord in op je scherm.




Opgave 21 Maak groepjes van 4. Hoeveel hou je over?

Vul het antwoord in op je scherm.




Opgave 22 Maak groepjes van 5. Hoeveel hou je over?

Vul het antwoord in op je scherm.



Opgave 23 Maak groepjes van 6. Hoeveel hou je over?

Vul het antwoord in op je scherm.




Opgave 24 Maak groepjes van 7. Hoeveel hou je over?

Vul het antwoord in op je scherm.




Opgave 25 Maak groepjes van 8. Hoeveel hou je over?

Vul het antwoord in op je scherm.




Opgave 26 Maak groepjes van 9. Hoeveel hou je over?

Vul het antwoord in op je scherm.



Opgave 27 Maak groepjes van 10. Hoeveel hou je over?

Vul het antwoord in op je scherm.




Opgave 28 Maak groepjes en tel het aantal sterren.

Vul het antwoord in op je scherm.




Opgave 29 Maak groepjes en tel het aantal ballonnen.

Vul het antwoord in op je scherm.




Opgave 30 Maak groepjes en tel het aantal druppels.

Vul het antwoord in op je scherm.



Opgave 31 Maak groepjes en tel het aantal stiften.

Vul het antwoord in op je scherm.



Opgave 32 Maak groepjes en tel het aantal dobbelstenen.

Vul het antwoord in op je scherm.

