

Procenten, Breuken & Verhoudingen 006

Eiland: Rekenen met verhoudingen en aantallen
Doel: Kleuren van aantallen in verhouding



Opgave 1 Hoeveel bakjes?
Kleur het aantal.



Opgave 2 Hoeveel bakjes?
Kleur het aantal.



Opgave 3 Hoeveel bakjes?
Kleur het aantal.







Opgave 4 Hoeveel bakjes?
Kleur het aantal.



Opgave 5 Hoeveel bakjes?
Kleur het aantal.






Opgave 6 Hoeveel boterhammen?

Kleur het aantal.




Opgave 7 Hoeveel boterhammen?

Kleur het aantal.




Opgave 8 Hoeveel boterhammen?


Kleur het aantal.




Opgave 9 Hoeveel boterhammen?

Kleur het aantal.

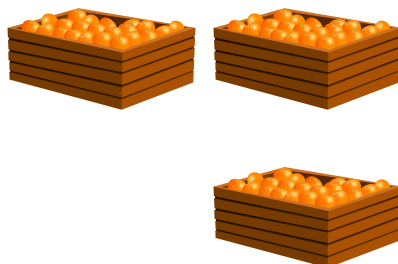




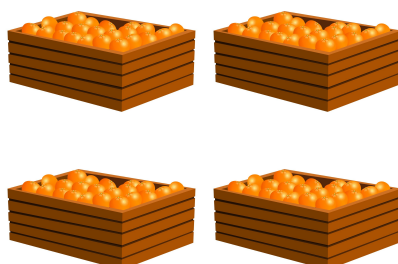
Opgave 10 Hoeveel kannen?
Kleur het aantal.



Opgave 11 Hoeveel kannen?
Kleur het aantal.




Opgave 12 Hoeveel kannen?
Kleur het aantal.





Opgave 13 Hoeveel stukken?
Kleur het aantal.



Opgave 14 Hoeveel stukken?
Kleur het aantal.

