

Tabellen en Grafieken 008

Eiland: Tabellen maken

Doel: Ordenen van meervoudige informatie in een eigen tabel



Liniaal



Potlood

Bij elke opdracht moet je de informatie uit de afbeelding in een tabel zetten. Achterin dit werkblad vind je ruitjespapier waarop je de tabellen kunt tekenen.

Opgave 1 Station Den Bosch.


Eindhoven

Nijmegen

De trein naar Eindhoven vertrekt vanaf spoor 11 om 1 uur.

De trein naar Nijmegen vertrekt vanaf spoor 12 om half 2.

Opgave 2 Basisschool het Bouwblok.



In deze klas zitten 16 jongens en 8 meisjes.

In deze klas zitten 13 jongens en 15 meisjes.

Bij elke opdracht moet je de informatie uit de afbeelding in een tabel zetten. Achterin dit werkblad vind je ruitjespapier waarop je de tabellen kunt tekenen.

Opgave 3 Creatieve workshops.



Voor de workshop tekenen hebben 64 mensen zich ingeschreven voor de workshop in de ochtend en 84 mensen voor de avond.

Voor de workshop schrijven hebben 46 mensen zich ingeschreven voor de workshop in de ochtend en 38 mensen voor de avond.

Opgave 4 Boeken in de bibliotheek.



In deze bibliotheek staan 85 informatieve boeken over dieren en 67 verhalen over sporten.

In deze bibliotheek staan 32 boeken over dieren en 44 informatieve boeken over dieren.

Opgave 5 Kleding in winkels.



De prijs voor een jurk is in deze winkel € 12,00 en de prijs voor een broek is hier € 45,00.

De prijs voor een jurk is in deze winkel € 24,00 en de prijs voor een broek is hier € 76,00.

Opgave 6 Gebakken broden.



Deze bakker heeft 65 bruine broden en 87 witte broden gebakken.


Deze bakker heeft 97 bruine broden gebakken en 43 witte broden.

Bij elke opdracht moet je de informatie uit de afbeelding in een tabel zetten. Achterin dit werkblad vind je ruitjespapier waarop je de tabellen kunt tekenen.

Opgave 7 Eigenschappen mobieltjes.



Deze telefoon maakt foto's van 12 megapixels en kan ook filmen.



Deze telefoon maakt foto's van 8 megapixels en kan niet filmen.

Opgave 8 Attracties op de kermis.



Een kaartje voor de Spinner kost hier € 2,00 en een kaartje voor de botsauto's kost € 1,00.



Een kaartje voor de Spinner kost hier € 2,50 en een kaartje voor de botsauto's kost € 2,00.

Opgave 9 Station Utrecht.




De trein naar Schiphol heeft 5 treindelen en rijdt 24 keer per dag.



De trein naar Enschede heeft 3 treindelen en rijdt 10 keer per dag.

Opgave 10 Basisschool de Wijzer.



In deze klas zitten 17 jongens en 14 meisjes.

In deze klas zitten 12 jongens en 15 meisjes.

Bij elke opdracht moet je de informatie uit de afbeelding in een tabel zetten. Achterin dit werkblad vind je ruitjespapier waarop je de tabellen kunt tekenen.

Opgave 11 Verschillende tablets.



Het scherm van deze tablet is 15 cm hoog en 21 cm breed.

Het scherm van deze tablet is 24 cm hoog en 36 cm breed.

Het scherm van deze tablet is 27 cm hoog en 40 cm breed.

Opgave 12 Toegangsprijzen musea.




Kinderen moeten hier € 2,00 betalen om naar binnen te komen en volwassenen moeten € 4,50 betalen.

Volwassenen moeten € 5,00 betalen om naar binnen te mogen voor € 2,50 naar binnen.

Kinderen moeten hier € 3,00 betalen om naar binnen te komen en volwassenen moeten € 4,00 betalen.

Opgave 13 Openbaar vervoer naar Utrecht




De Intercity naar Utrecht vertrekt om 13:00 en komt aan om 13:38.

De Sprinter naar Utrecht vertrekt om 12:39 en komt aan om 13:34.

De bus naar Utrecht vertrekt om 11:48 en komt aan om 13:40.

Opgave 14 Basisschool de Boomgaard.



In deze klas zitten 18 jongens en 15 meisjes.

In deze klas zitten 15 jongens en 16 meisjes.

In deze klas zitten 17 jongens en 14 meisjes.

Bij elke opdracht moet je de informatie uit de afbeelding in een tabel zetten. Achterin dit werkblad vind je ruitjespapier waarop je de tabellen kunt tekenen.

Opgave 15 Drie verschillende workshops.



Voor deze workshop hebben 26 zich ingeschreven via internet en 9 mensen met behulp van de telefoon.

Voor deze workshop hebben 43 zich ingeschreven via internet en 16 mensen met behulp van de telefoon.

Voor deze workshop hebben 65 zich ingeschreven via internet en 24 mensen met behulp van de telefoon.

Opgave 16 Boekenkasten in bibliotheken.



In deze bibliotheek staan 86 boekenkasten op 2 verdiepingen.

In deze bibliotheek staan 54 boekenkasten op 4 verdiepingen.

In deze bibliotheek staan 65 boekenkasten op 3 verdiepingen.

Opgave 17 Sokken in de winkels



In deze winkel is de prijs voor twee witte sokken € 4,00 en de prijs voor 2 zwarte sokken € 2,50.

In deze winkel is de prijs voor twee witte sokken € 3,00 en de prijs voor 2 zwarte sokken € 2,75.

In deze winkel is de prijs voor twee witte sokken € 3,50 en de prijs voor 2 zwarte sokken € 3,25.

Opgave 18 Station Zwolle



De trein naar Leeuwarden heeft 5 treindelen en rijdt 20 keer per dag.

De trein naar Groningen heeft 3 treindelen en rijdt 16 keer per dag.

De trein naar Assen heeft 2 treindelen en rijdt 12 keer per dag.

Bij elke opdracht moet je de informatie uit de afbeelding in een tabel zetten. Achterin dit werkblad vind je ruitjespapier waarop je de tabellen kunt tekenen.

Opgave 19 Kermissen Zuid-Holland

Opgave 20 Verschillende mobiele camera's.



Een kaartje voor de Spinner kost hier € 2,50 en een kaartje voor de botsauto's kost € 1,50.

Een kaartje voor de Spinner kost hier € 2,00 en een kaartje voor de botsauto's kost € 1,00.

Een kaartje voor de botsauto's kost hier € 2,25 en een kaartje voor de Spinner kost € 3,00.



Deze telefoon maakt foto's van 18 megapixels en kan ook filmen.

Deze telefoon maakt foto's van 12 megapixels en kan niet filmen.

Deze telefoon maakt foto's van 18 megapixels en kan niet filmen.

