

Meten 008

Eiland: Rekenen met verschillende maten
Doel: Bepalen van oppervlakten en inhouds met schaal



Opgave 1 Wat is de oppervlakte en inhoud van zwembad C?

Vul het antwoord in op je scherm.

Opgave 2 Wat is de oppervlakte en inhoud van zwembad D?

Vul het antwoord in op je scherm.

Opgave 3 Wat is de oppervlakte en inhoud van zwembad B?

Vul het antwoord in op je scherm.

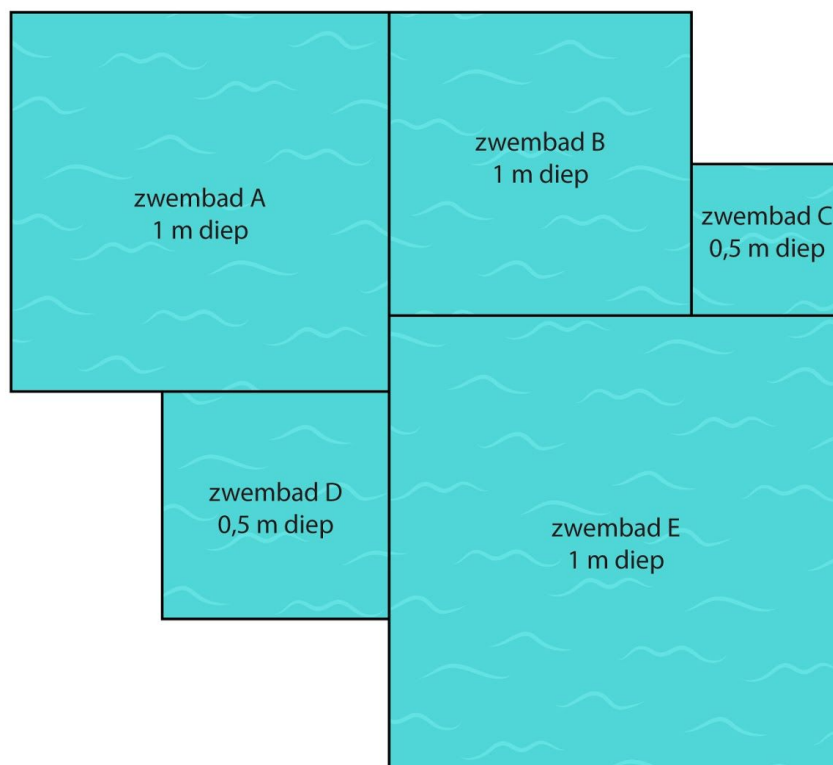
Opgave 4 Wat is de oppervlakte en inhoud van zwembad A?

Vul het antwoord in op je scherm.

Opgave 5 Wat is de oppervlakte en inhoud van zwembad E?

Vul het antwoord in op je scherm.

Zwemparadijs De schoolslag



— = 1 m

Opgave 6 Wat is de oppervlakte en inhoud van vijver B?

Vul het antwoord in op je scherm.

Opgave 7 Wat is de oppervlakte en inhoud van vijver E?

Vul het antwoord in op je scherm.

Opgave 8 Wat is de oppervlakte en inhoud van vijver C?

Vul het antwoord in op je scherm.

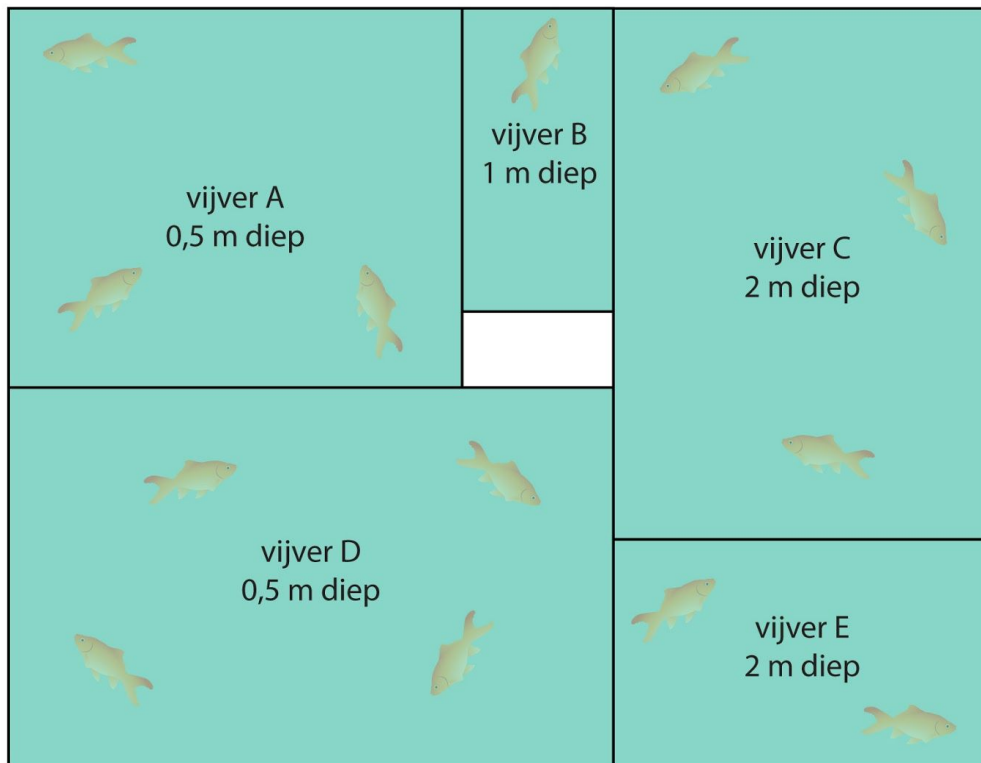
Opgave 9 Wat is de oppervlakte en inhoud van vijver A?

Vul het antwoord in op je scherm.

Opgave 10 Wat is de oppervlakte en inhoud van vijver D?

Vul het antwoord in op je scherm.

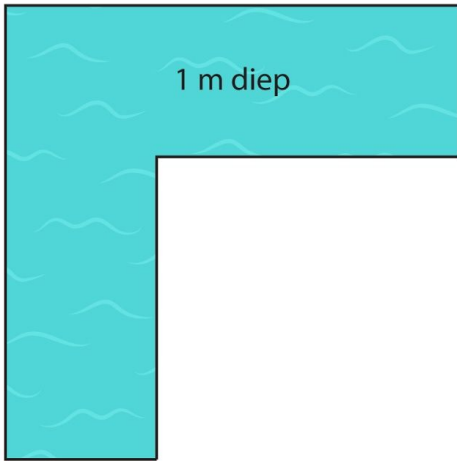
Vijverpark de Visjes



— = 1 m

Opgave 11 Wat is de oppervlakte en inhoud?


Vul het antwoord in op je scherm.



—| = 1 km

Opgave 12 Wat is de oppervlakte en inhoud?

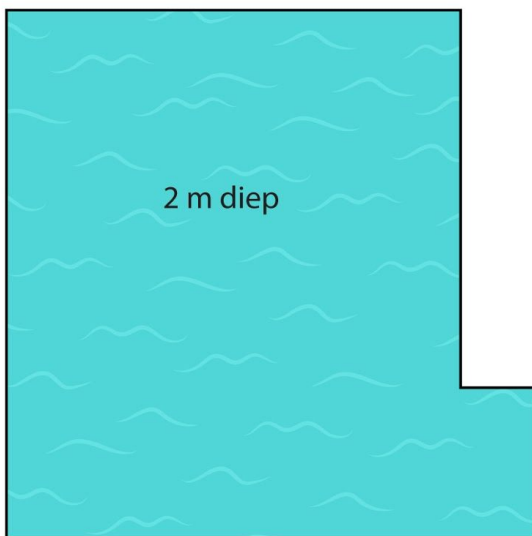
Vul het antwoord in op je scherm.



—| = 1 m

Opgave 13 Wat is de oppervlakte en inhoud?

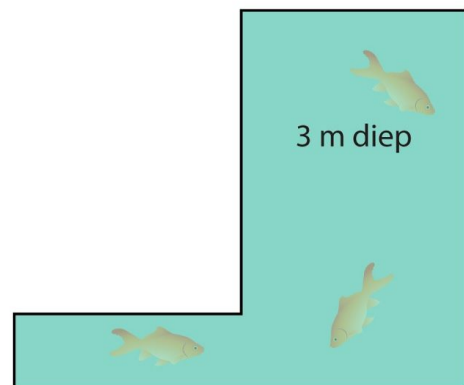
Vul het antwoord in op je scherm.



—| = 1 m

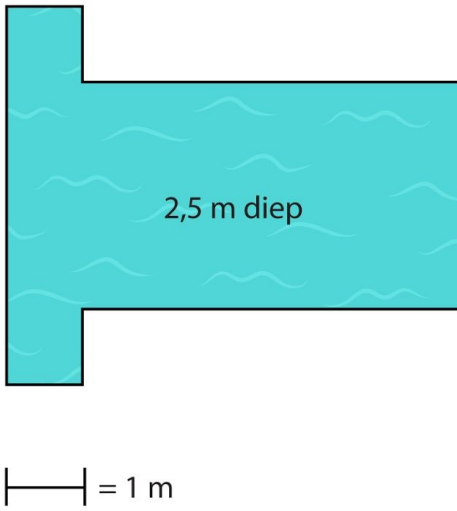
Opgave 14 Wat is de oppervlakte en inhoud?

Vul het antwoord in op je scherm.

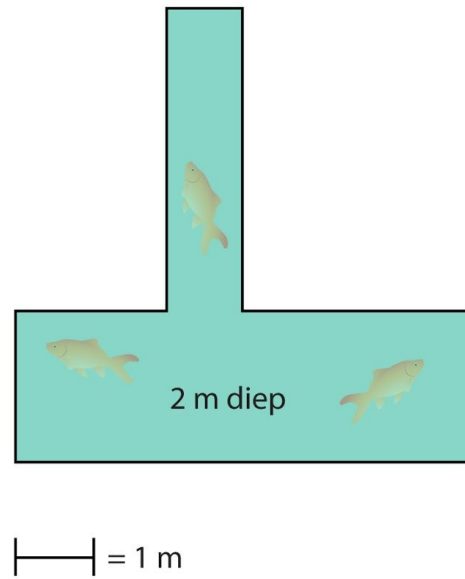


—| = 1 m

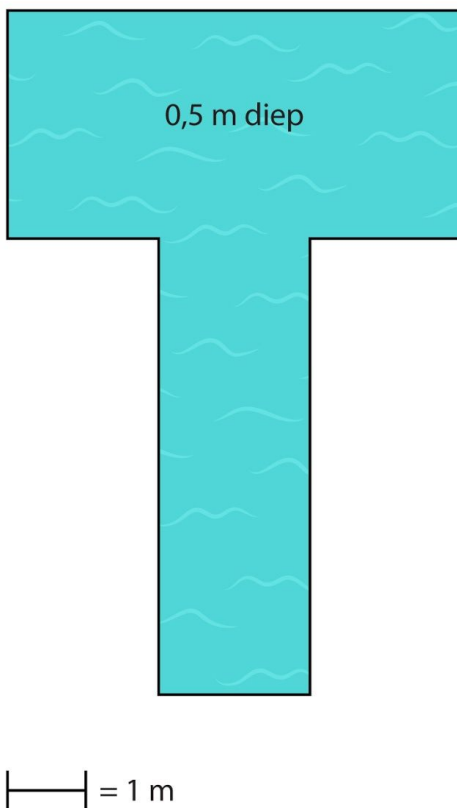
Opgave 15 Wat is de oppervlakte en inhoud?
 Vul het antwoord in op je scherm.



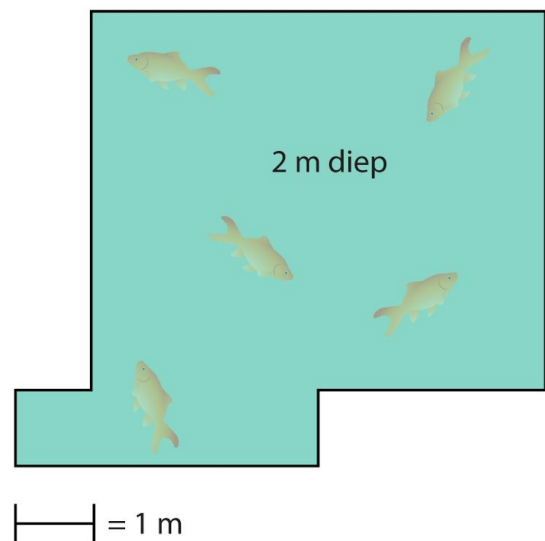
Opgave 16 Wat is de oppervlakte en inhoud?
 Vul het antwoord in op je scherm.



Opgave 17 Wat is de oppervlakte en inhoud?
 Vul het antwoord in op je scherm.



Opgave 18 Wat is de oppervlakte en inhoud?
 Vul het antwoord in op je scherm.



Opgave 19 Wat is de oppervlakte en inhoud?

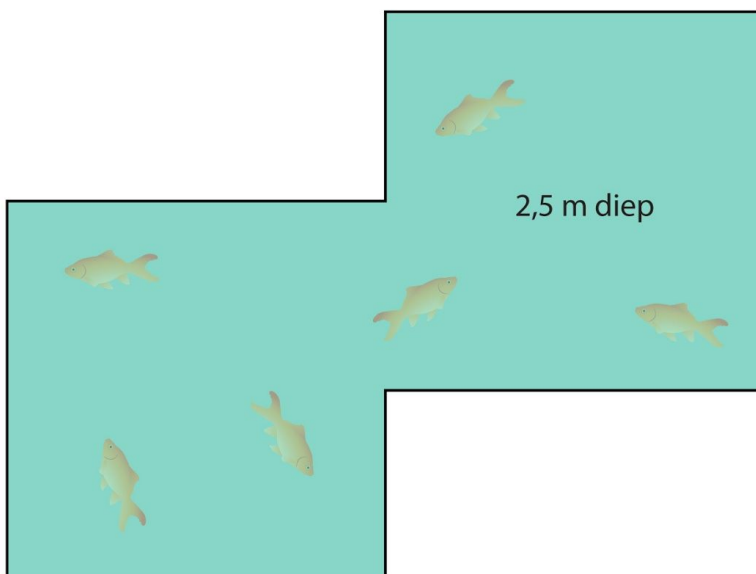
Vul het antwoord in op je scherm.



— = 1 m

Opgave 20 Wat is de oppervlakte en inhoud?

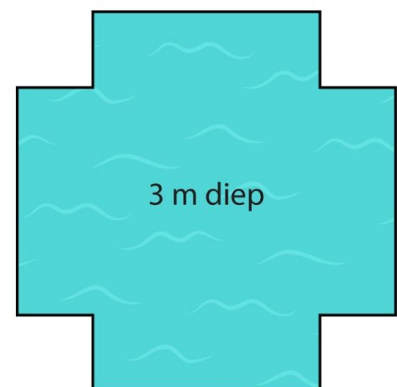
Vul het antwoord in op je scherm.



— = 1 m

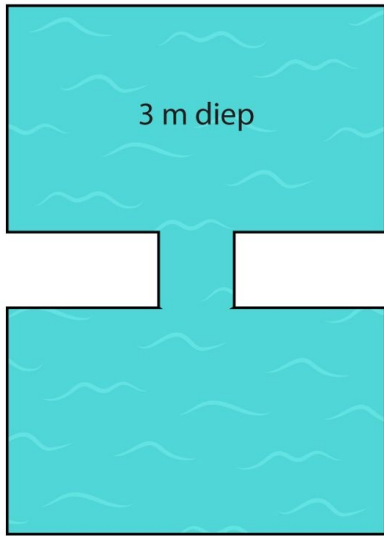
Opgave 21 Wat is de oppervlakte?

Vul het antwoord in op je scherm.



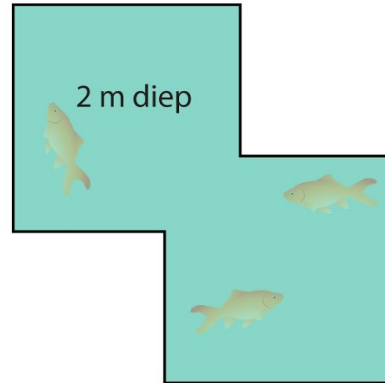
— = 1 m

Opgave 22 Wat is de oppervlakte en inhoud?
 Vul het antwoord in op je scherm.



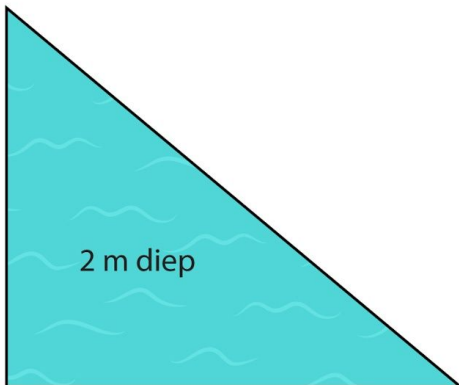
|—| = 1 m

Opgave 23 Wat is de oppervlakte en inhoud?
 Vul het antwoord in op je scherm.



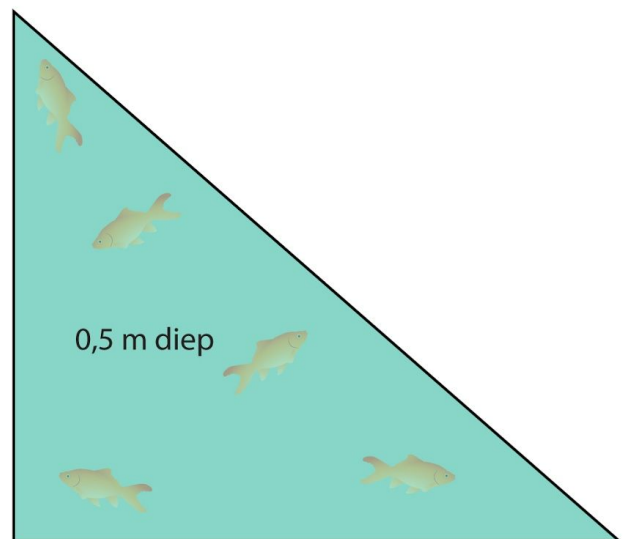
|—| = 1 m

Opgave 24 Wat is de oppervlakte en inhoud?
 Vul het antwoord in op je scherm.



|—| = 1 m

Opgave 25 Wat is de oppervlakte en inhoud?
 Vul het antwoord in op je scherm.



|—| = 1 m

Opgave 26 Wat is de oppervlakte en inhoud?
Vul het antwoord in op je scherm.



|—| = 1 m

Opgave 27 Wat is de oppervlakte en inhoud?
Vul het antwoord in op je scherm.



|—| = 1 m

Opgave 28 Welk zwembad heeft meer inhoud, zwembad 2 of zwembad 3?

Vul het antwoord in op je scherm.

Opgave 30 Welk zwembad heeft de meeste inhoud?

Vul het antwoord in op je scherm.

Opgave 29 Welk zwembad heeft meer inhoud, zwembad 5 of zwembad 6?

Vul het antwoord in op je scherm.

