

Tabellen en Grafieken 001

Eiland: Staafgrafieken tekenen

Doel: Teken van een staafgrafiek op basis van een tabel



Bij elke opdracht moet je de informatie uit de tabel in een staafgrafiek zetten. Achterin dit werkblad kun je de staafgrafieken tekenen.

Opgave 1 Bril dragers in de bovenbouw.

bovenbouwgroepen	groep 6	groep 7	groep 8
aantal kinderen met een bril	8	5	2

Opgave 2 Groene ogen in de onderbouw.

groep	groep 1	groep 2	groep 3	groep 4
aantal kinderen met groene ogen	5	9	7	2

Opgave 3 Vissen in vijvers.

vijver	vijver A	vijver B	vijver C	vijver D	vijver E
aantal vissen	4	8	3	10	2

Opgave 4 Fouten in dictees.

dictee	dictee 1	dictee 2	dictee 3	dictee 4	dictee 5	dictee 6
aantal fouten	6	6	8	3	4	1

Bij elke opdracht moet je de informatie uit de tabel in een staafgrafiek zetten. Achterin dit werkblad kun je de staafgrafieken tekenen.

Opgave 5 Elke dag water drinken.

dagen	maandag	dinsdag	woensdag	donderdag	vrijdag	zaterdag
aantal gedronken glazen water	9	6	4	2	10	6

Opgave 6 Tv-verkoop in winkels.

winkel	winkel A	winkel B	winkel C
aantal verkochte tv's	20	40	70

Opgave 7 Wekelijkse ijsverkoop.

week	week 1	week 2	week 3	week 4
aantal verkochte ijsjes	15	80	65	50

Opgave 8 Kinderen met huisdieren.

leeftijd	0 - 3 jaar	4 - 7 jaar	8 - 11 jaar	12 - 15 jaar	16 - 19 jaar
aantal kinderen met een huisdier	20	60	90	85	55

Opgave 9 Aantal kinderen per groep.

groep	groep 3	groep 4	groep 5	groep 6	groep 7
aantal kinderen	20	55	80	60	35

Bij elke opdracht moet je de informatie uit de tabel in een staafgrafiek zetten. Achterin dit werkblad kun je de staafgrafieken tekenen.

Opgave 10 Bezoekers dierentuin per dag.

dagen	maandag	dinsdag	woensdag	donderdag	vrijdag
aantal bezoekers dierentuin	80	55	95	20	60

Opgave 11 Verkochte bloemen per winkel.

winkel	de Bloem	Het Roosje	de Tulp
aantal verkochte bloemen	200	700	400

Opgave 12 Bestelde schoolspullen.

schoolspullen	schriften	boeken	potloden	pennen
aantal besteld	600	200	800	200

Opgave 13 Tablet-verkoop in winkels.

winkel	Gigant	Techneut	Media	Megabite
aantal verkochte tablets	150	800	550	450

Opgave 14 Wekelijkse bezoekers museum.



week	week 1	week 2	week 3	week 4
aantal bezoekers museum	250	900	400	550

Bij elke opdracht moet je de informatie uit de tabel in een staafgrafiek zetten. Achterin dit werkblad kun je de staafgrafieken tekenen.


Opgave 15 Dagelijks bezorgde brieven.

dagen	dinsdag	woensdag	donderdag	vrijdag
aantal bezorgde brieven	500	450	600	800

Hieronder kun je de staafgrafieken met getallen tot 10 tekenen. Deze kun je gebruiken bij opdracht 1 t/m 5. Zet het opdrachtnummer erbij.



Hieronder kun je de staafgrafieken met getallen tot 100 tekenen. Deze kun je gebruiken bij opdracht 6 t/m 10. Zet het opdrachtnummer erbij.



Hieronder kun je de staafgrafieken met getallen tot 100 tekenen. Deze kun je gebruiken bij opdracht 11 t/m 15. Zet het opdrachtnummer erbij.

