

Meetkunde 002

Eiland: Aanzichten

Doel: Tekenen van aanzichten van bouwwerken



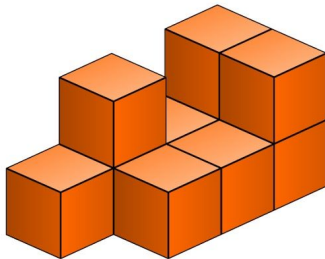
Potlood



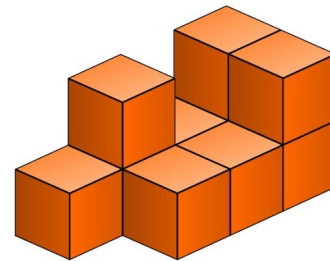
Kleurpotloden

Bij elke opdracht moet je een aanzicht tekenen van het bouwwerk. Achterin dit werkblad vind je vakken waarin je de aanzichten kunt tekenen.

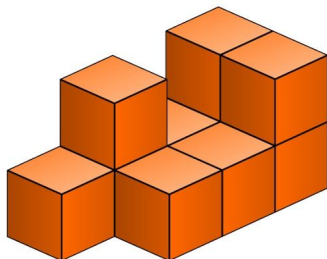
Opgave 1 Teken het bovenaanzicht van dit bouwwerk. *Kijk goed. Hoe ziet het bouwwerk er vanaf de bovenkant uit?*




Opgave 2 Teken het zijaanzicht van dit bouwwerk. *Kijk goed. Hoe ziet het bouwwerk er vanaf de zijkant uit?*



Opgave 3 Teken het vooraanzicht van dit bouwwerk. *Kijk goed. Hoe ziet het bouwwerk er vanaf de voorkant uit?*




Opgave 4 Teken het bovenaanzicht van dit bouwwerk. *Kijk goed. Hoe ziet het bouwwerk er vanaf de bovenkant uit?*




Bij elke opdracht moet je een aanzicht tekenen van het bouwwerk. Achterin dit werkblad vind je papier waarop je de aanzichten kunt tekenen.

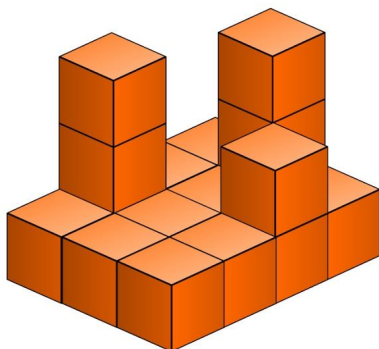
Opgave 5 Teken het zijaanzicht van dit bouwwerk. *Kijk goed. Hoe ziet het bouwwerk er vanaf de zijkant uit?*



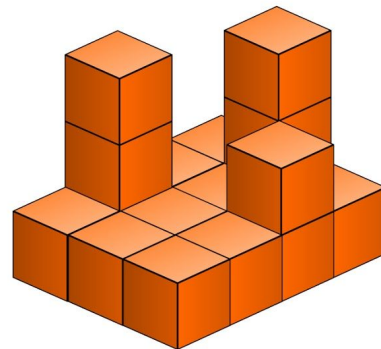
Opgave 6 Teken het vooraanzicht van dit bouwwerk. *Kijk goed. Hoe ziet het bouwwerk er vanaf de voorkant uit?*



Opgave 7 Teken het bovenaanzicht van dit bouwwerk. *Kijk goed. Hoe ziet het bouwwerk er vanaf de bovenkant uit?*

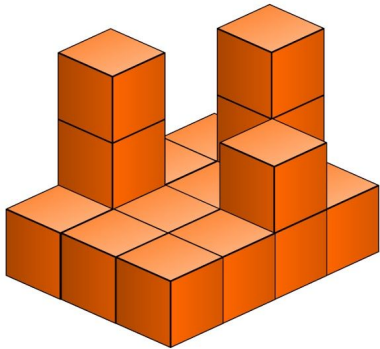


Opgave 8 Teken het zijaanzicht van dit bouwwerk. *Kijk goed. Hoe ziet het bouwwerk er vanaf de zijkant uit?*

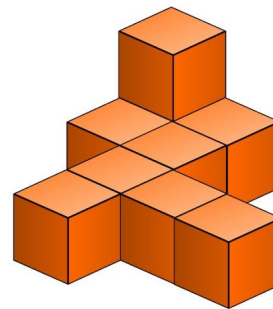


Bij elke opdracht moet je een aanzicht tekenen van het bouwwerk. Achterin dit werkblad vind je papier waarop je de aanzichten kunt tekenen.

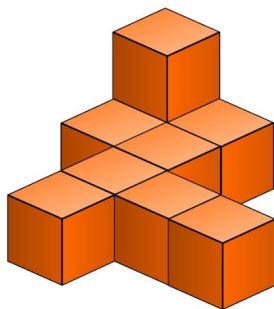
Opgave 9 Teken het vooraanzicht van dit bouwwerk. *Kijk goed. Hoe ziet het bouwwerk er vanaf de voorkant uit?*



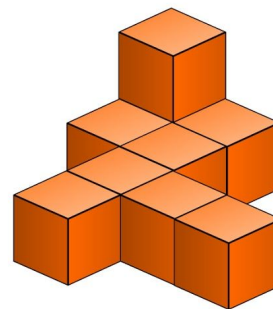
Opgave 10 Teken het bovenaanzicht van dit bouwwerk. *Kijk goed. Hoe ziet het bouwwerk er vanaf de bovenkant uit?*



Opgave 11 Teken het zijaanzicht van dit bouwwerk. *Kijk goed. Hoe ziet het bouwwerk er vanaf de zijkant uit?*




Opgave 12 Teken het vooraanzicht van dit bouwwerk. *Kijk goed. Hoe ziet het bouwwerk er vanaf de voorkant uit?*




Bij elke opdracht moet je een aanzicht tekenen van het bouwwerk. Achterin dit werkblad vind je papier waarop je de aanzichten kunt tekenen.


Opgave 13 Teken het bovenaanzicht van dit bouwwerk. *Kijk goed. Hoe ziet het bouwwerk er vanaf de bovenkant uit?*



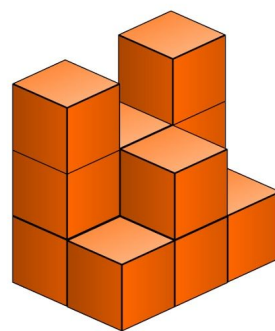
Opgave 14 Teken het zijaanzicht van dit bouwwerk. *Kijk goed. Hoe ziet het bouwwerk er vanaf de zijkant uit?*



Opgave 15 Teken het vooraanzicht van dit bouwwerk. *Kijk goed. Hoe ziet het bouwwerk er vanaf de voorkant uit?*

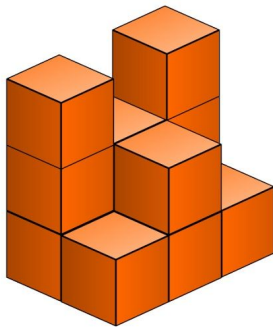


Opgave 16 Teken het bovenaanzicht van dit bouwwerk. *Kijk goed. Hoe ziet het bouwwerk er vanaf de bovenkant uit?*

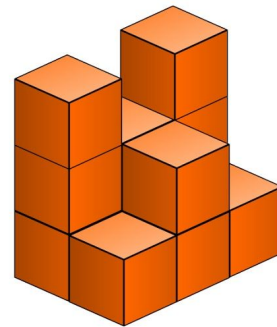


Bij elke opdracht moet je een aanzicht tekenen van het bouwwerk. Achterin dit werkblad vind je papier waarop je de aanzichten kunt tekenen.


Opgave 17 Teken het zijaanzicht van dit bouwwerk. *Kijk goed. Hoe ziet het bouwwerk er vanaf de zijkant uit?*




Opgave 18 Teken het vooraanzicht van dit bouwwerk. *Kijk goed. Hoe ziet het bouwwerk er vanaf de voorkant uit?*



Opgave 19 Teken het bovenaanzicht van dit bouwwerk. *Kijk goed. Hoe ziet het bouwwerk er vanaf de bovenkant uit?*




Opgave 20 Teken het zijaanzicht van dit bouwwerk. *Kijk goed. Hoe ziet het bouwwerk er vanaf de zijkant uit?*

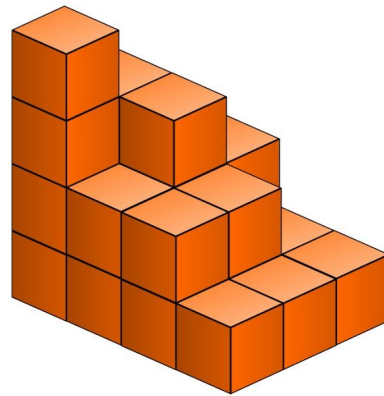


Bij elke opdracht moet je een aanzicht tekenen van het bouwwerk. Achterin dit werkblad vind je papier waarop je de aanzichten kunt tekenen.

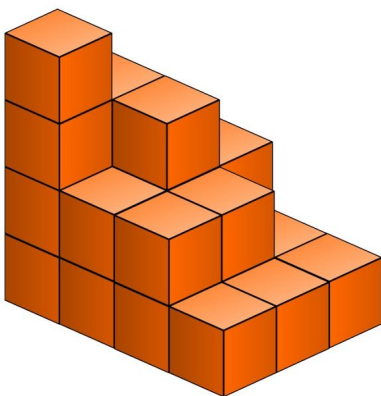
Opgave 21 Teken het vooraanzicht van dit bouwwerk. *Kijk goed. Hoe ziet het bouwwerk er vanaf de voorkant uit?*



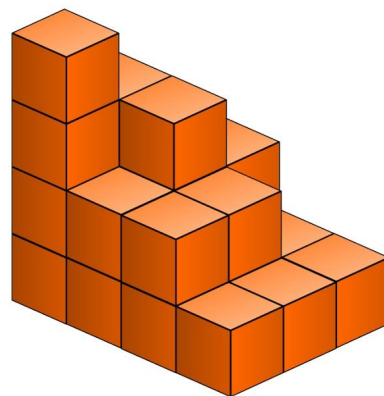
Opgave 22 Teken het bovenaanzicht van dit bouwwerk. *Kijk goed. Hoe ziet het bouwwerk er vanaf de bovenkant uit?*



Opgave 23 Teken het zijaanzicht van dit bouwwerk. *Kijk goed. Hoe ziet het bouwwerk er vanaf de zijkant uit?*




Opgave 24 Teken het vooraanzicht van dit bouwwerk. *Kijk goed. Hoe ziet het bouwwerk er vanaf de voorkant uit?*

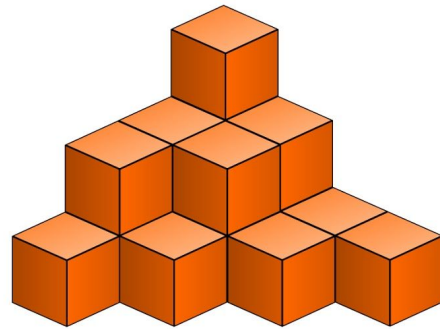


Bij elke opdracht moet je een aanzicht tekenen van het bouwwerk. Achterin dit werkblad vind je papier waarop je de aanzichten kunt tekenen.

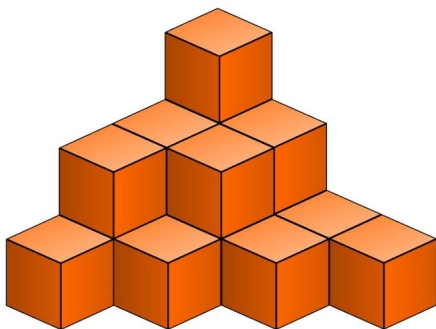
Opgave 25 Teken het bovenaanzicht van dit bouwwerk. *Kijk goed. Hoe ziet het bouwwerk er vanaf de bovenkant uit?*



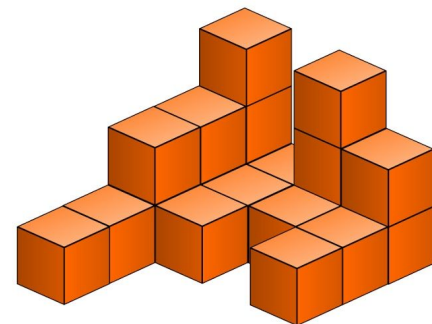
Opgave 26 Teken het zijaanzicht van dit bouwwerk. *Kijk goed. Hoe ziet het bouwwerk er vanaf de zijkant uit?*



Opgave 27 Teken het vooraanzicht van dit bouwwerk. *Kijk goed. Hoe ziet het bouwwerk er vanaf de voorkant uit?*




Opgave 28 Teken het bovenaanzicht van dit bouwwerk. *Kijk goed. Hoe ziet het bouwwerk er vanaf de bovenkant uit?*

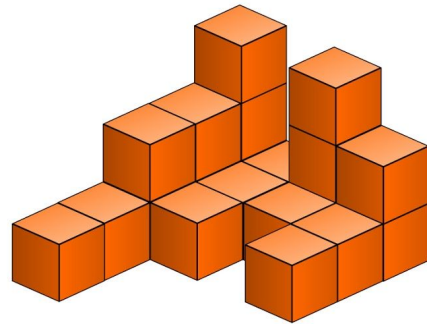


Bij elke opdracht moet je een aanzicht tekenen van het bouwwerk. Achterin dit werkblad vind je papier waarop je de aanzichten kunt tekenen.

Opgave 29 Teken het zijaanzicht van dit bouwwerk. *Kijk goed. Hoe ziet het bouwwerk er vanaf de zijkant uit?*



Opgave 30 Teken het vooraanzicht van dit bouwwerk. *Kijk goed. Hoe ziet het bouwwerk er vanaf de voorkant uit?*



Teken hieronder het aanzicht. Zet het opdrachtnummer erbij.

Teken hieronder het aanzicht. Zet het opdrachtnummer erbij.
