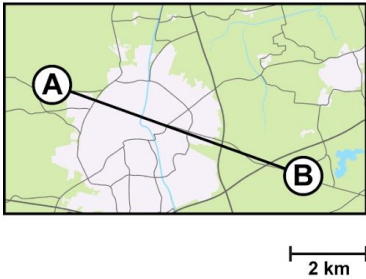


Meten 005

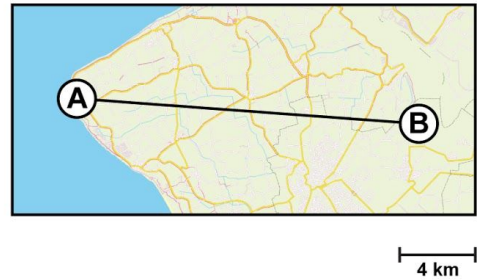
Eiland: Lengte met schaalverhouding
Doel: Berekenen van afstand met schaal



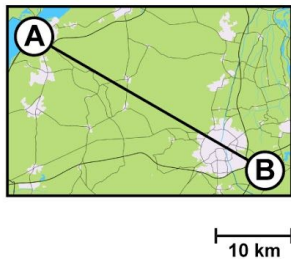
Opgave 1 Wat is de afstand tussen A en B?
Vul het antwoord in op je scherm.



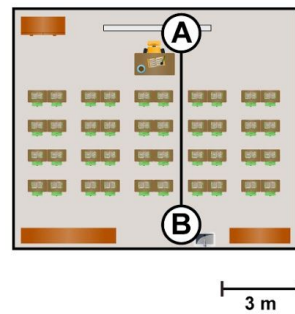
Opgave 2 Wat is de afstand tussen A en B?
Vul het antwoord in op je scherm.



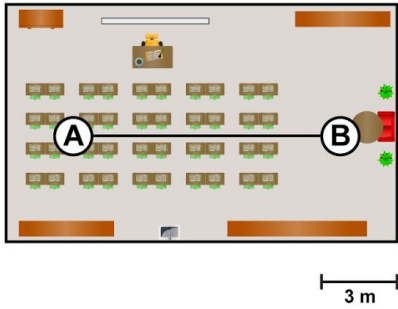
Opgave 3 Wat is de afstand tussen A en B?
Vul het antwoord in op je scherm.



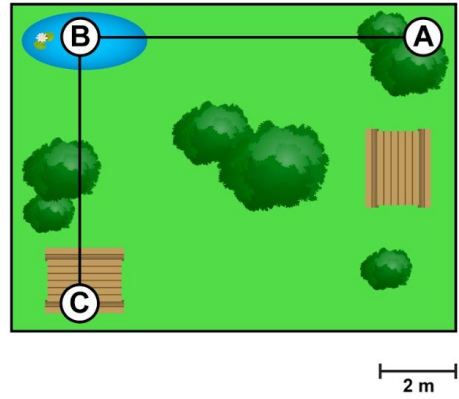
Opgave 4 Wat is de afstand tussen A en B?
Vul het antwoord in op je scherm.



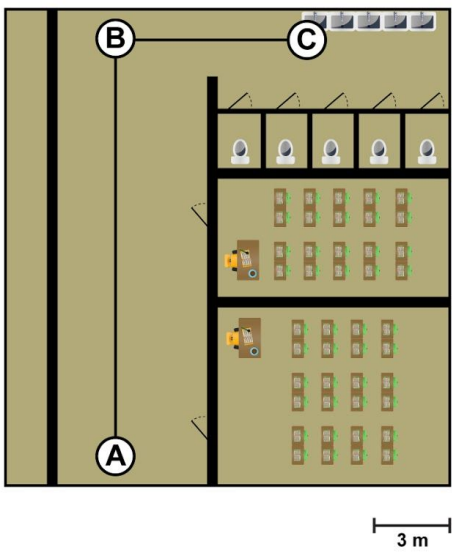
Opgave 5 Wat is de afstand tussen A en B?
 Vul het antwoord in op je scherm.



Opgave 6 Wat is de afstand van A naar C via B?
 Vul het antwoord in op je scherm.



Opgave 7 Wat is de afstand van A naar C via B?
 Vul het antwoord in op je scherm.



Opgave 8 Wat is de afstand van A naar D via B en C?

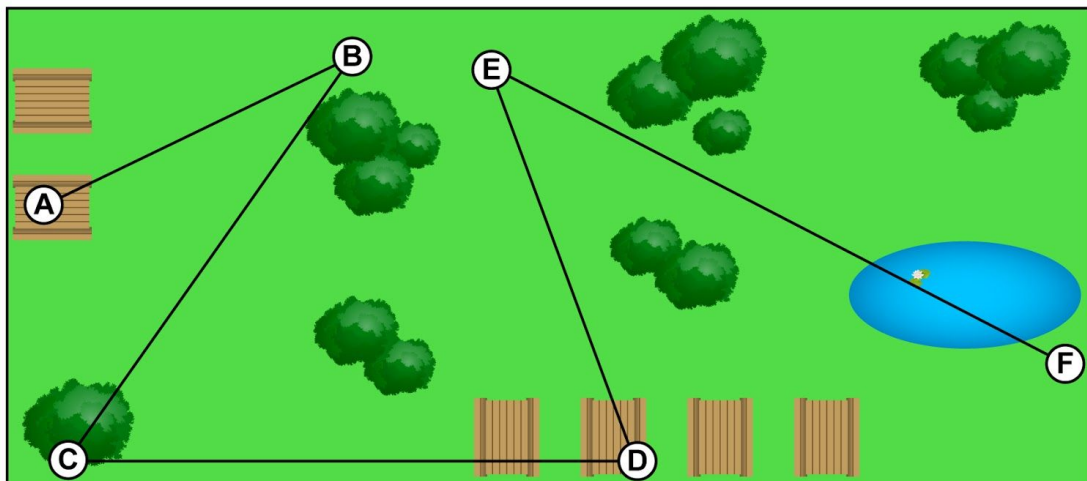
Vul het antwoord in op je scherm.

Opgave 9 Wat is de afstand van B naar E via C en D?

Vul het antwoord in op je scherm.

Opgave 10 Wat is de afstand van C naar F via D en E?

Vul het antwoord in op je scherm.



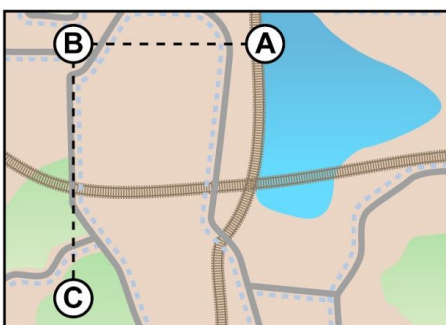
2 m

Opgave 11 Wat is de afstand van A naar C via B?

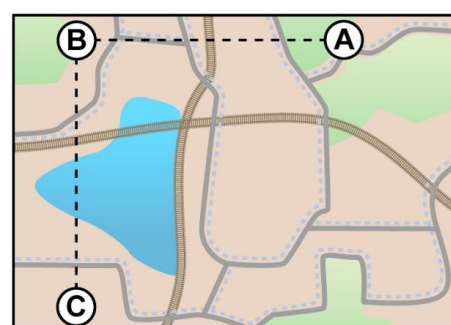
Vul het antwoord in op je scherm.

Opgave 12 Wat is de afstand van A naar C via B?

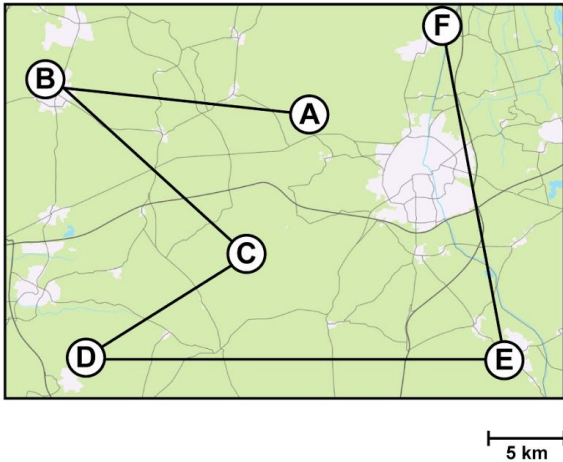
Vul het antwoord in op je scherm.



3 km



4 km



Opgave 13 Wat is de afstand van A naar D via B en C?

Vul het antwoord in op je scherm.

Opgave 14 Wat is de afstand van B naar E via C en D?

Vul het antwoord in op je scherm.

Opgave 15 Wat is de afstand van C naar F via D en E?

Vul het antwoord in op je scherm.

Opgave 16 Wat is de afstand tussen D en I?

Vul het antwoord in op je scherm.

Opgave 17 Wat is de kortste afstand van A naar I?

Vul het antwoord in op je scherm.

Opgave 18 Wat is de kortste afstand van C naar F?

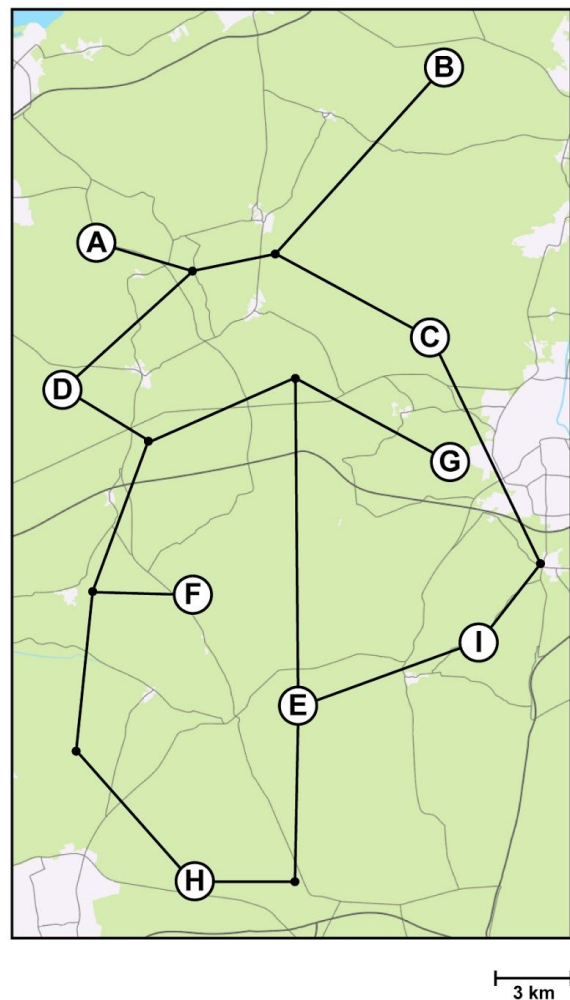
Vul het antwoord in op je scherm.

Opgave 19 Wat is de kortste afstand van G naar H?

Vul het antwoord in op je scherm.

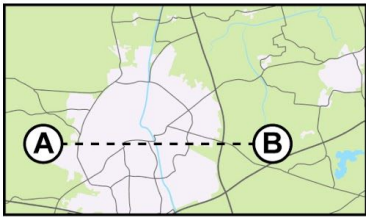
Opgave 20 Wat is de kortste afstand van B naar E?

Vul het antwoord in op je scherm.



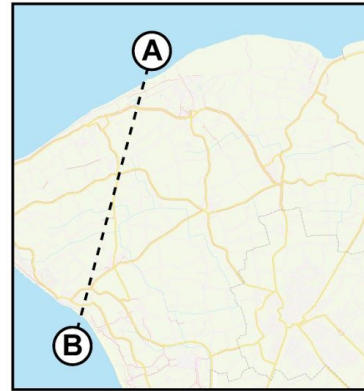
Opgave 21 Wat is de afstand tussen A en B?

Vul het antwoord in op je scherm.



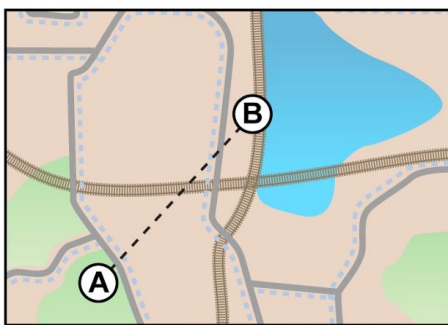
Opgave 22 Wat is de afstand tussen A en B?

Vul het antwoord in op je scherm.



Opgave 23 Wat is de afstand tussen A en B?

Vul het antwoord in op je scherm.



Opgave 24 Wat is de afstand van A naar D via B en C?

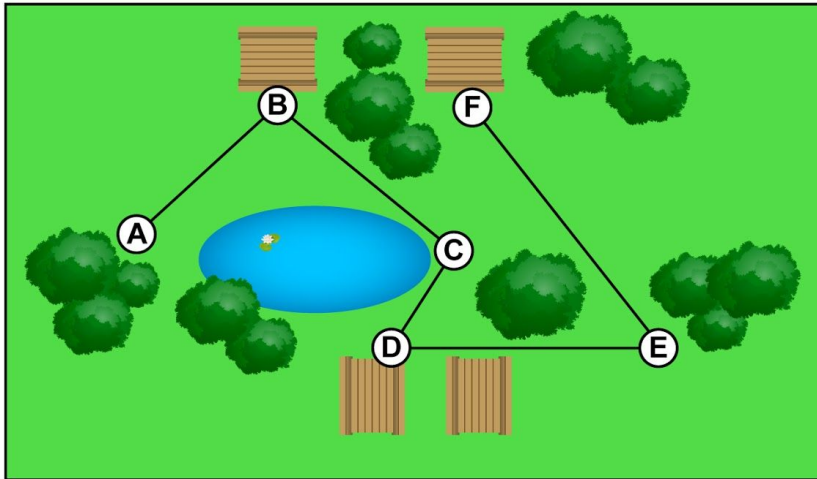
Vul het antwoord in op je scherm.

Opgave 25 Wat is de afstand van B naar E via C en D?

Vul het antwoord in op je scherm.

Opgave 26 Wat is de afstand van C naar F via D en E?

Vul het antwoord in op je scherm.



2 m

Opgave 27 Wat is de afstand tussen A en F?

Vul het antwoord in op je scherm.

Opgave 28 Wat is de kortste afstand van A naar D?

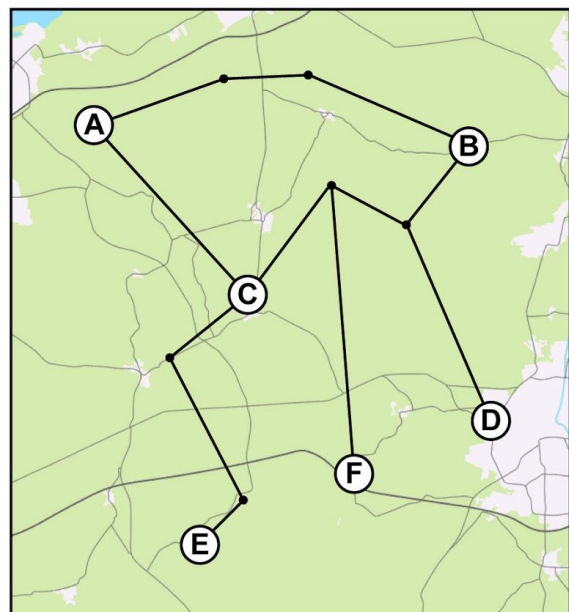
Vul het antwoord in op je scherm.

Opgave 29 Wat is de kortste afstand van B naar E?

Vul het antwoord in op je scherm.

Opgave 30 Wat is de kortste afstand van A naar F?

Vul het antwoord in op je scherm.



5 km