

Meten 004

Eiland: Berekenen van een omtrek
Doel: Berekenen van een omtrek met schaal via opmeten



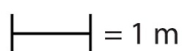
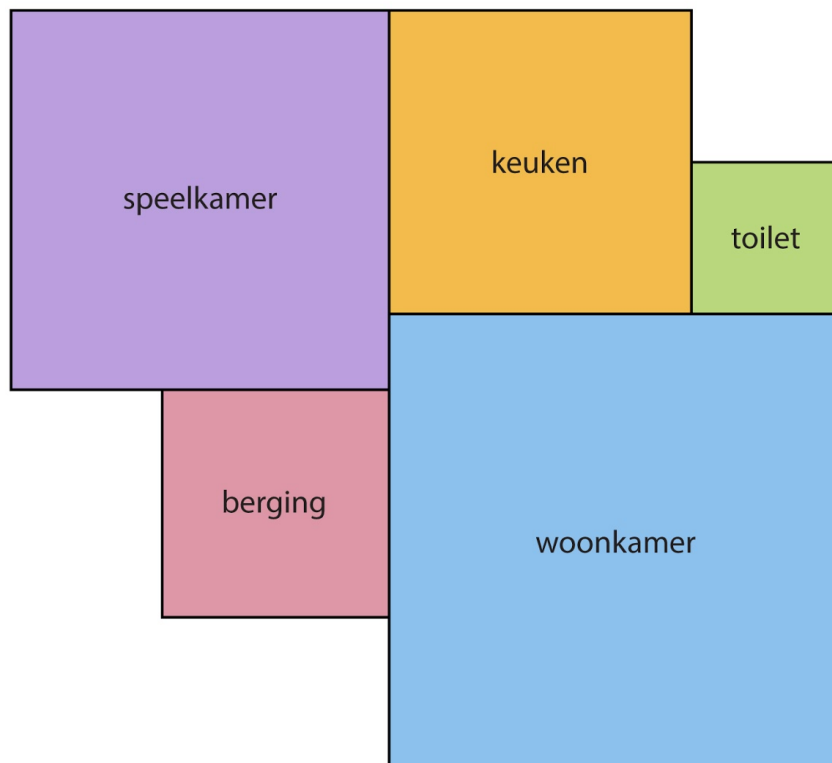
Opgave 1 Wat is de omtrek van het toilet?
 Vul het antwoord in op je scherm.

Opgave 4 Wat is de omtrek van de speelkamer?
 Vul het antwoord in op je scherm.

Opgave 2 Wat is de omtrek van de berging?
 Vul het antwoord in op je scherm.

Opgave 5 Wat is de omtrek van de woonkamer?
 Vul het antwoord in op je scherm.

Opgave 3 Wat is de omtrek van de keuken?
 Vul het antwoord in op je scherm.



Opgave 6 Wat is de omtrek van de gang?

Vul het antwoord in op je scherm.

Opgave 9 Wat is de omtrek van de tv-kamer?

Vul het antwoord in op je scherm.

Opgave 7 Wat is de omtrek van de bijkeuken?

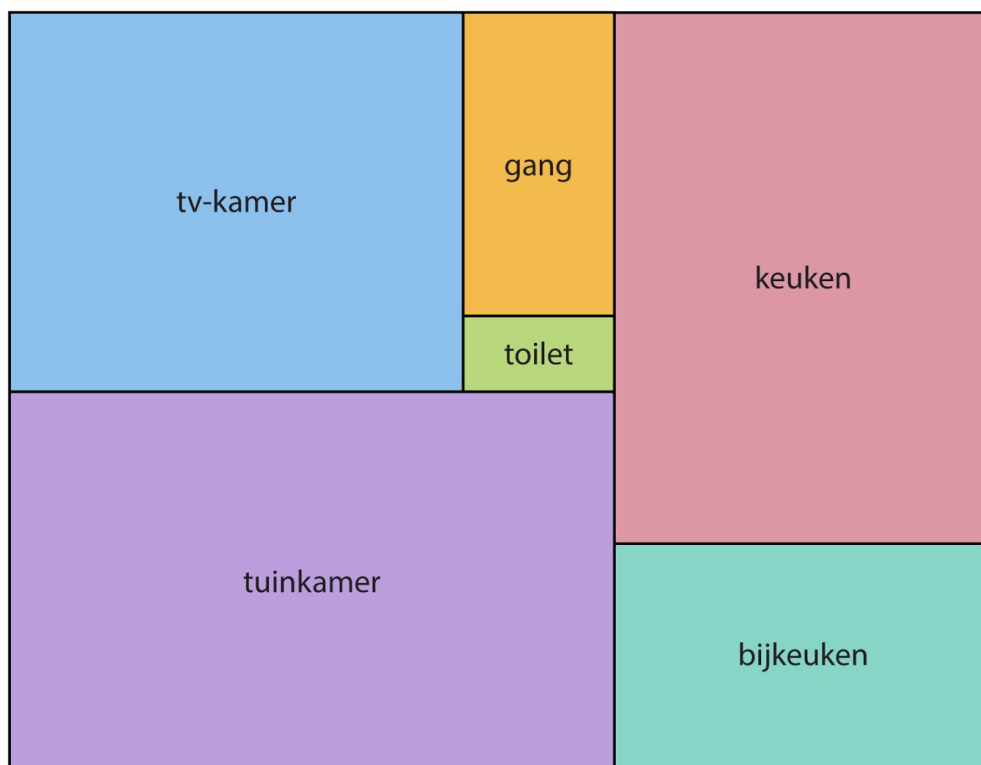
Vul het antwoord in op je scherm.

Opgave 10 Wat is de omtrek van de tuinkamer?

Vul het antwoord in op je scherm.

Opgave 8 Wat is de omtrek van de keuken?

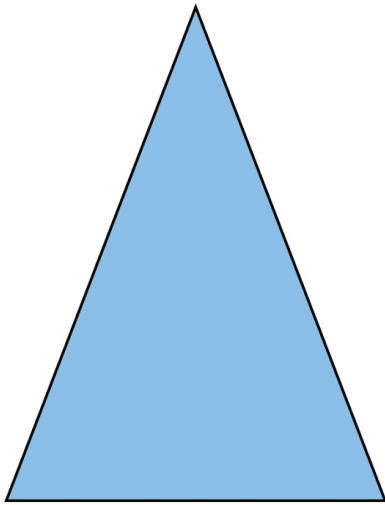
Vul het antwoord in op je scherm.



— = 1 m

Opgave 11 Wat is de omtrek?

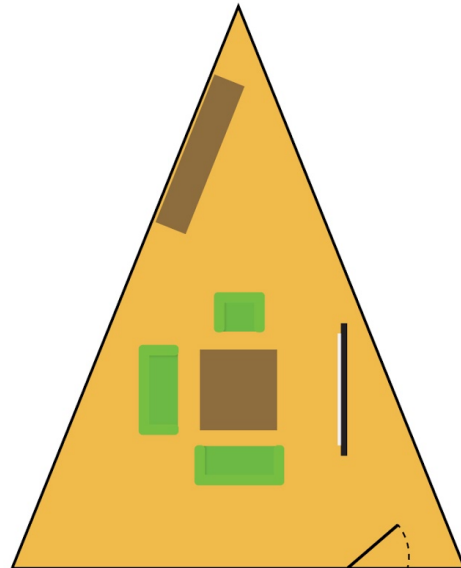
Vul het antwoord in op je scherm.



— = 1 km

Opgave 12 Wat is de omtrek?


Vul het antwoord in op je scherm.



— = 2 m

Opgave 13 Wat is de omtrek?

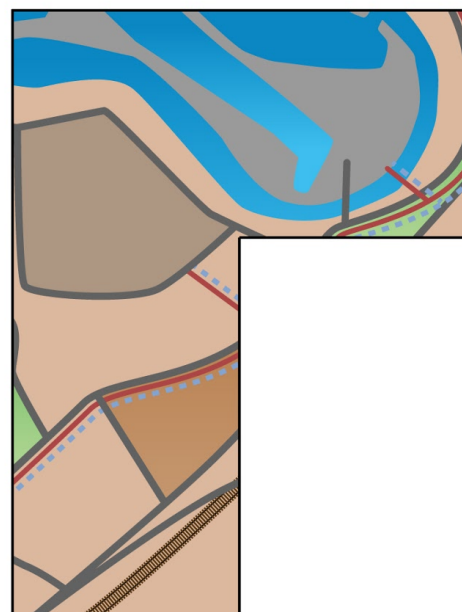
Vul het antwoord in op je scherm.



— = 10 m

Opgave 14 Wat is de omtrek?


Vul het antwoord in op je scherm.



— = 2 km

Opgave 15 Wat is de omtrek?

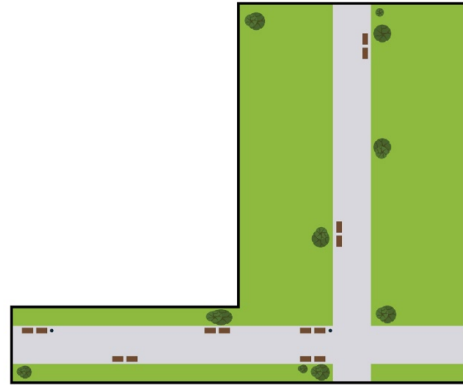
Vul het antwoord in op je scherm.



—| = 1 m

Opgave 16 Wat is de omtrek?

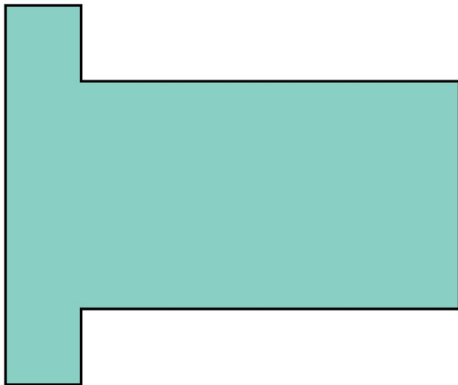
Vul het antwoord in op je scherm.



—| = 2 m

Opgave 17 Wat is de omtrek?

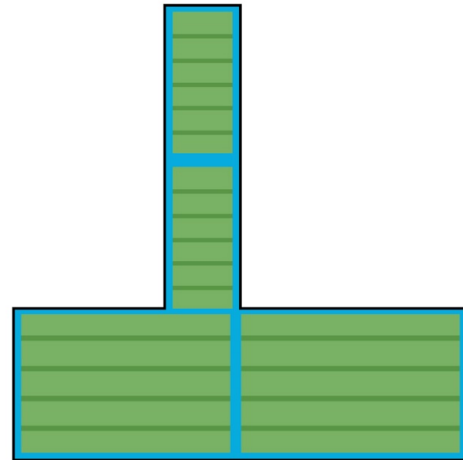
Vul het antwoord in op je scherm.



—| = 1 km

Opgave 18 Wat is de omtrek?

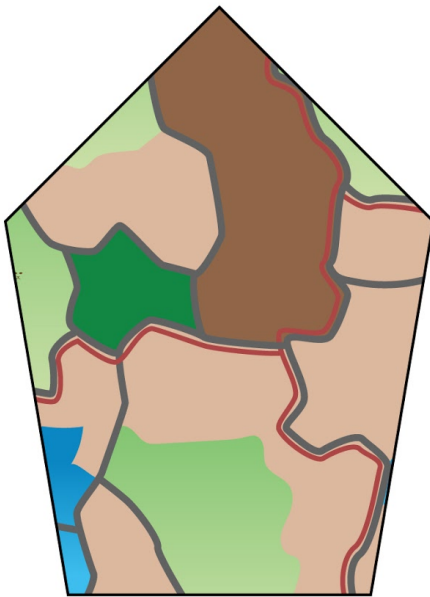
Vul het antwoord in op je scherm.



—| = 2 km

Opgave 19 Wat is de omtrek?


Vul het antwoord in op je scherm.



| | = 1 km

Opgave 20 Wat is de omtrek?

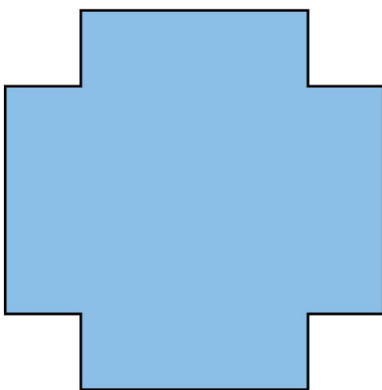
Vul het antwoord in op je scherm.



| | = 1 m

Opgave 21 Wat is de omtrek?

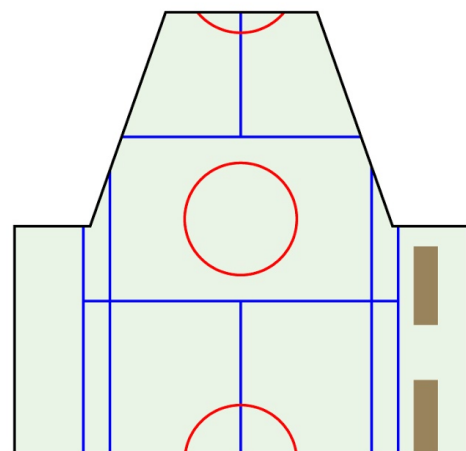
Vul het antwoord in op je scherm.



| | = 10 km

Opgave 22 Wat is de omtrek?

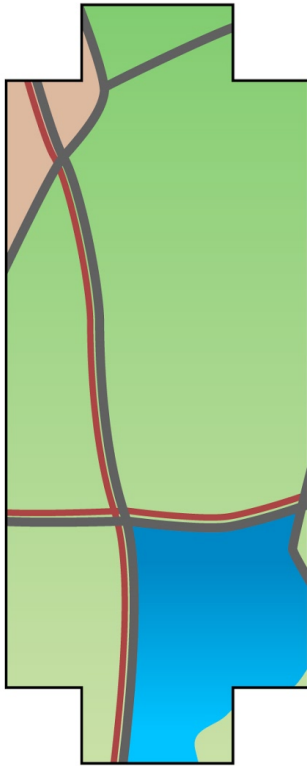
Vul het antwoord in op je scherm.



| | = 2 m

Opgave 23 Wat is de omtrek?


Vul het antwoord in op je scherm.



— = 2 km

Opgave 24 Wat is de omtrek?

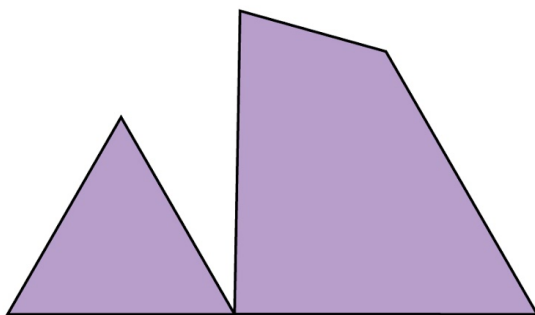
Vul het antwoord in op je scherm.



— = 10 km

Opgave 25 Wat is de omtrek?

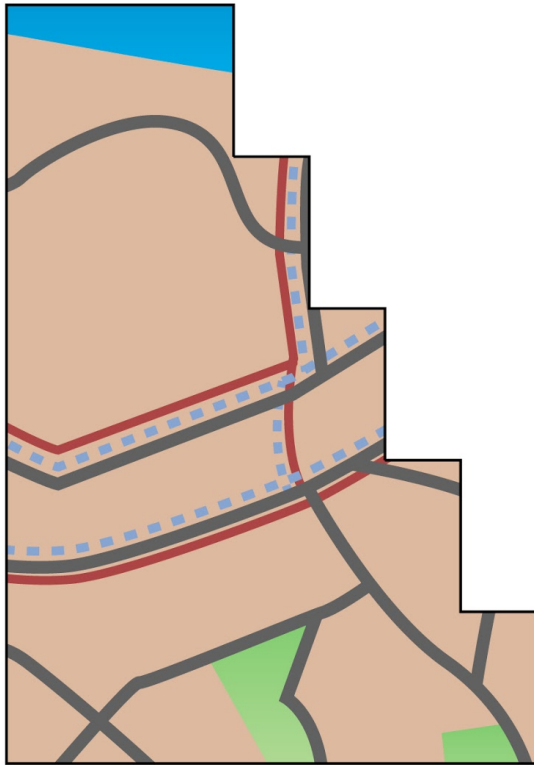
Vul het antwoord in op je scherm.



— = 1 m

Opgave 26 Wat is de omtrek?

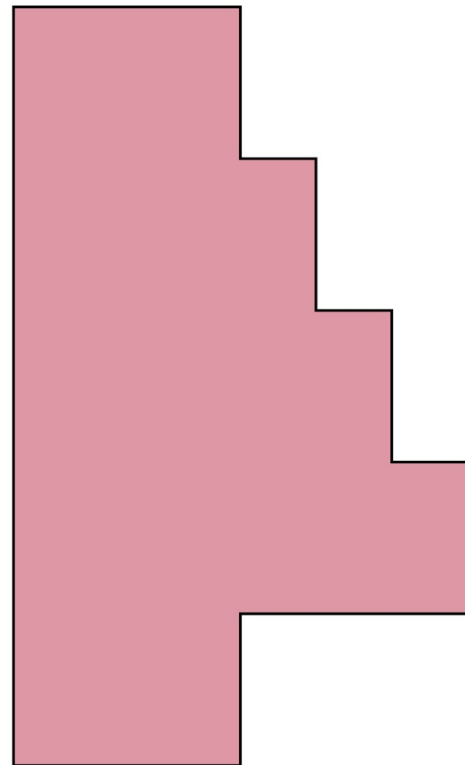
Vul het antwoord in op je scherm.



— = 2 km

Opgave 27 Wat is de omtrek?


Vul het antwoord in op je scherm.



— = 2 km

Opgave 28 Wat is de omtrek?

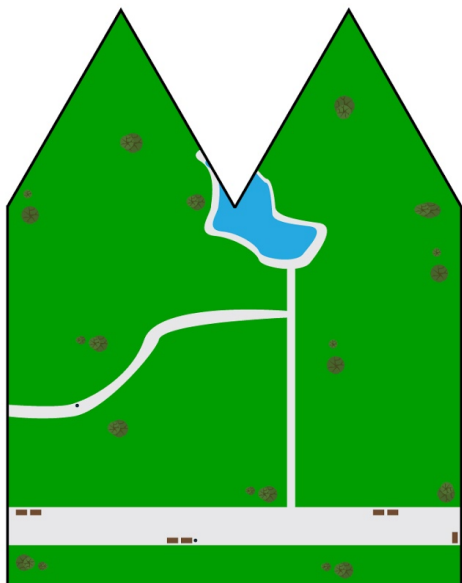
Vul het antwoord in op je scherm.



— = 2 m

Opgave 29 Wat is de omtrek?


Vul het antwoord in op je scherm.



|—| = 2 km

Opgave 30 Wat is de omtrek?

Vul het antwoord in op je scherm.



|—| = 2 km