

Tabellen en Grafieken 007

Eiland: Tabellen maken
Doel: Ordenen van informatie in een eigen tabel




Bij elke opdracht moet je de informatie uit de afbeelding in een tabel zetten. Achterin dit werkblad vind je ruitjespapier waarop je de tabellen kunt tekenen.

Opgave 1 Aantal gekochte ballonnen voor het feestje van Linde.



Opgave 2 Aantal verkochte sokken van winkel 't Kousje.



Bij elke opdracht moet je de informatie uit de afbeelding in een tabel zetten. Achterin dit werkblad vind je ruitjespapier waarop je de tabellen kunt tekenen.

Opgave 3 Aantal huisdieren van kinderen van basisschool de Kampioen.



96



59



78


Opgave 4 Aantal gemaakte taarten door oma Annie.



Opgave 5 Aantal verbouwde groente door boer Henk.



Opgave 6 Aantal bezoekers van het museum.



67




77




98

Bij elke opdracht moet je de informatie uit de afbeelding in een tabel zetten. Achterin dit werkblad vind je ruitjespapier waarop je de tabellen kunt tekenen.


Opgave 7 Haarkleur van kinderen van basisschool de Knoop.




Opgave 8 Aantal verkochte kledingstukken van winkel 't Pleintje.



Opgave 9 Aantal verkochte ijsjes.




Opgave 10 Aantal meegenomen fruitstukken op basisschool de Zon.




Bij elke opdracht moet je de informatie uit de afbeelding in een tabel zetten. Achterin dit werkblad vind je ruitjespapier waarop je de tabellen kunt tekenen.

Opgave 11 Aantal dieren op de boerderij van boerin Gerdien.





Opgave 12 Aantal verkochte bloemen van winkel de Roos.



Opgave 13 Aantal dieren in de dierentuin.



Opgave 14 Aantal verkochte elektronica van winkel Mega.


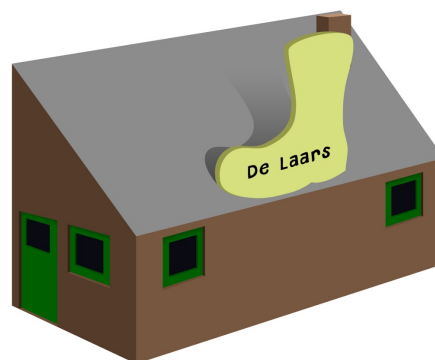


Bij elke opdracht moet je de informatie uit de afbeelding in een tabel zetten. Achterin dit werkblad vind je ruitjespapier waarop je de tabellen kunt tekenen.


Opgave 15 Aantal fruitstukken in de supermarkt.




Opgave 16 Aantal verkochte schoenen van winkel de Laars.



Opgave 17 Aantal verkochte ballonnen in het ziekenhuis.



Opgave 18 Aantal dieren op de kinderboerderij.



Bij elke opdracht moet je de informatie uit de afbeelding in een tabel zetten. Achterin dit werkblad vind je ruitjespapier waarop je de tabellen kunt tekenen.

Opgave 19 Aantal verkochte schrijfwaren van winkel de Paperclip.

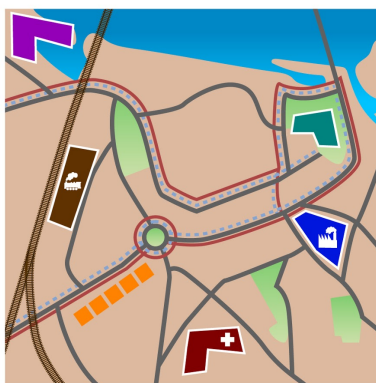


372 721 835 221

Opgave 20 Aantal verkochte lekkernijen van bakker Jos.



Opgave 21 Aantal huisdieren in een dorp.



94 62 87 47 93

Opgave 22 Aantal verkochte belegde broodjes van winkel de Sandwich.



Bij elke opdracht moet je de informatie uit de afbeelding in een tabel zetten. Achterin dit werkblad vind je ruitjespapier waarop je de tabellen kunt tekenen.

Opgave 23 Aantal vervoersmiddelen in een stad.




Opgave 24 Aantal verkochte pizza's van pizzeria Antonio's.



Opgave 25 Aantal snoepjes in snoepautomaten in snoepwinkel 't Zuurtje.




Opgave 26 Aantal meubels in meubelzaak de Bank.



Bij elke opdracht moet je de informatie uit de afbeelding in een tabel zetten. Achterin dit werkblad vind je ruitjespapier waarop je de tabellen kunt tekenen.

Opgave 27 Aantal verkochte taarten van bakkerij 't Toefje.



892 953 642 498 531


Opgave 28 Aantal verkochte groente van groenteboer Hendrik.



Opgave 29 Aantal gegeven kledingstukken aan de Kringloop.



Opgave 30 Aantal speelgoed in winkel de Knuffel.



372 658 884 542 291

Tekening hieronder je tabel. Zet het opdracht nummer erbij.														
---	--	--	--	--	--	--	--	--	--	--	--	--	--	--

