

## Meten 003

**Eiland:** Berekenen van een oppervlakte  
**Doel:** Berekenen van een oppervlakte met schaal via opmeten



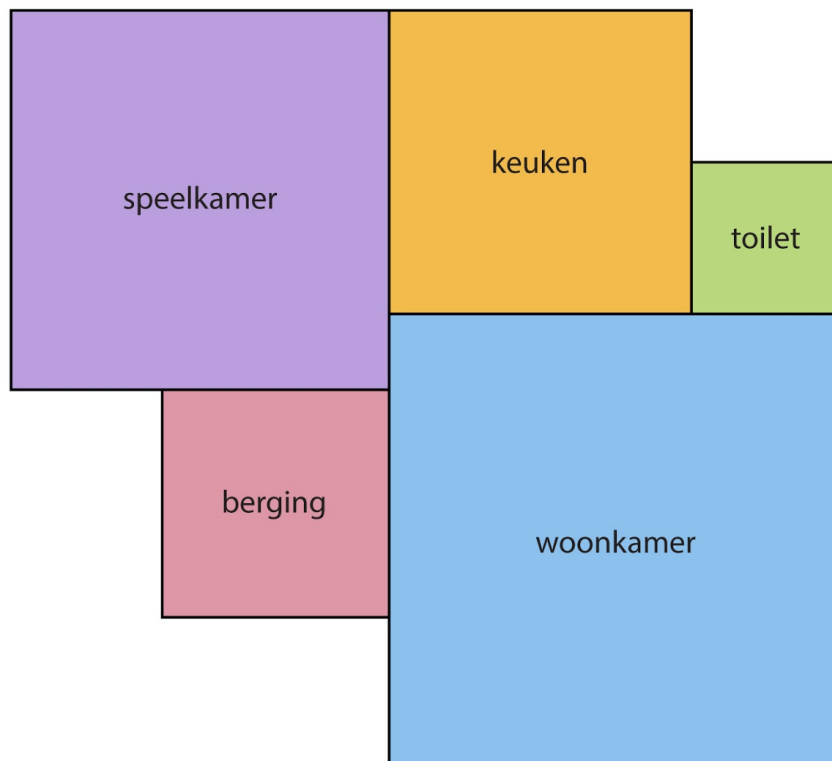
**Opgave 1** Wat is de oppervlakte van het toilet?  
*Vul het antwoord in op je scherm.*

**Opgave 4** Wat is de oppervlakte van de speelkamer?  
*Vul het antwoord in op je scherm.*

**Opgave 2** Wat is de oppervlakte van de berging?  
*Vul het antwoord in op je scherm.*

**Opgave 5** Wat is de oppervlakte van de woonkamer?  
*Vul het antwoord in op je scherm.*

**Opgave 3** Wat is de oppervlakte van de keuken?  
*Vul het antwoord in op je scherm.*



= 1 m

**Opgave 6** Wat is de oppervlakte van de gang?

Vul het antwoord in op je scherm.

**Opgave 7** Wat is de oppervlakte van de bijkeuken?

Vul het antwoord in op je scherm.

**Opgave 8** Wat is de oppervlakte van de keuken?

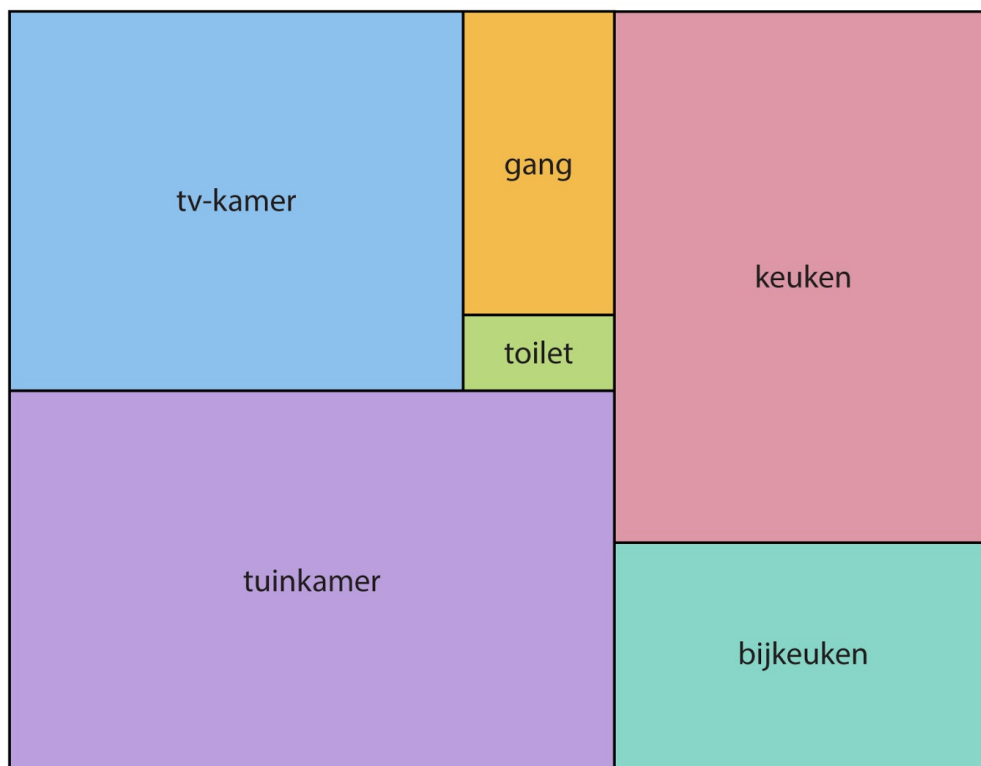
Vul het antwoord in op je scherm.

**Opgave 9** Wat is de oppervlakte van de tv-kamer?

Vul het antwoord in op je scherm.

**Opgave 10** Wat is de oppervlakte van de tuinkamer?


Vul het antwoord in op je scherm.



— = 1 m

**Opgave 11** Wat is de oppervlakte?

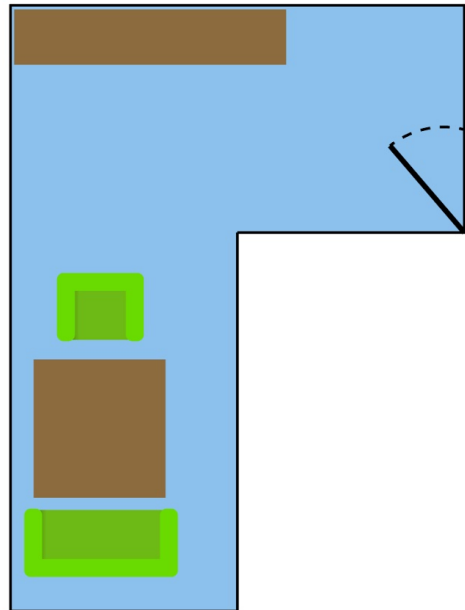
Vul het antwoord in op je scherm.



— = 1 km

**Opgave 12** Wat is de oppervlakte?


Vul het antwoord in op je scherm.



— = 1 m

**Opgave 13** Wat is de oppervlakte?

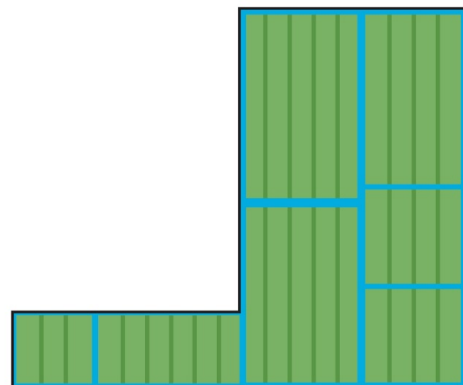
Vul het antwoord in op je scherm.



— = 10 km

**Opgave 14** Wat is de oppervlakte?

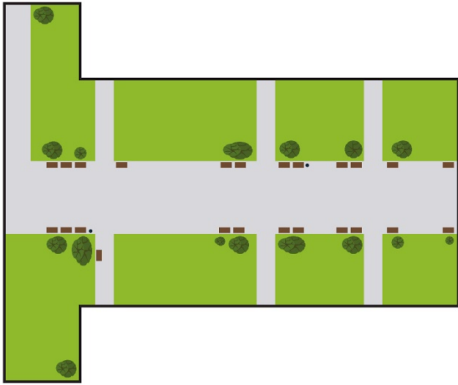
Vul het antwoord in op je scherm.



— = 2 km

**Opgave 15** Wat is de oppervlakte?

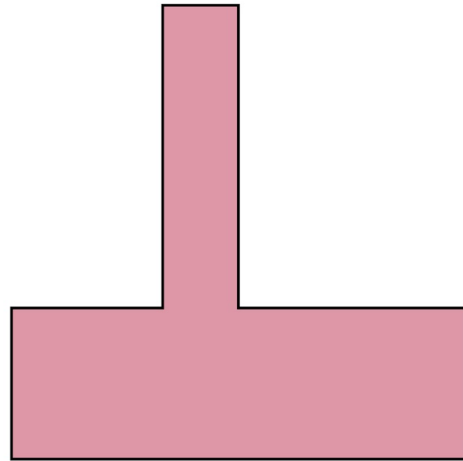
Vul het antwoord in op je scherm.



| | = 10 m

**Opgave 16** Wat is de oppervlakte?


Vul het antwoord in op je scherm.



| | = 2 km

**Opgave 17** Wat is de oppervlakte?

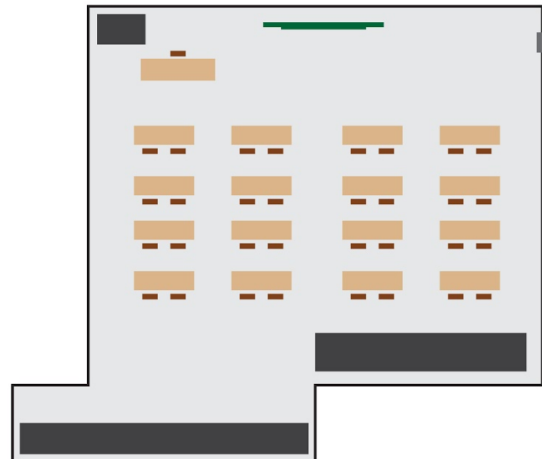
Vul het antwoord in op je scherm.



| | = 10 m

**Opgave 18** Wat is de oppervlakte?


Vul het antwoord in op je scherm.



| | = 2 m

**Opgave 19** Wat is de oppervlakte?

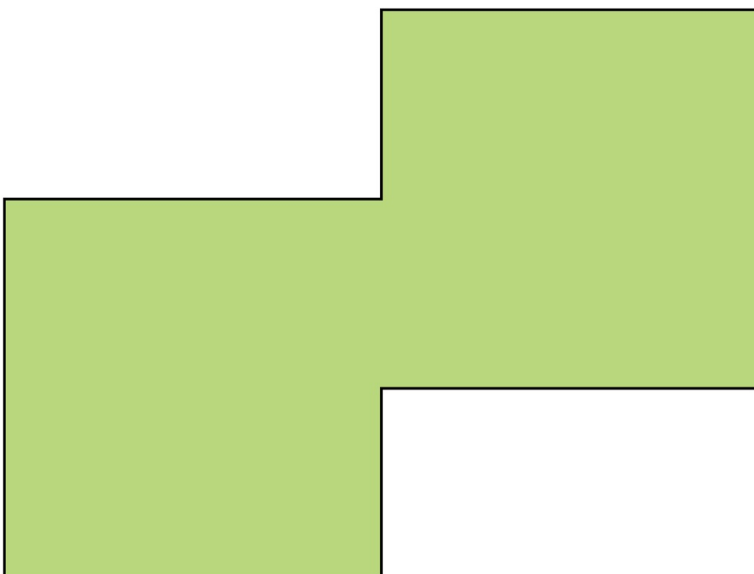
Vul het antwoord in op je scherm.



— = 2 km

**Opgave 20** Wat is de oppervlakte?

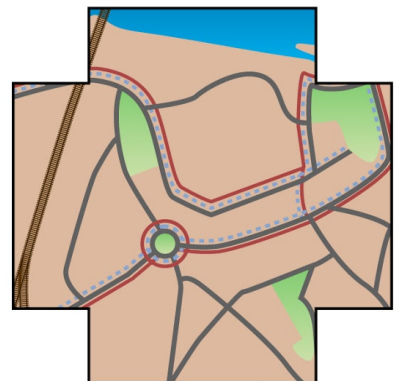
Vul het antwoord in op je scherm.



— = 10 km

**Opgave 21** Wat is de oppervlakte?


Vul het antwoord in op je scherm.



— = 1 km

**Opgave 22** Wat is de oppervlakte?

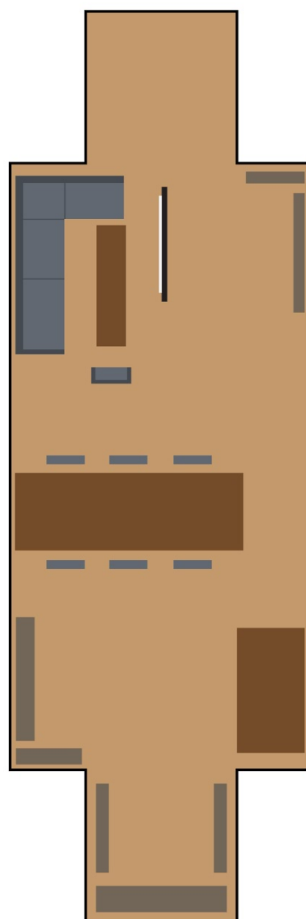
Vul het antwoord in op je scherm.



— = 10 m

**Opgave 23** Wat is de oppervlakte?

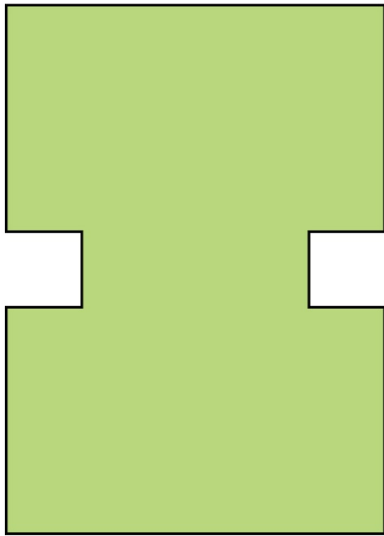
Vul het antwoord in op je scherm.



— = 1 m

**Opgave 24** Wat is de oppervlakte?


Vul het antwoord in op je scherm.



— = 10 km

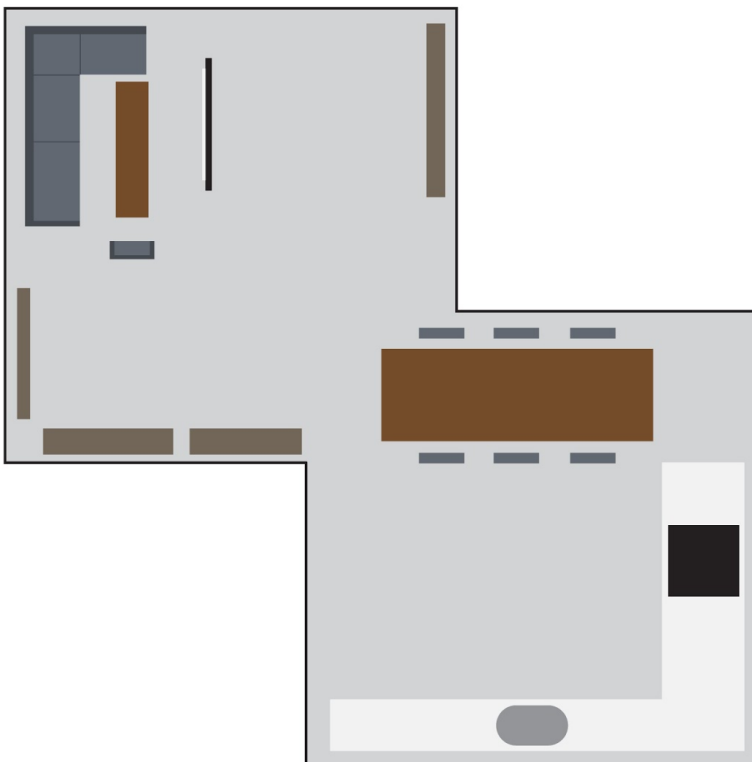
**Opgave 25** Wat is de oppervlakte?

Vul het antwoord in op je scherm.



— = 2 km

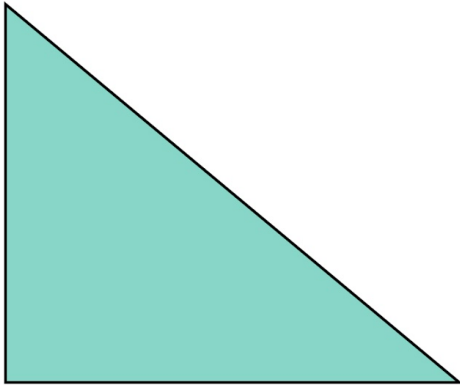
**Opgave 26** Wat is de oppervlakte? Vul het antwoord in op je scherm.



— = 1 m

**Opgave 27** Wat is de oppervlakte?

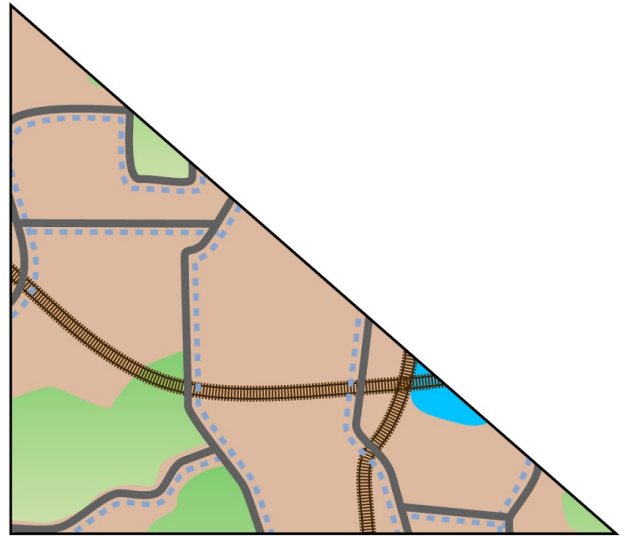
Vul het antwoord in op je scherm.



|—| = 1 km

**Opgave 28** Wat is de oppervlakte?

Vul het antwoord in op je scherm.



|—| = 2 km

**Opgave 29** Wat is de oppervlakte?


Vul het antwoord in op je scherm.



|—| = 2 km

**Opgave 30** Wat is de oppervlakte?

Vul het antwoord in op je scherm.



|—| = 10 km