

**Meetkunde 019****Eiland:** Figuren tekenen**Doel:** Teken van figuren met gegeven lengtes

Liniaal




Potlood

Bij elke opgave moet je een figuur tekenen. Achterin dit werkblad vind je vakken waarin je de figuren kunt tekenen.


- Opgave 1** Teken een vierkant met zijden van 2 cm.
- Opgave 2** Teken een vierkant met zijden van 4 cm.
- Opgave 3** Teken een vierkant met zijden van 5 cm.
- Opgave 4** Teken een vierkant met zijden van 6 cm.
- Opgave 5** Teken een vierkant met zijden van 3 cm.
- Opgave 6** Teken een vierkant met zijden van 7 cm.
- Opgave 7** Teken een vierkant met zijden van 2,5 cm.
- Opgave 8** Teken een vierkant met zijden van 3,5 cm.
- Opgave 9** Teken een vierkant met zijden van 5,5 cm.
- Opgave 10** Teken een vierkant met zijden van 6,5 cm.
- Opgave 11** Teken een rechthoek met een zijde van 3 cm en een zijde van 2 cm.
- Opgave 12** Teken een rechthoek met een zijde van 4 cm en een zijde van 2 cm.
- Opgave 13** Teken een rechthoek met een zijde van 5 cm en een zijde van 1 cm.

- Opgave 14** Teken een rechthoek met een zijde van 6 cm en een zijde van 3 cm.
- Opgave 15** Teken een rechthoek met een zijde van 4 cm en een zijde van 1,5 cm.
- Opgave 16** Teken een rechthoek met een zijde van 5 cm en een zijde van 2,5 cm.
- Opgave 17** Teken een rechthoek met een zijde van 6 cm en een zijde van 1,5 cm.
- Opgave 18** Teken een rechthoek met een zijde van 6,5 cm en een zijde van 2,5 cm.
- Opgave 19** Teken een rechthoek met een zijde van 4,5 cm en een zijde van 2,5 cm.
- Opgave 20** Teken een rechthoek met een zijde van 5,5 cm en een zijde van 3,5 cm.
- Opgave 21** Teken een driehoek met zijden van 3 cm.
- Opgave 22** Teken een driehoek met zijden van 4 cm.
- Opgave 23** Teken een driehoek met zijden van 5 cm.
- Opgave 24** Teken een driehoek met zijden van 6 cm.
- Opgave 25** Teken een driehoek met zijden van 7 cm.
- Opgave 26** Teken een driehoek met zijden van 2,5 cm.
- Opgave 27** Teken een driehoek met zijden van 3,5 cm.
- Opgave 28** Teken een driehoek met zijden van 4,5 cm.
- Opgave 29** Teken een driehoek met zijden van 5,5 cm.
- Opgave 30** Teken een driehoek met zijden van 6,5 cm.


Teken hieronder het figuur. Zet het opdrachtnummer erbij.



Teken hieronder het figuur. Zet het opdrachtnummer erbij.



Teken hieronder het figuur. Zet het opdrachtnummer erbij.



Teken hieronder het figuur. Zet het opdrachtnummer erbij.

