

## Getalbegrip 001



**Eiland:** Tellen van hoeveelheden

**Doel:** Tellen van ongestructureerde hoeveelheden t/m 20


### Opgave 1 Hoeveel gieters tel je?

Vul het antwoord in op je scherm.




### Opgave 2 Hoeveel spaarvarkens tel je?

Vul het antwoord in op je scherm.



### Opgave 3 Hoeveel watermeloenen tel je?

Vul het antwoord in op je scherm.




### Opgave 4 Hoeveel horloges tel je?


Vul het antwoord in op je scherm.




**Opgave 5** Hoeveel knikkers tel je?  
Vul het antwoord in op je scherm.




**Opgave 6** Hoeveel scharen tel je?  
Vul het antwoord in op je scherm.



**Opgave 7** Hoeveel hamburgers tel je?  
Vul het antwoord in op je scherm.




**Opgave 8** Hoeveel gieters tel je?  
Vul het antwoord in op je scherm.




**Opgave 9** Hoeveel knikkers tel je?

Vul het antwoord in op je scherm.



**Opgave 10** Hoeveel leeuwen tel je?

Vul het antwoord in op je scherm.



**Opgave 11** Hoeveel lieveheersbeestjes tel je?

Vul het antwoord in op je scherm.



**Opgave 12** Hoeveel gieters tel je?

Vul het antwoord in op je scherm.




**Opgave 13** Hoeveel tablets tel je?

Vul het antwoord in op je scherm.




**Opgave 14** Hoeveel spaarvarkens tel je?

Vul het antwoord in op je scherm.




**Opgave 15** Hoeveel watermeloenen tel je?

Vul het antwoord in op je scherm.




**Opgave 16** Hoeveel leeuwen tel je?

Vul het antwoord in op je scherm.




**Opgave 17** Hoeveel scharen tel je?

Vul het antwoord in op je scherm.




**Opgave 18** Hoeveel gieters tel je?

Vul het antwoord in op je scherm.



**Opgave 19** Hoeveel hamburgers tel je?

Vul het antwoord in op je scherm.




**Opgave 20** Hoeveel tablets tel je?

Vul het antwoord in op je scherm.



**Opgave 21** Hoeveel knikkers tel je?

Vul het antwoord in op je scherm.



**Opgave 22** Hoeveel horloges tel je?

Vul het antwoord in op je scherm.




**Opgave 23** Hoeveel lieveheersbeestjes tel je?

Vul het antwoord in op je scherm.




**Opgave 24** Hoeveel spaarvarkens tel je?

Vul het antwoord in op je scherm.




**Opgave 25** Hoeveel watermeloenen tel je?

Vul het antwoord in op je scherm.



**Opgave 26** Hoeveel knikkers tel je?

Vul het antwoord in op je scherm.




**Opgave 27** Hoeveel gieters tel je?

Vul het antwoord in op je scherm.



**Opgave 28** Hoeveel scharen tel je?

Vul het antwoord in op je scherm.



**Opgave 29** Hoeveel tablets tel je?

Vul het antwoord in op je scherm.



**Opgave 30** Hoeveel spaarvarkens tel je?

Vul het antwoord in op je scherm.

