

Meten 012

Eiland: Lengte met schaalverhouding
Doel: Rekenen met verhoudingen met schaduw



Opgave 1 Hoe lang is de schaduw in het echt?

Vul het antwoord in op je scherm.



Opgave 2 Hoe lang is de schaduw in het echt?

Vul het antwoord in op je scherm.



Opgave 3 Hoe lang is de schaduw in het echt?

Vul het antwoord in op je scherm.



Opgave 4 Hoe lang is de schaduw in het echt?

Vul het antwoord in op je scherm.



Opgave 5 Hoe lang is de schaduw in het echt?

Vul het antwoord in op je scherm.




Opgave 6 Hoe lang moet de schaduw van B op de tekening zijn?

Vul het antwoord in op je scherm.



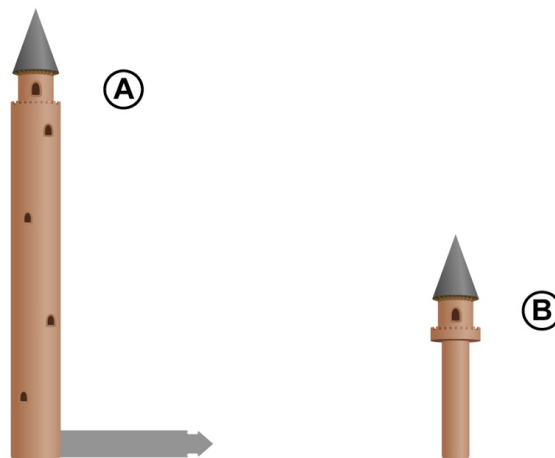
Opgave 7 Hoe lang moet de schaduw van B op de tekening zijn?

Vul het antwoord in op je scherm.




Opgave 8 Hoe lang moet de schaduw van B op de tekening zijn?

Vul het antwoord in op je scherm.



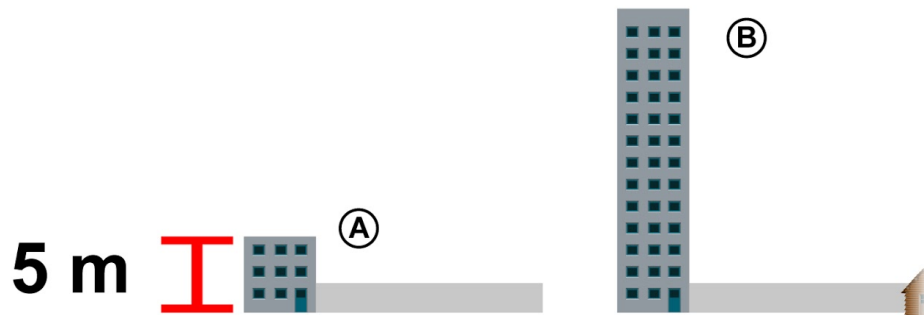
Opgave 9 Hoe lang is de schaduw van B in het echt?

Vul het antwoord in op je scherm.



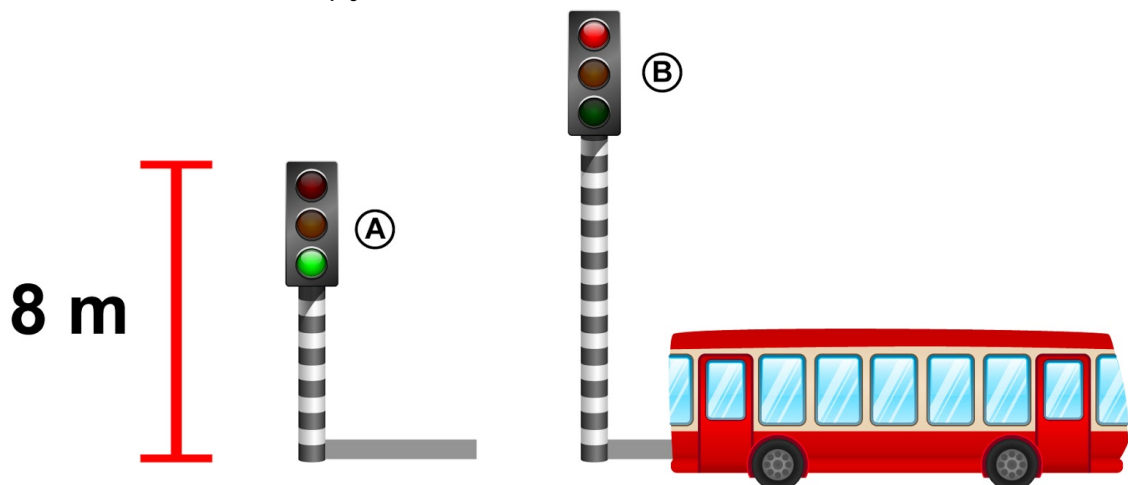
Opgave 10 Hoe lang is de schaduw van B in het echt?

Vul het antwoord in op je scherm.



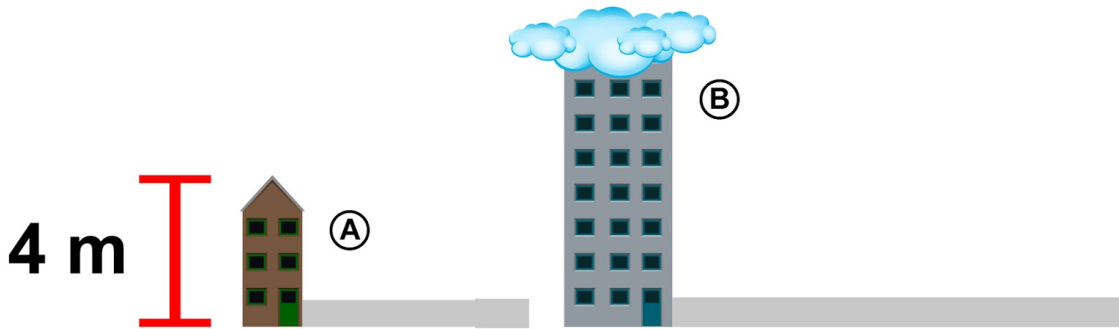
Opgave 11 Hoe lang is de schaduw van B in het echt?

Vul het antwoord in op je scherm.




Opgave 12 Hoe hoog is B in het echt?

Vul het antwoord in op je scherm.



Opgave 13 Hoe hoog is B in het echt?

Vul het antwoord in op je scherm.



Opgave 14 Hoe lang is de schaduw in het echt?

Vul het antwoord in op je scherm.




Opgave 15 Hoe lang is de schaduw in het echt?

Vul het antwoord in op je scherm.



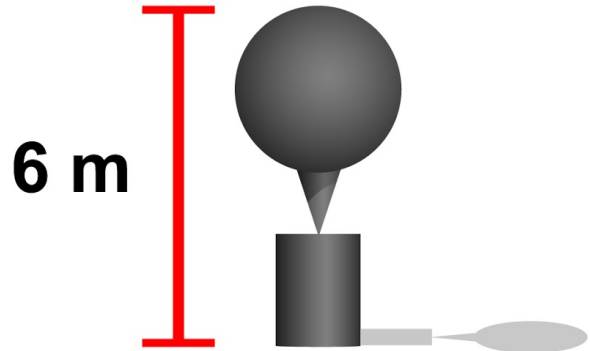
Opgave 16 Hoe lang is de schaduw in het echt?

Vul het antwoord in op je scherm.



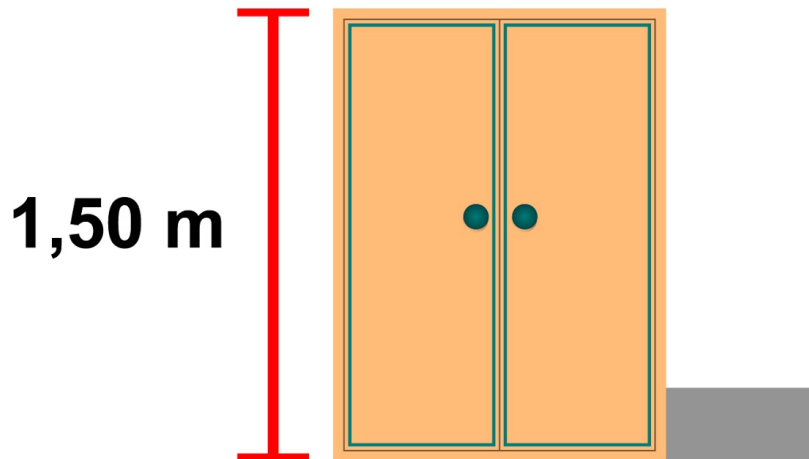
Opgave 17 Hoe lang is de schaduw in het echt?

Vul het antwoord in op je scherm.




Opgave 18 Hoe lang is de schaduw in het echt?

Vul het antwoord in op je scherm.



Opgave 19 Hoe lang moet de schaduw van B op de tekening zijn?

Vul het antwoord in op je scherm.



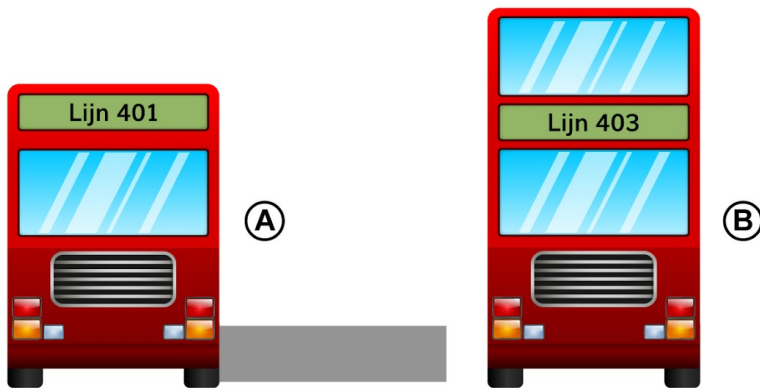
Opgave 20 Hoe lang moet de schaduw van B op de tekening zijn?

Vul het antwoord in op je scherm.



Opgave 21 Hoe lang moet de schaduw van B op de tekening zijn?

Vul het antwoord in op je scherm.




Opgave 22 Hoe lang is de schaduw van B in het echt?

Vul het antwoord in op je scherm.



Opgave 23 Hoe lang is de schaduw van B in het echt?

Vul het antwoord in op je scherm.

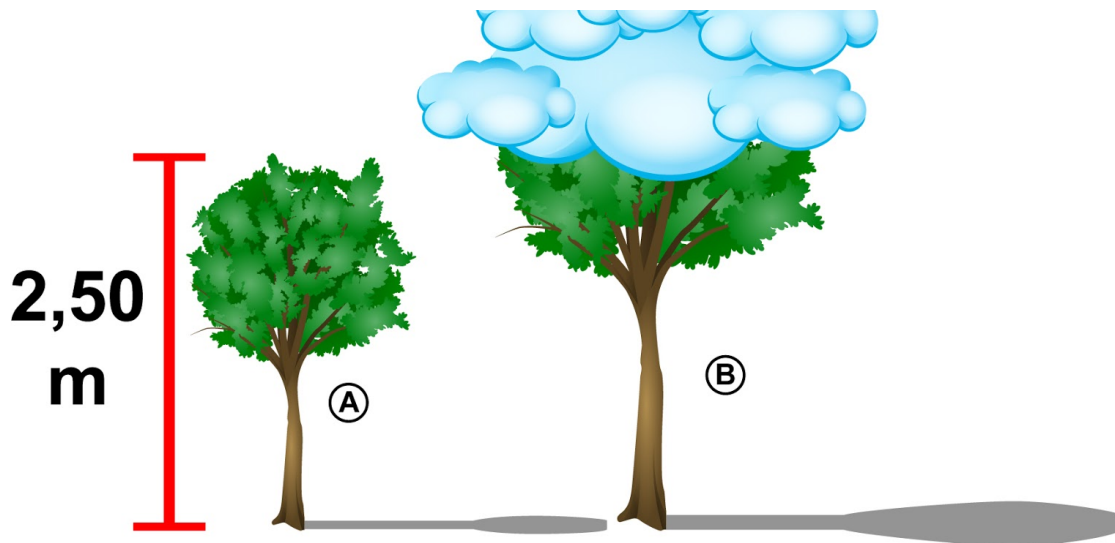


Opgave 24 Hoe lang is de schaduw van B in het echt?

Vul het antwoord in op je scherm.

**Opgave 25** Hoe hoog is B in het echt?

Vul het antwoord in op je scherm.



Opgave 26 Hoe hoog is B in het echt?
Vul het antwoord in op je scherm.

