

Meten 001

Eiland: Lengte met schaalverhouding
Doel: Berekenen van lengtes met schaal



Opgave 1 Wat is de hoogte van het kopje in het echt?

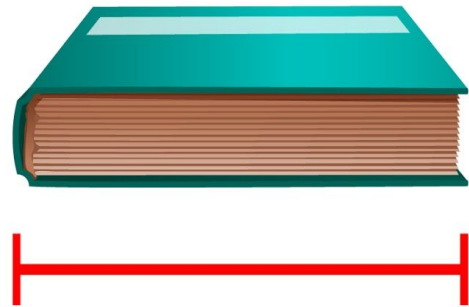
Vul het antwoord in op je scherm.



schaal 1 : 2

Opgave 2 Wat is de breedte van het boek in het echt?

Vul het antwoord in op je scherm.



schaal 1 : 2

Opgave 3 Wat is de lengte van de pen in het echt?

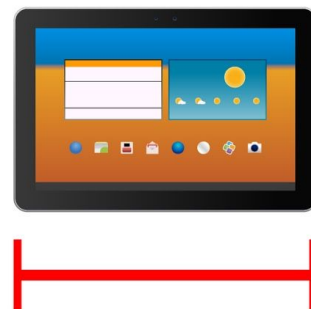
Vul het antwoord in op je scherm.



schaal 1 : 2

Opgave 4 Wat is de breedte van de tablet in het echt?

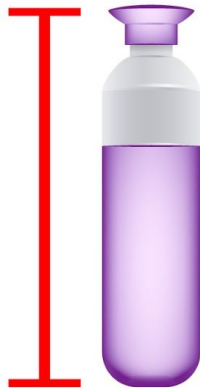
Vul het antwoord in op je scherm.



schaal 1 : 5

Opgave 5 Wat is de hoogte van de bidon in het echt?

Vul het antwoord in op je scherm.



schaal 1 : 5

Opgave 6 Wat is de hoogte van de telefoon in het echt?


Vul het antwoord in op je scherm.



schaal 1 : 2

Opgave 7 Wat is de hoogte van het schrift in het echt?


Vul het antwoord in op je scherm.



schaal 1 : 6

Opgave 8 Wat is de hoogte van de hond in het echt?

Vul het antwoord in op je scherm.



schaal 1 : 10

Opgave 9 Wat is de hoogte van de stoel in het echt?


Vul het antwoord in op je scherm.



schaal 1 : 10

Opgave 10 Wat is de breedte van de tafel in het echt?

Vul het antwoord in op je scherm.



schaal 1 : 10

Opgave 11 Wat is de lengte en breedte van de televisie in het echt?


Vul het antwoord in op je scherm.



schaal 1 : 10

Opgave 12 Wat is de lengte en breedte van het tennisracket in het echt?

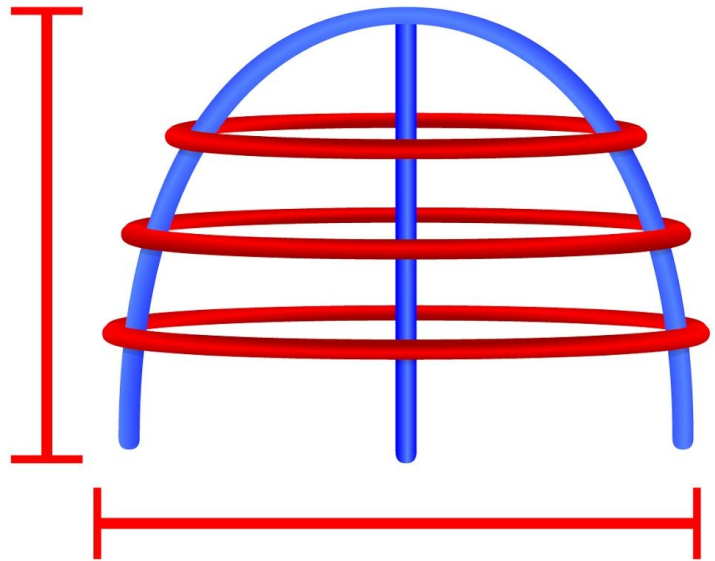
Vul het antwoord in op je scherm.



schaal 1 : 10

Opgave 13 Wat is de hoogte en lengte van het klimrek in het echt?

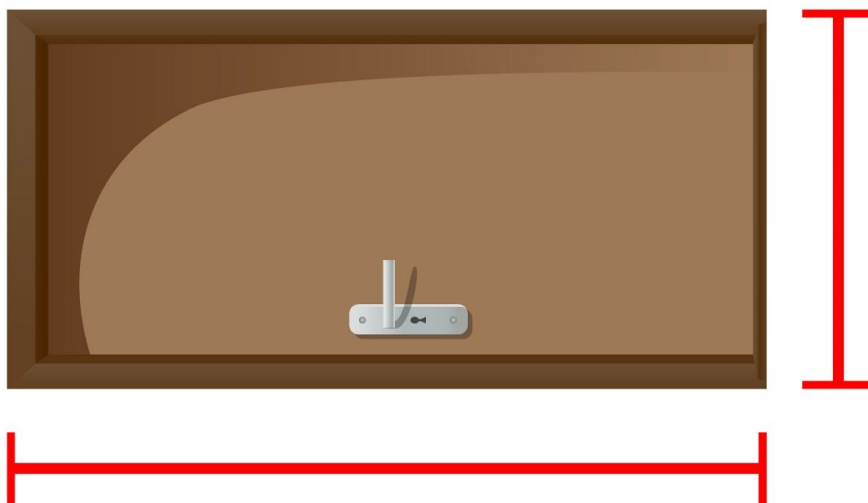
Vul het antwoord in op je scherm.



schaal 1 : 25

Opgave 14 Wat is de hoogte en breedte van de deur in het echt?

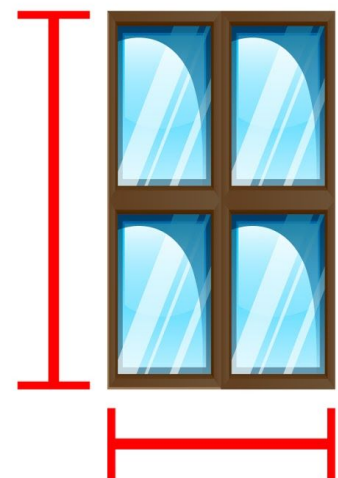
Vul het antwoord in op je scherm.



schaal 1 : 20

Opgave 15 Wat is de hoogte en breedte van het raam in het echt?

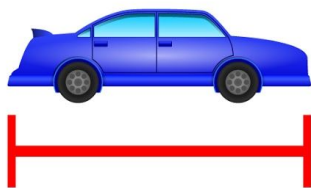
Vul het antwoord in op je scherm.



schaal 1 : 15

Opgave 16 Wat is de lengte van de auto in het echt?


Vul het antwoord in op je scherm.



schaal 1 : 100

Opgave 17 Wat is de hoogte van de boom in het echt?

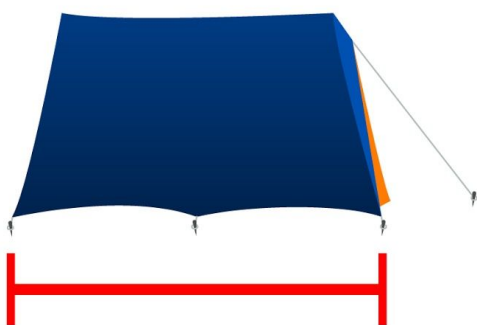
Vul het antwoord in op je scherm.



schaal 1 : 100

Opgave 18 Wat is de breedte van de tent in het echt?

Vul het antwoord in op je scherm.



schaal 1 : 100

Opgave 19 Wat is de lengte van de bank in het echt?


Vul het antwoord in op je scherm.



schaal 1 : 50

Opgave 20 Wat is de hoogte van de glijbaan in het echt?

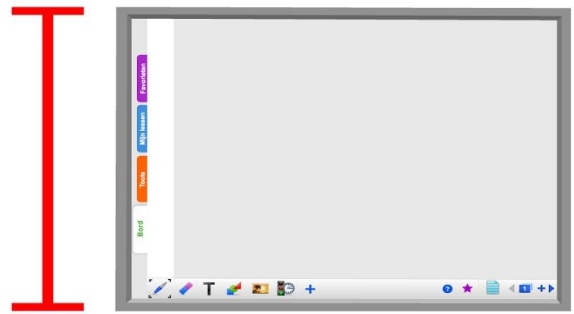
Vul het antwoord in op je scherm.



schaal 1 : 50

Opgave 21 Wat is de hoogte en breedte van het digibord in het echt? Noteer je antwoord in meters.


Vul het antwoord in op je scherm.



schaal 1 : 50

Opgave 22 Wat is de lengte en hoogte van de aanhanger in het echt? Noteer je antwoord in meters.

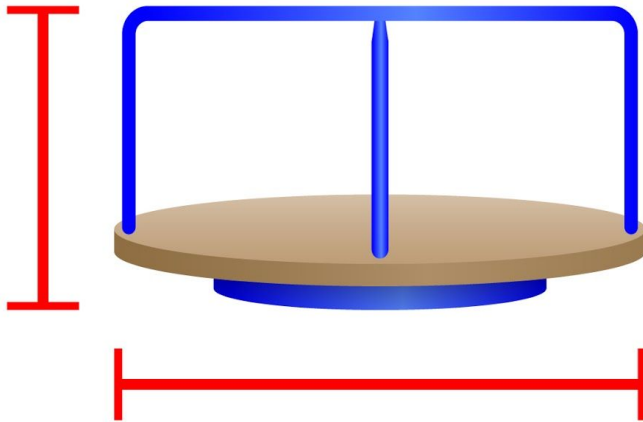
Vul het antwoord in op je scherm.



schaal 1 : 50

Opgave 23 Wat is de breedte en hoogte van het draairad in het echt?

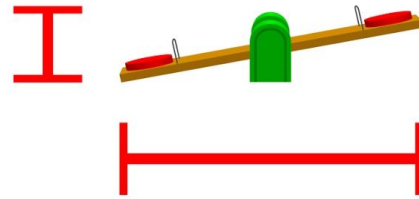
Vul het antwoord in op je scherm.



schaal 1 : 100

Opgave 24 Wat is de lengte en hoogte van de wip in het echt? Noteer je antwoord in meters.


Vul het antwoord in op je scherm.



schaal 1 : 100

Opgave 25 Wat is de lengte en hoogte van de vrachtwagen in het echt? Noteer je antwoord in meters.


Vul het antwoord in op je scherm.



schaal 1 : 100

Opgave 26 Wat is de hoogte van de hijskraan in het echt? Noteer je antwoord in meters.


Vul het antwoord in op je scherm.



schaal 1 : 200

Opgave 27 Wat is de lengte van de karretjes in het echt? Noteer je antwoord in meters.

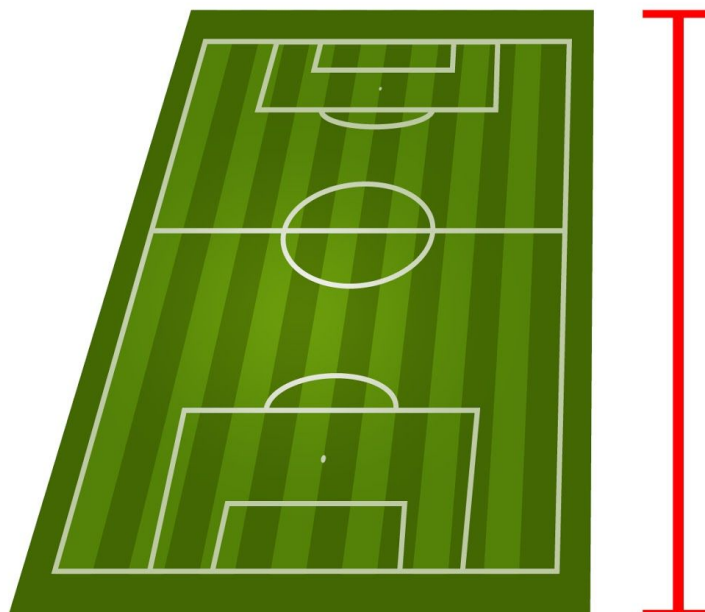
Vul het antwoord in op je scherm.



schaal 1 : 150

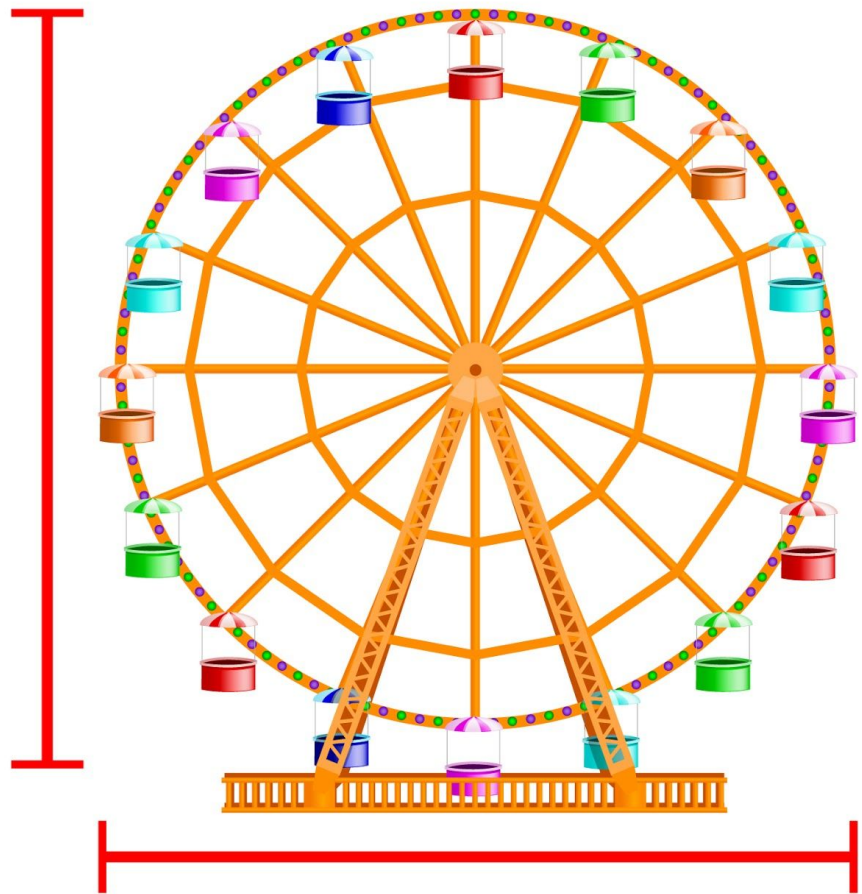
Opgave 28 Wat is de lengte van het voetbalveld in het echt? Noteer je antwoord in meters.

Vul het antwoord in op je scherm.



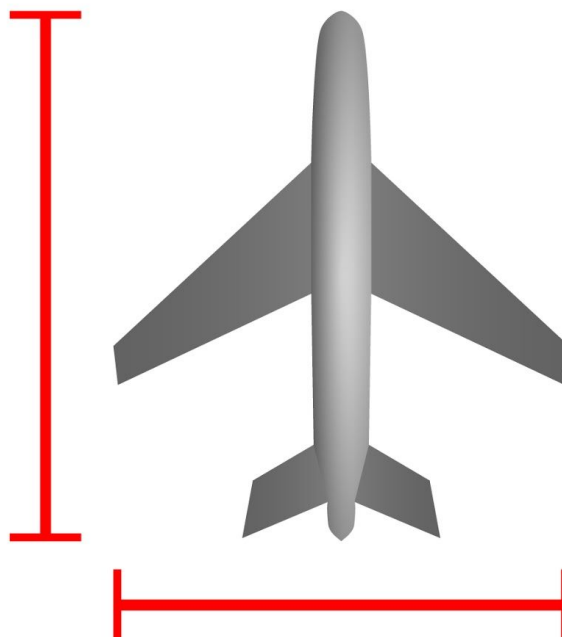
schaal 1 : 1000

Opgave 29 Wat is de hoogte en lengte van het reuzenrad in het echt? Noteer je antwoord in meters. Vul het antwoord in op je scherm.



schaal 1 : 1500

Opgave 30 Wat is de lengte en breedte van het vliegtuig in het echt? Noteer je antwoord in meters. Vul het antwoord in op je scherm.



schaal 1 : 1000