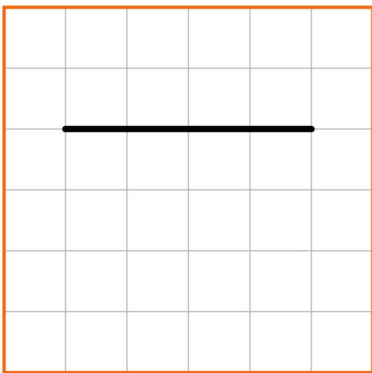


Meetkunde 012

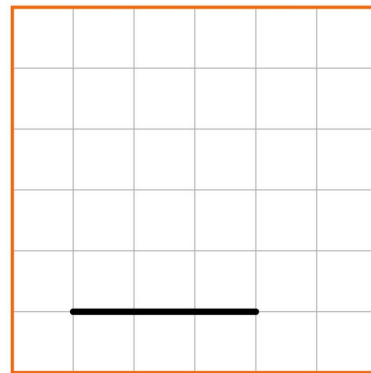
Eiland: Lijnen
Doel: Teken en evenwijdige lijnen



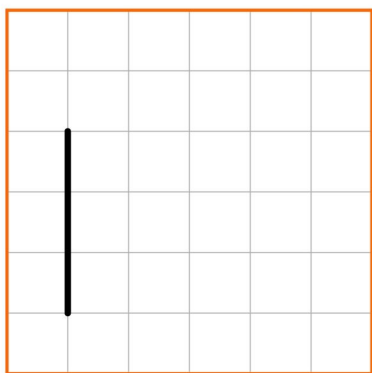
Opgave 1 Teken een lijn die evenwijdig is aan deze lijn.



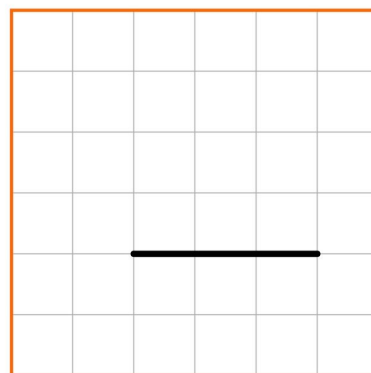
Opgave 2 Teken een lijn die evenwijdig is aan deze lijn.



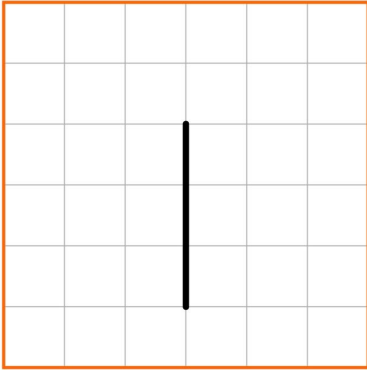
Opgave 3 Teken een lijn die evenwijdig is aan deze lijn.



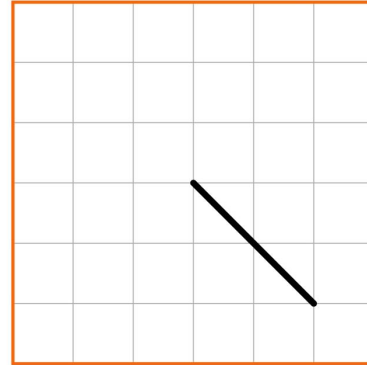
Opgave 4 Teken een lijn die evenwijdig is aan deze lijn.



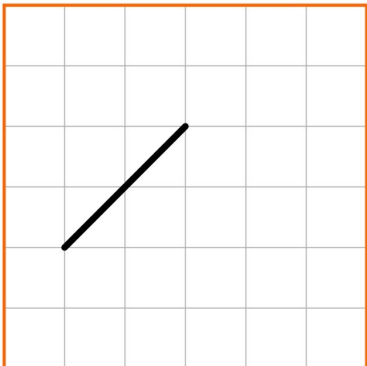
Opgave 5 Teken een lijn die evenwijdig is aan deze lijn.



Opgave 6 Teken een lijn die evenwijdig is aan deze lijn.



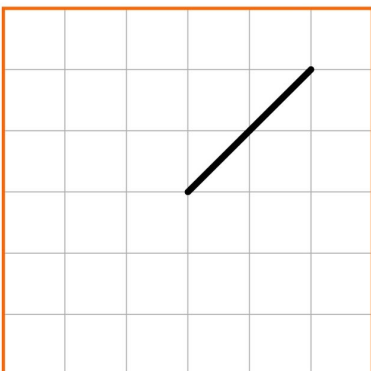
Opgave 7 Teken een lijn die evenwijdig is aan deze lijn.



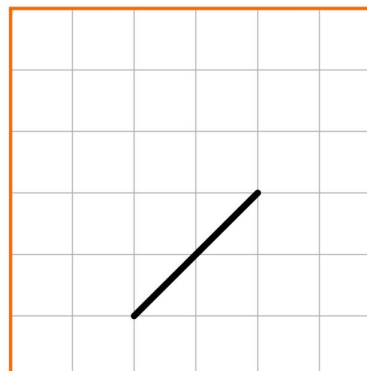
Opgave 8 Teken een lijn die evenwijdig is aan deze lijn.




Opgave 9 Teken een lijn die evenwijdig is aan deze lijn.



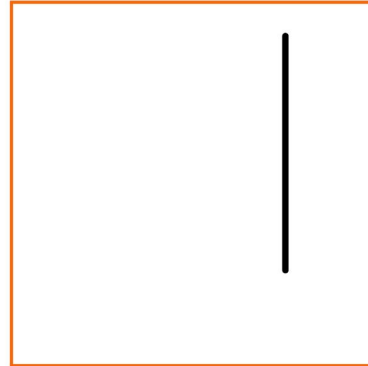
Opgave 10 Teken een lijn die evenwijdig is aan deze lijn.




Opgave 11 Teken een lijn die evenwijdig is aan deze lijn.




Opgave 12 Teken een lijn die evenwijdig is aan deze lijn.




Opgave 13 Teken een lijn die evenwijdig is aan deze lijn.



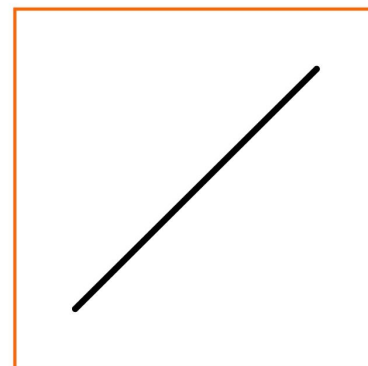
Opgave 14 Teken een lijn die evenwijdig is aan deze lijn.




Opgave 15 Teken een lijn die evenwijdig is aan deze lijn.



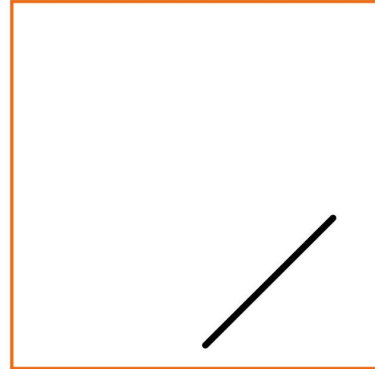
Opgave 16 Teken een lijn die evenwijdig is aan deze lijn.



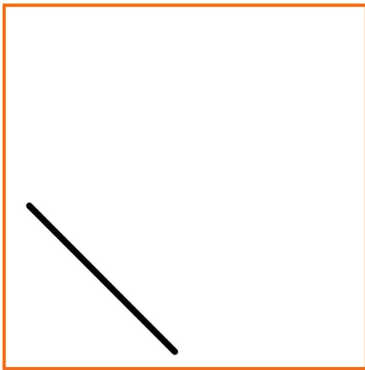
Opgave 17 Teken een lijn die evenwijdig is aan deze lijn.



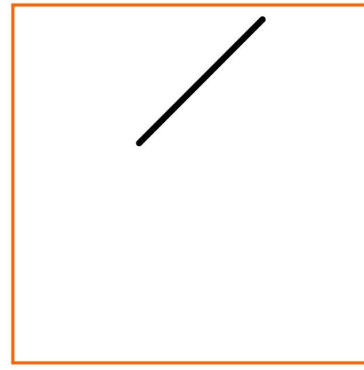
Opgave 18 Teken een lijn die evenwijdig is aan deze lijn.




Opgave 19 Teken een lijn die evenwijdig is aan deze lijn.



Opgave 20 Teken een lijn die evenwijdig is aan deze lijn.




Opgave 21 Teken twee evenwijdige lijnen.




Opgave 22 Teken twee evenwijdige lijnen.




Opgave 23 Teken twee evenwijdige lijnen.



Opgave 24 Teken twee evenwijdige lijnen.



Opgave 25 Teken twee evenwijdige lijnen.



Opgave 26 Teken twee evenwijdige lijnen.



Opgave 27 Teken twee evenwijdige lijnen.



Opgave 28 Teken twee evenwijdige lijnen.



Opgave 29 Teken twee evenwijdige lijnen.



Opgave 30 Teken twee evenwijdige lijnen.

