

Meetkunde 022

Eiland: Hoeken

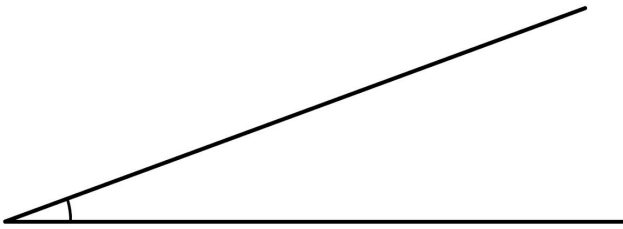
Doel: Kunnen opmeten van een hoek

 Geodriehoek

 Potlood

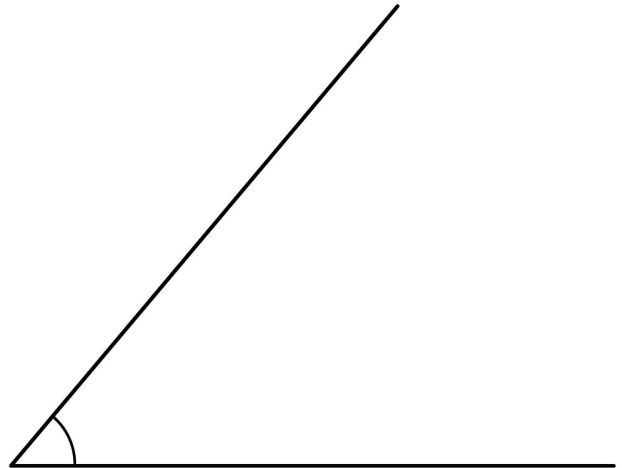
Opgave 1 Hoeveel graden is de hoek?

Vul het antwoord in op je scherm.



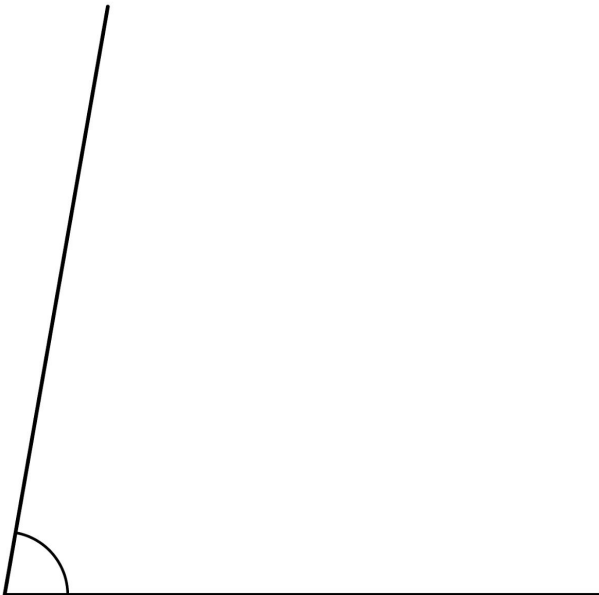
Opgave 2 Hoeveel graden is de hoek?

Vul het antwoord in op je scherm.




Opgave 3 Hoeveel graden is de hoek?

Vul het antwoord in op je scherm.



Opgave 4 Hoeveel graden is de hoek?

Vul het antwoord in op je scherm.



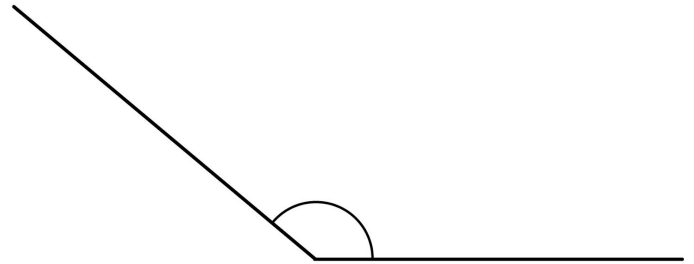
Opgave 5 Hoeveel graden is de hoek?

Vul het antwoord in op je scherm.



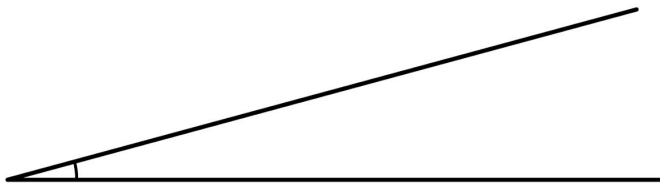
Opgave 6 Hoeveel graden is de hoek?

Vul het antwoord in op je scherm.



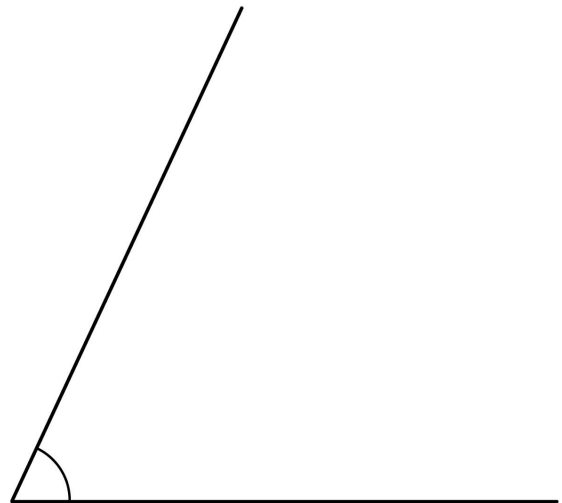
Opgave 7 Hoeveel graden is de hoek?

Vul het antwoord in op je scherm.




Opgave 8 Hoeveel graden is de hoek?

Vul het antwoord in op je scherm.




Opgave 9 Hoeveel graden is de hoek?

Vul het antwoord in op je scherm.



Opgave 10 Hoeveel graden is de hoek?

Vul het antwoord in op je scherm.



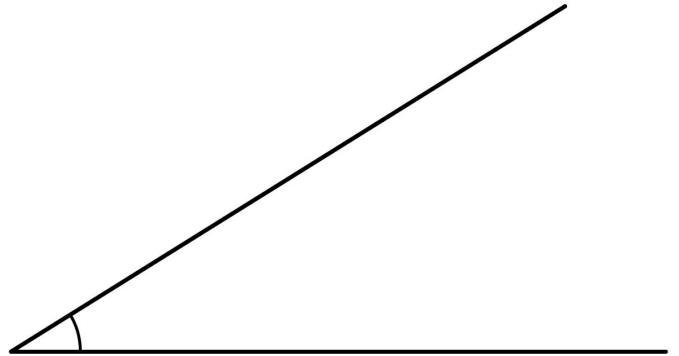
Opgave 11 Hoeveel graden is de hoek?

Vul het antwoord in op je scherm.



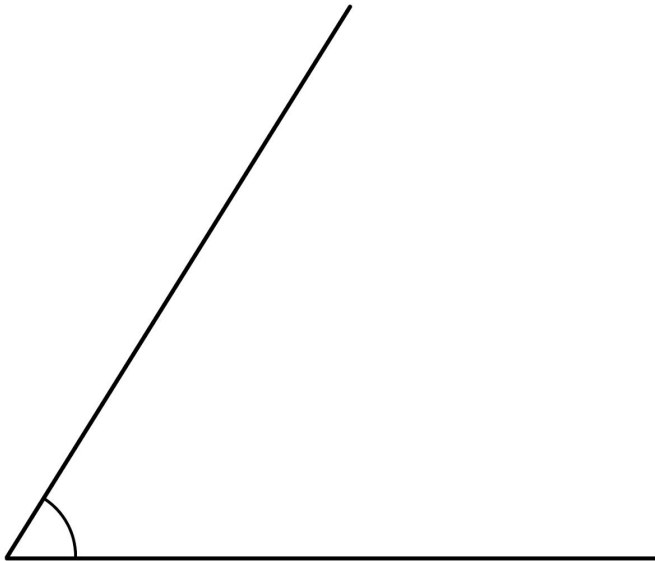
Opgave 12 Hoeveel graden is de hoek?

Vul het antwoord in op je scherm.



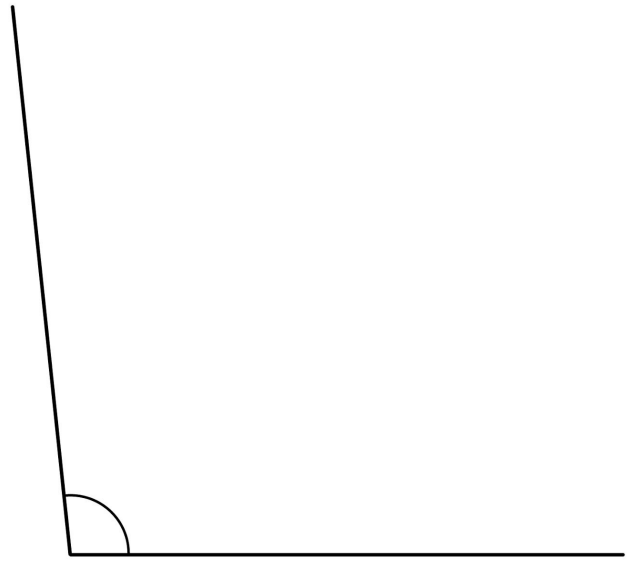
Opgave 13 Hoeveel graden is de hoek?

Vul het antwoord in op je scherm.



Opgave 14 Hoeveel graden is de hoek?

Vul het antwoord in op je scherm.



Opgave 15 Hoeveel graden is de hoek?

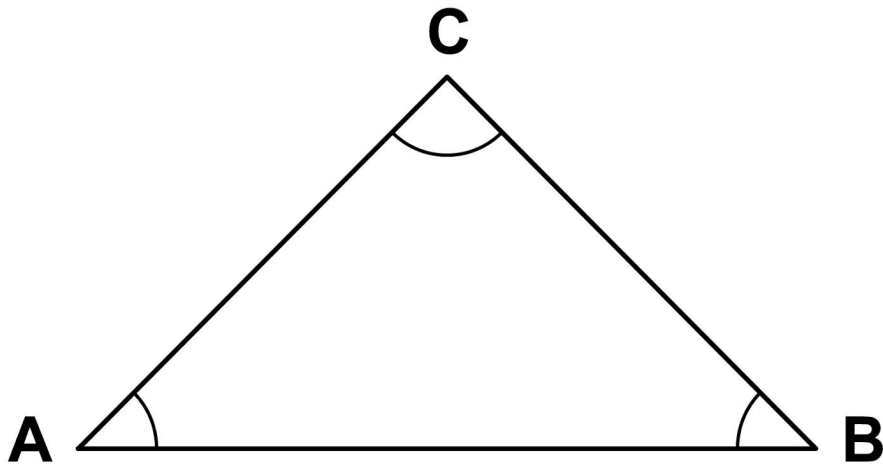
Vul het antwoord in op je scherm.



Opgave 16 Hoeveel graden is hoek A?
Vul het antwoord in op je scherm.

Opgave 18 Hoeveel graden is hoek C?
Vul het antwoord in op je scherm.

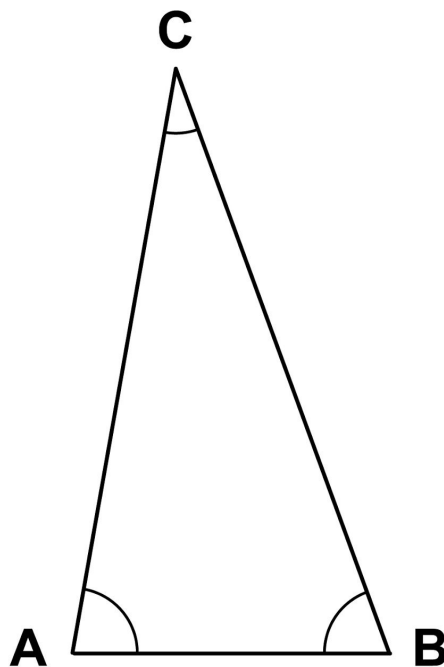
Opgave 17 Hoeveel graden is hoek B?
Vul het antwoord in op je scherm.



Opgave 19 Hoeveel graden is hoek A?
Vul het antwoord in op je scherm.

Opgave 21 Hoeveel graden is hoek C?
Vul het antwoord in op je scherm.

Opgave 20 Hoeveel graden is hoek B?
Vul het antwoord in op je scherm.

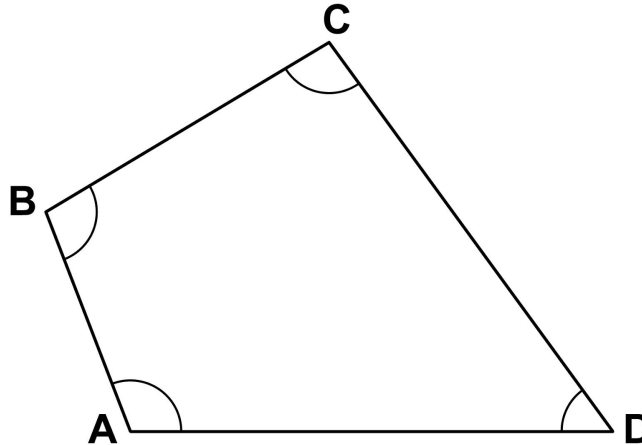


Opgave 22 Hoeveel graden is hoek A?
Vul het antwoord in op je scherm.

Opgave 23 Hoeveel graden is hoek B?
Vul het antwoord in op je scherm.

Opgave 24 Hoeveel graden is hoek C?
Vul het antwoord in op je scherm.

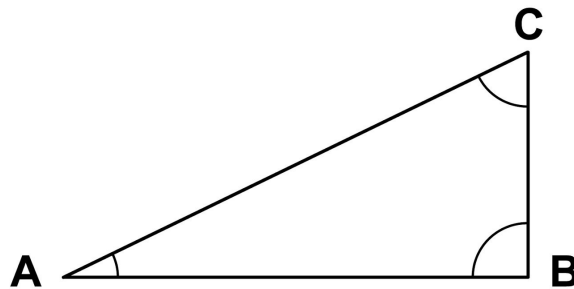
Opgave 25 Hoeveel graden is hoek D?
Vul het antwoord in op je scherm.



Opgave 26 Hoeveel graden is hoek A?
Vul het antwoord in op je scherm.

Opgave 27 Hoeveel graden is hoek B?
Vul het antwoord in op je scherm.

Opgave 28 Hoeveel graden is hoek C?
Vul het antwoord in op je scherm.



Opgave 29 Wat is het verschil in graden tussen hoek B en hoek D?

Vul het antwoord in op je scherm.

Opgave 30 Wat is het verschil in graden tussen hoek A en hoek C?

Vul het antwoord in op je scherm.

