


**Procenten, Breuken & Verhoudingen 002**

**Eiland:** Kennismaken met breuken  
**Doel:** Verdelen van een figuur in gelijke delen

**Opgave 1 Teken de hele.**

Dit is  $\frac{1}{2}$  deel van de strook.

**Opgave 2 Teken de hele.**

Dit is  $\frac{1}{3}$  deel van de strook.

**Opgave 3 Teken de hele.**

Dit is  $\frac{1}{4}$  deel van de strook.

**Opgave 4 Teken de hele.**

Dit is  $\frac{1}{5}$  deel van het touw.

**Opgave 5** Teken de hele.

Dit is  $\frac{1}{6}$  deel van het touw.

**Opgave 6** Teken de hele.

Dit is  $\frac{2}{3}$  deel van de strook.

**Opgave 7** Teken de hele.

Dit is  $\frac{3}{4}$  deel van de strook.

**Opgave 8** Teken de hele.

Dit is  $\frac{2}{5}$  deel van de strook.

**Opgave 9** Teken de hele.

Dit is  $\frac{5}{8}$  deel van het touw.

**Opgave 10** Teken de hele.

Dit is  $\frac{3}{10}$  deel van het touw.

**Opgave 11** Teken de hele plank.

Dit is  $\frac{1}{2}$  deel.

**Opgave 12** Teken de hele rij.

Dit is  $\frac{1}{4}$  deel.

**Opgave 13** Teken het hele snoer.

Dit is  $\frac{1}{5}$  deel.

**Opgave 14** Teken de hele slinger.

Dit is  $\frac{1}{8}$  deel.

**Opgave 15** Teken de hele rij.

Dit is  $\frac{1}{10}$  deel.

**Opgave 16** Teken de hele plank.

Dit is  $\frac{2}{3}$  deel.

**Opgave 17** Teken het hele snoer.

Dit is  $\frac{3}{5}$  deel.

**Opgave 18** Teken de hele rij.

Dit is  $\frac{5}{6}$  deel.

**Opgave 19** Teken de hele plank.

Dit is  $\frac{5}{8}$  deel.

Opgave 20 Teken de hele slinger.



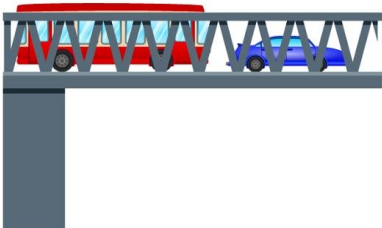
Dit is  $\frac{7}{10}$  deel.

Opgave 21 Teken de hele plank.



Dit is  $\frac{1}{2}$  deel.

Opgave 22 Teken de hele brug.



Dit is  $\frac{1}{3}$  deel.

Opgave 23 Teken de hele plank.



Dit is  $\frac{1}{6}$  deel.

**Opgave 24** Teken de hele ijsbaan.

Dit is  $\frac{1}{8}$  deel.

**Opgave 25** Teken de hele trein.

Dit is  $\frac{1}{4}$  deel.

**Opgave 26** Teken de hele rij tenten.

Dit is  $\frac{3}{4}$  deel.

**Opgave 27** Teken de hele trein.

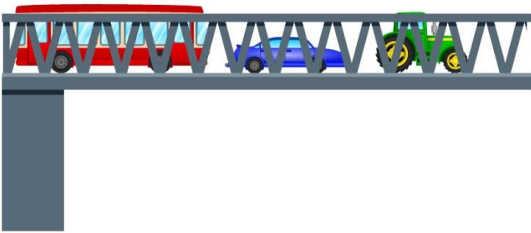
Dit is  $\frac{4}{5}$  deel.

Opgave 28 Teken de hele rij tenten.



Dit is  $\frac{5}{6}$  deel.

Opgave 29 Teken de hele brug.



Dit is  $\frac{7}{8}$  deel.

Opgave 30 Teken de hele ijsbaan.



Dit is  $\frac{3}{5}$  deel.