

Getalbegrip 6A




Eiland: Tellen van hoeveelheden

Doel: Tellen van ongestructureerde hoeveelheden t/m 20


Opgave 1 Hoeveel gieters tel je?

_____ gieters



Opgave 2 Hoeveel spaarvarkens tel je?

_____ spaarvarkens



Opgave 3 Hoeveel tablets tel je?

_____ tablets




Opgave 4 Hoeveel lieveheersbeestjes tel je?

_____ lieveheersbeestjes




Opgave 5 Hoeveel watermeloenen tel je?

_____ watermeloenen



Opgave 6 Hoeveel scharen tel je?

_____ scharen



Opgave 7 Hoeveel horloges tel je?

_____ horloges



Opgave 8 Hoeveel tablets tel je?

_____ tablets

