

Procenten, Breuken & Verhoudingen 006

Eiland: Rekenen met verhoudingen en aantallen
Doel: Kleuren van aantallen in verhouding



Opgave 1 Hoeveel bakjes?
Kleur het aantal.



Opgave 2 Hoeveel bakjes?
Kleur het aantal.




Opgave 3 Hoeveel bakjes?
Kleur het aantal.







Opgave 4 Hoeveel bakjes?
Kleur het aantal.



Opgave 5 Hoeveel bakjes?
Kleur het aantal.






Opgave 6 Hoeveel boterhammen?

Kleur het aantal.




Opgave 7 Hoeveel boterhammen?

Kleur het aantal.




Opgave 8 Hoeveel boterhammen?


Kleur het aantal.




Opgave 9 Hoeveel boterhammen?

Kleur het aantal.

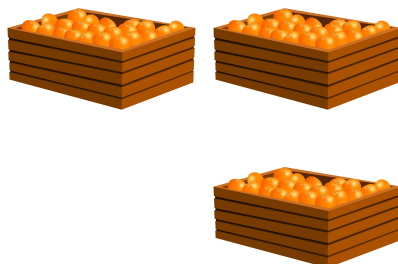




Opgave 10 Hoeveel kannen?
Kleur het aantal.



Opgave 11 Hoeveel kannen?
Kleur het aantal.



Opgave 12 Hoeveel kannen?
Kleur het aantal.

