


Meetkunde 020


Eiland: Vergroten en verkleinen
Doel: Lijnen vergroten en verkleinen



Opgave 1 Maak de lijn 2 keer zo lang.



Opgave 2 Maak de lijn 2 keer zo lang.



Opgave 3 Maak de lijn 2 keer zo lang.



Opgave 4 Maak de lijn 2 keer zo lang.



Opgave 5 Maak de lijn 3 keer zo lang.



Opgave 6 Maak de lijn 3 keer zo lang.



Opgave 7 Maak de lijn 3 keer zo lang.



Opgave 8 Maak de lijn 4 keer zo lang.



Opgave 9 Maak de lijn 5 keer zo lang.



Opgave 10 Maak de lijn 6 keer zo lang.



Opgave 11 Maak de lijn 7 keer zo lang.



Opgave 12 Maak de lijn 2 keer zo lang.



Opgave 13 Maak de lijn 4 keer zo lang.



Opgave 14 Maak de lijn 4 keer zo lang.



Opgave 15 Maak de lijn 2 keer zo lang.



Opgave 16 Maak de lijn 2 keer zo kort.

Teken de nieuwe lijn eronder.



Opgave 17 Maak de lijn 2 keer zo kort.


Teken de nieuwe lijn eronder.




Opgave 18 Maak de lijn 2 keer zo kort.

Teken de nieuwe lijn eronder.



Opgave 19 Maak de lijn 3 keer zo kort.*Teken de nieuwe lijn eronder.***Opgave 20** Maak de lijn 3 keer zo kort.*Teken de nieuwe lijn eronder.***Opgave 21** Maak de lijn 4 keer zo kort.*Teken de nieuwe lijn eronder.***Opgave 22** Maak de lijn 4 keer zo kort.*Teken de nieuwe lijn eronder.*

Opgave 23 Maak de lijn 5 keer zo kort.*Teken de nieuwe lijn eronder.***Opgave 24** Maak de lijn 5 keer zo kort.*Teken de nieuwe lijn eronder.***Opgave 25** Maak de lijn 6 keer zo kort.*Teken de nieuwe lijn eronder.***Opgave 26** Maak de lijn 7 keer zo kort.*Teken de nieuwe lijn eronder.*

Opgave 27 Maak de lijn 2 keer zo kort.*Teken de nieuwe lijn eronder.***Opgave 28** Maak de lijn 2 keer zo kort.*Teken de nieuwe lijn eronder.***Opgave 29** Maak de lijn 4 keer zo kort.*Teken de nieuwe lijn eronder.***Opgave 30** Maak de lijn 4 keer zo kort.*Teken de nieuwe lijn eronder.*