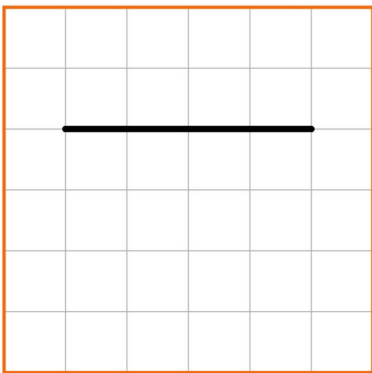


Meetkunde 011

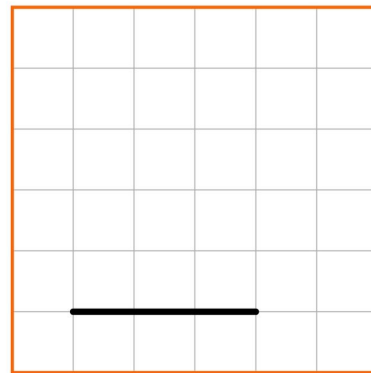
Eiland: Lijnen
Doel: Teken van loodrechte lijnen



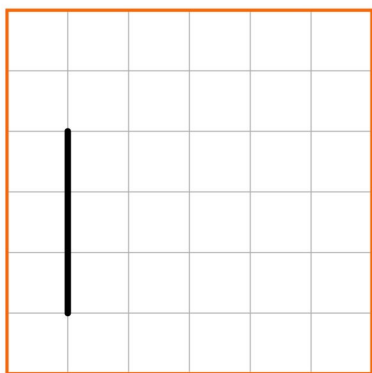
Opgave 1 Teken een loodrechte lijn op deze lijn.



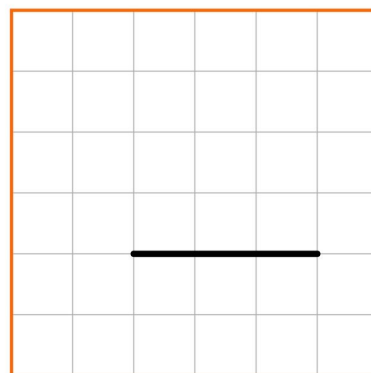
Opgave 2 Teken een loodrechte lijn op deze lijn.



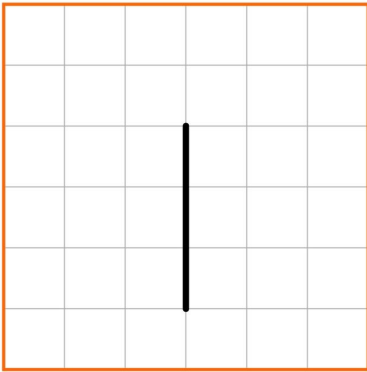
Opgave 3 Teken een loodrechte lijn op deze lijn.



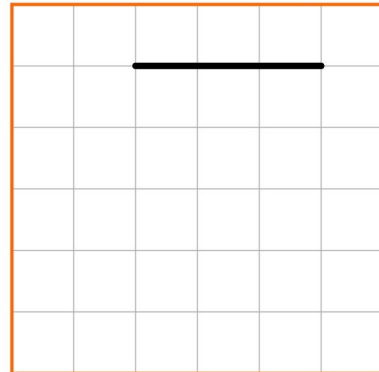
Opgave 4 Teken een loodrechte lijn op deze lijn.



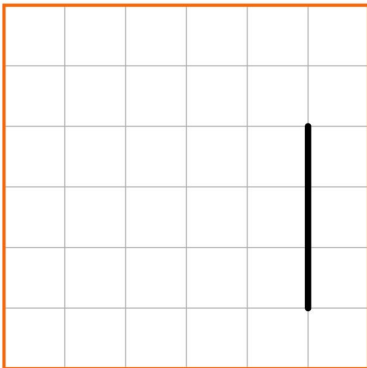
Opgave 5 Teken een loodrechte lijn op deze lijn.



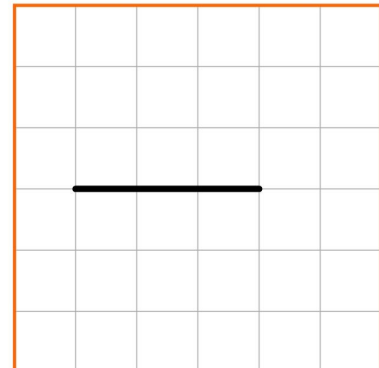
Opgave 6 Teken twee loodrechte lijnen op deze lijn.



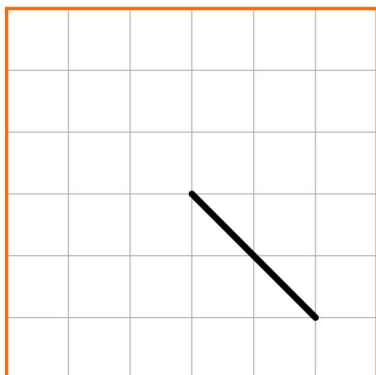
Opgave 7 Teken twee loodrechte lijnen op deze lijn.



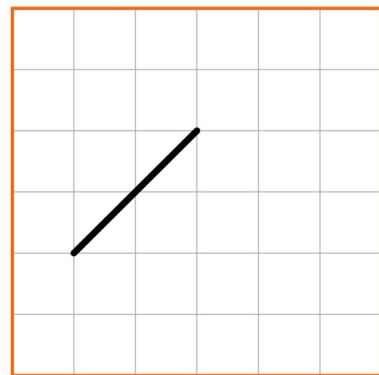
Opgave 8 Teken twee loodrechte lijnen op deze lijn.



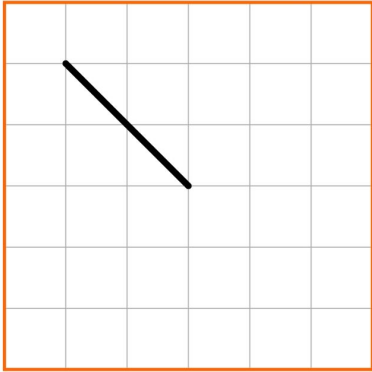
Opgave 9 Teken een loodrechte lijn op deze lijn.



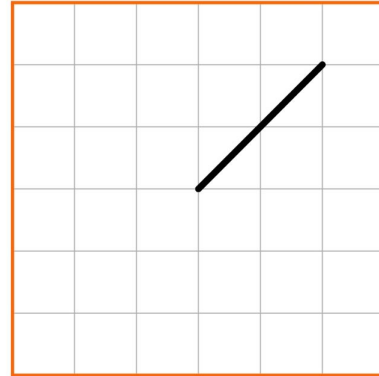
Opgave 10 Teken een loodrechte lijn op deze lijn.



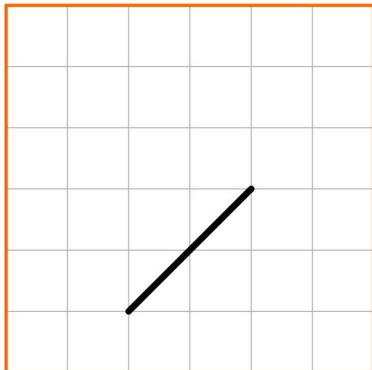
Opgave 11 Teken een loodrechte lijn op deze lijn.



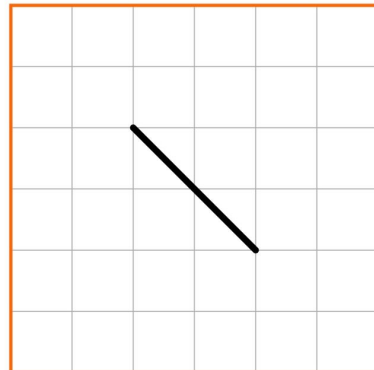
Opgave 12 Teken een loodrechte lijn op deze lijn.



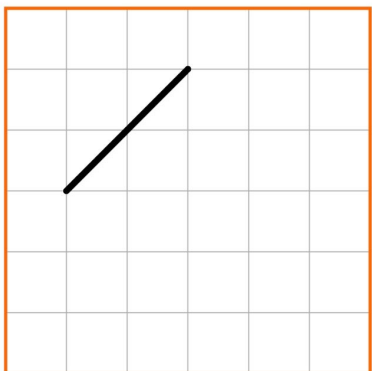
Opgave 13 Teken twee loodrechte lijnen op deze lijn.




Opgave 14 Teken twee loodrechte lijnen op deze lijn.




Opgave 15 Teken twee loodrechte lijnen op deze lijn.




Opgave 16 Teken een loodrechte lijn op deze lijn.




Opgave 17 Teken een loodrechte lijn op deze lijn.



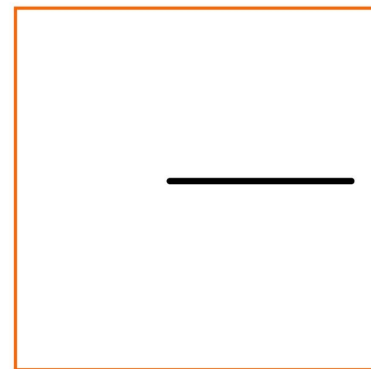
Opgave 18 Teken een loodrechte lijn op deze lijn.




Opgave 19 Teken een loodrechte lijn op deze lijn.




Opgave 20 Teken twee loodrechte lijnen op deze lijn.




Opgave 21 Teken twee loodrechte lijnen op deze lijn.




Opgave 22 Teken twee loodrechte lijnen op deze lijn.




Opgave 23 Teken twee loodrechte lijnen op deze lijn.



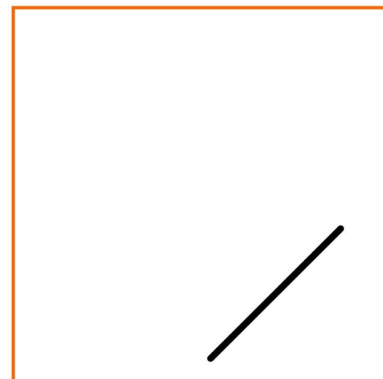
Opgave 24 Teken een loodrechte lijn op deze lijn.



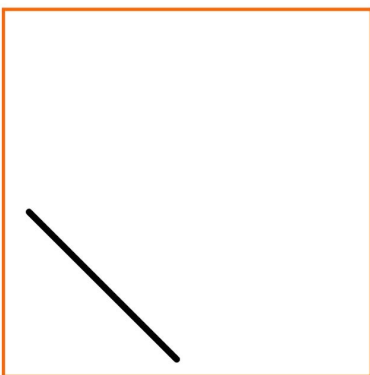
Opgave 25 Teken een loodrechte lijn op deze lijn.



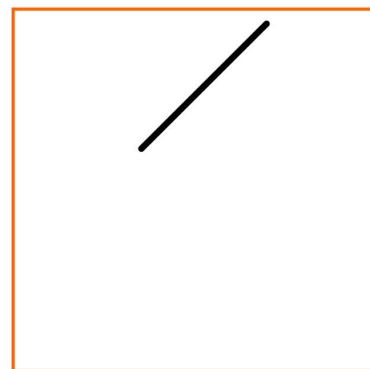
Opgave 26 Teken twee loodrechte lijnen op deze lijn




Opgave 27 Teken twee loodrechte lijnen op deze lijn



Opgave 28 Teken twee loodrechte lijnen op deze lijn



Opgave 29 Teken twee loodrechte lijnen op deze lijn



Opgave 30 Teken twee loodrechte lijnen op deze lijn

