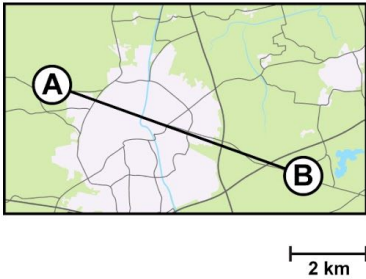


Meten 005

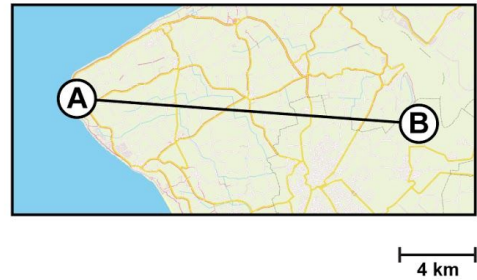
Eiland: Lengte met schaalverhouding
Doel: Berekenen van afstand met schaal



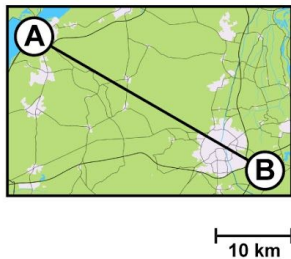
Opgave 1 Wat is de afstand tussen A en B?
Vul het antwoord in op je scherm.



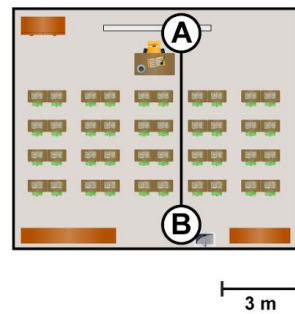
Opgave 2 Wat is de afstand tussen A en B?
Vul het antwoord in op je scherm.



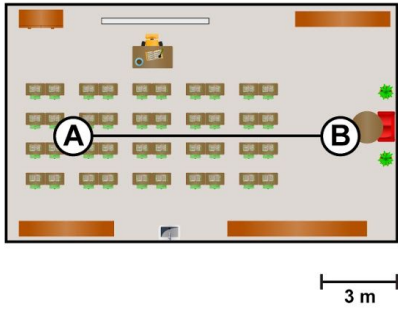
Opgave 3 Wat is de afstand tussen A en B?
Vul het antwoord in op je scherm.



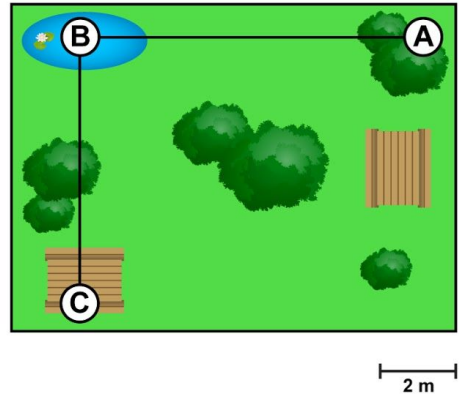
Opgave 4 Wat is de afstand tussen A en B?
Vul het antwoord in op je scherm.



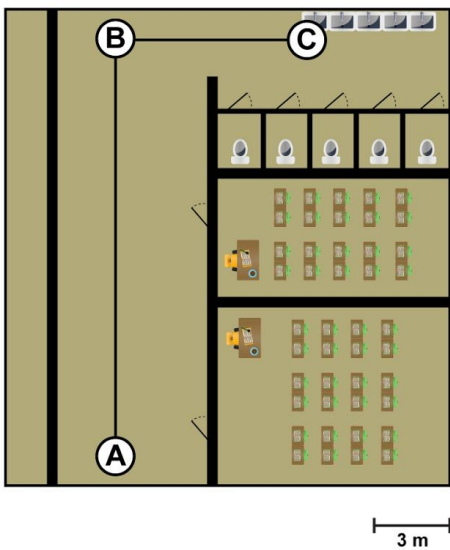
Opgave 5 Wat is de afstand tussen A en B?
 Vul het antwoord in op je scherm.



Opgave 6 Wat is de afstand van A naar C via B?
 Vul het antwoord in op je scherm.



Opgave 7 Wat is de afstand van A naar C via B?
 Vul het antwoord in op je scherm.



Opgave 8 Wat is de afstand van A naar D via B en C?

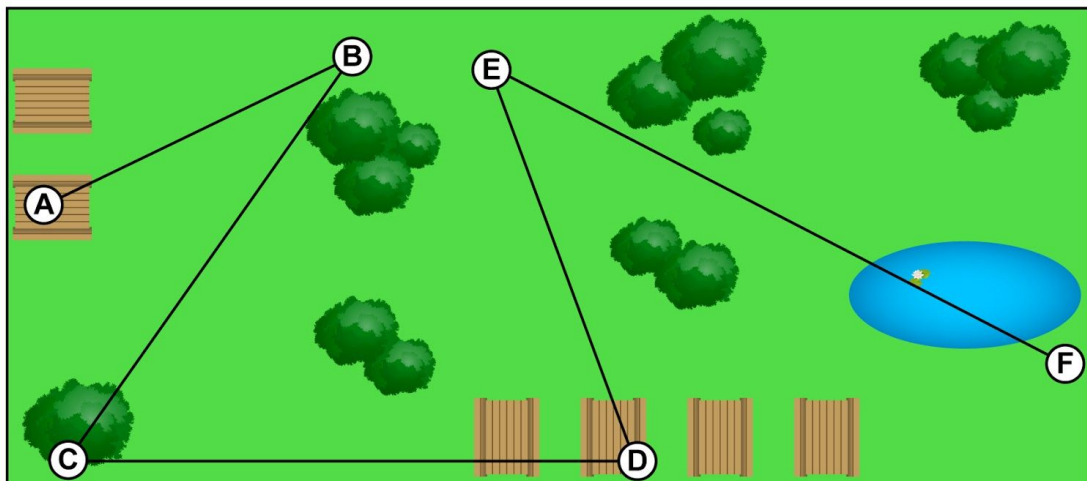
Vul het antwoord in op je scherm.

Opgave 9 Wat is de afstand van B naar E via C en D?

Vul het antwoord in op je scherm.

Opgave 10 Wat is de afstand van C naar F via D en E?

Vul het antwoord in op je scherm.



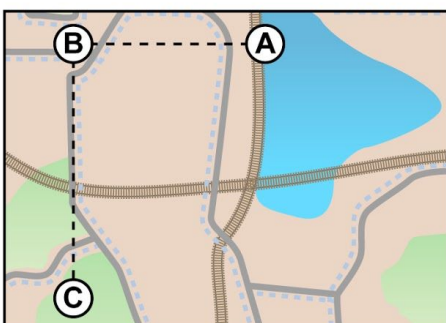
2 m

Opgave 11 Wat is de afstand van A naar C via B?

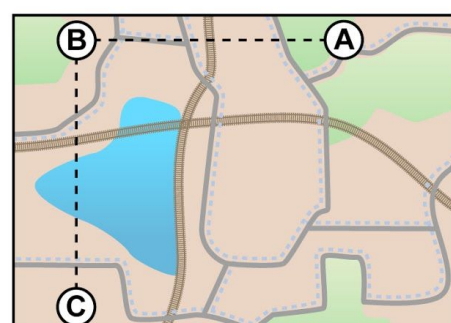
Vul het antwoord in op je scherm.

Opgave 12 Wat is de afstand van A naar C via B?

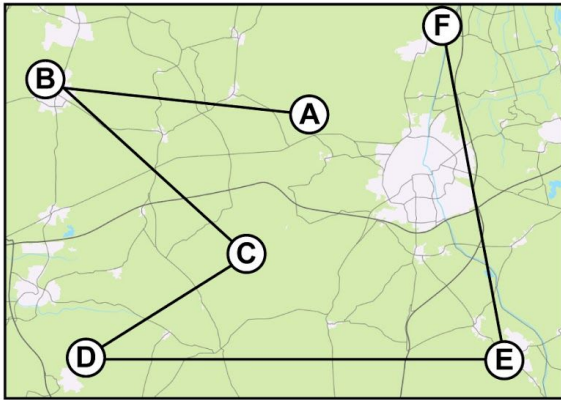
Vul het antwoord in op je scherm.



3 km



4 km



Opgave 13 Wat is de afstand van A naar D via B en C?

Vul het antwoord in op je scherm.

Opgave 14 Wat is de afstand van B naar E via C en D?

Vul het antwoord in op je scherm.

Opgave 15 Wat is de afstand van C naar F via D en E?

Vul het antwoord in op je scherm.

Opgave 16 Wat is de afstand tussen D en I?

Vul het antwoord in op je scherm.

Opgave 17 Wat is de kortste afstand van A naar I?

Vul het antwoord in op je scherm.

Opgave 18 Wat is de kortste afstand van C naar F?

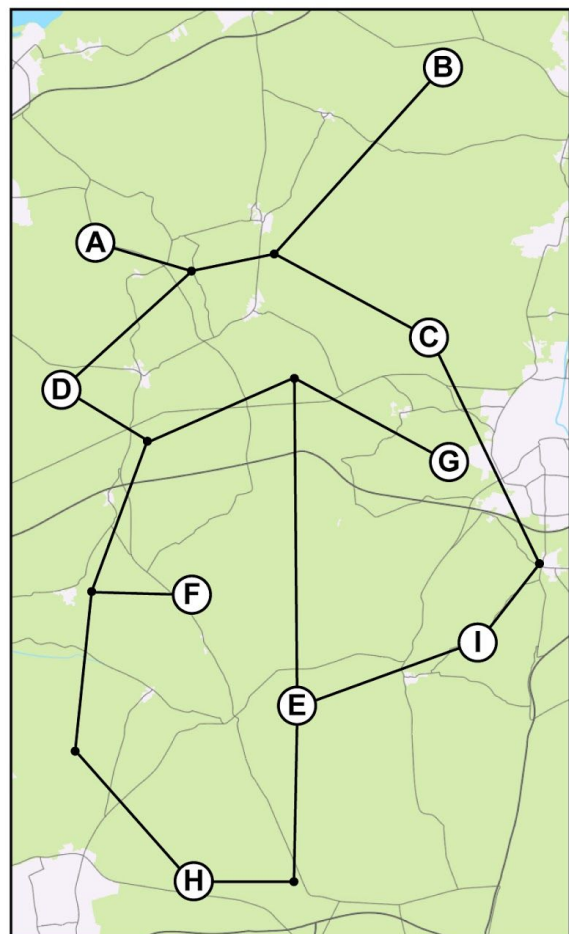
Vul het antwoord in op je scherm.

Opgave 19 Wat is de kortste afstand van G naar H?

Vul het antwoord in op je scherm.

Opgave 20 Wat is de kortste afstand van B naar E?

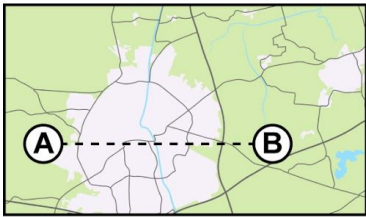
Vul het antwoord in op je scherm.



3 km

Opgave 21 Wat is de afstand tussen A en B?

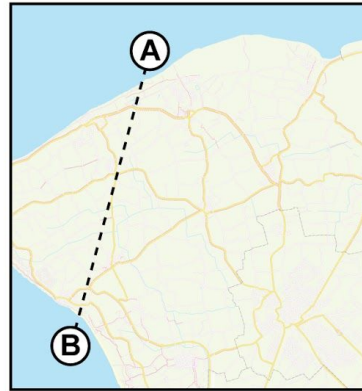
Vul het antwoord in op je scherm.



2 km

Opgave 22 Wat is de afstand tussen A en B?

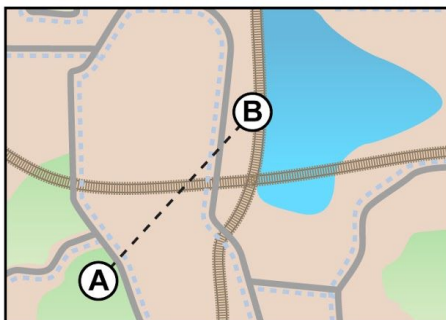
Vul het antwoord in op je scherm.



4 km

Opgave 23 Wat is de afstand tussen A en B?

Vul het antwoord in op je scherm.



3 km

