


Getalbegrip 016



Eiland: Hoeveelheden vergelijken
Doel: Herkennen van te weinig of te veel t/m 20


Opgave 1 Is er genoeg?

Vul je antwoord in op je scherm.



Opgave 2 Is er genoeg?

Vul je antwoord in op je scherm.




Opgave 3 Is er genoeg?

Vul je antwoord in op je scherm.




Opgave 4 Is er genoeg?

Vul je antwoord in op je scherm.



Opgave 5 Is er genoeg?

Vul je antwoord in op je scherm.




Opgave 6 Is er genoeg?

Vul je antwoord in op je scherm.




Opgave 7 Is er genoeg?

Vul je antwoord in op je scherm.



Opgave 8 Is er genoeg?

Vul je antwoord in op je scherm.




Opgave 9 Is er genoeg?

Vul je antwoord in op je scherm.




Opgave 10 Is er genoeg?

Vul je antwoord in op je scherm.



Opgave 11 Is er genoeg?

Vul je antwoord in op je scherm.



Opgave 12 Is er genoeg?

Vul je antwoord in op je scherm.




Opgave 13 Is er genoeg?

Vul je antwoord in op je scherm.



Opgave 14 Is er genoeg?

Vul je antwoord in op je scherm.



Opgave 15 Is er genoeg?

Vul je antwoord in op je scherm.



Opgave 16 Is er genoeg?

Vul je antwoord in op je scherm.



Opgave 17 Is er genoeg?

Vul je antwoord in op je scherm.



Opgave 18 Is er genoeg?

Vul je antwoord in op je scherm.



Opgave 19 Is er genoeg?

Vul je antwoord in op je scherm.



Opgave 20 Is er genoeg?

Vul je antwoord in op je scherm.




Opgave 21 Is er genoeg?

Vul je antwoord in op je scherm.



Opgave 22 Is er genoeg?

Vul je antwoord in op je scherm.



Opgave 23 Is er genoeg?

Vul je antwoord in op je scherm.



Opgave 24 Is er genoeg?

Vul je antwoord in op je scherm.

