

## Meetkunde 015

**Eiland:** Kaartlezen

**Doel:** Teken van een route op een kaart met schaal



Liniaal



Potlood

### Opgave 1 Teken een route.

Begin en eindig bij "U bevindt zich hier".

Hoeveel kilometer is je route? \_\_\_\_\_ km



### Opgave 2 Teken een route.

Begin en eindig bij "U bevindt zich hier".

Hoeveel kilometer is je route? \_\_\_\_\_ km



**Opgave 3 Teken een route.**

Begin en eindig bij "U bevindt zich hier".

Hoeveel kilometer is je route? \_\_\_\_\_ km



**Opgave 4 Teken een route.**

Begin en eindig bij "U bevindt zich hier".

Hoeveel kilometer is je route? \_\_\_\_\_ km



**Opgave 5 Teken een route.**

Begin en eindig bij "U bevindt zich hier".

Hoeveel kilometer is je route? \_\_\_\_\_ km



**Opgave 6 Teken een route van 20 km.**

Begin en eindig bij "U bevindt zich hier".



**Opgave 7 Teken een route van 30 km.**

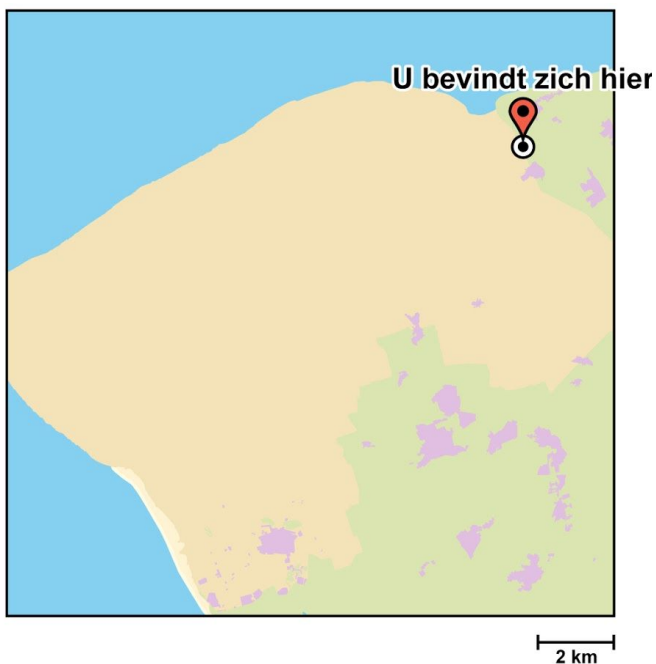
Begin en eindig bij "U bevindt zich hier".

**Opgave 8 Teken een route van 15 km.**

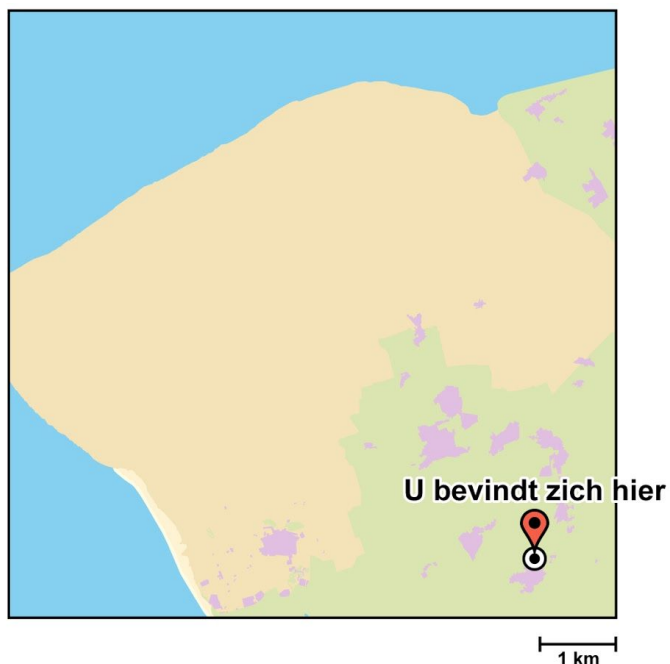
Begin en eindig bij "U bevindt zich hier".

**Opgave 9 Teken een route van 28 km.**

Begin en eindig bij "U bevindt zich hier".

**Opgave 10 Teken een route van 19 km.**

Begin en eindig bij "U bevindt zich hier".



**Opgave 11 Teken een route van 18 km.**

*Begin en eindig bij "U bevindt zich hier".*



**Opgave 12 Teken een route van 25 km.**

*Begin en eindig bij "U bevindt zich hier".*



**Opgave 13 Teken een route van 24 km.**

*Begin en eindig bij "U bevindt zich hier".*



**Opgave 14 Teken een route van 30 km.**

*Begin en eindig bij "U bevindt zich hier".*



### Opgave 15 Teken een route van 30 km.

Begin en eindig bij "U bevindt zich hier".



### Opgave 16 Teken een route.

Begin bij "U bevindt zich hier".

De route gaat als volgt:

- Loop naar de grote eik.
- Van de grote eik loop je naar de speeltuin.
- Vanuit daar loop je naar het meertje.
- Van het meertje loop je naar het koffiehuis.
- En van het koffiehuis loop je weer terug naar het beginpunt.

Hoeveel kilometer is de route ongeveer in totaal? \_\_\_\_\_ km



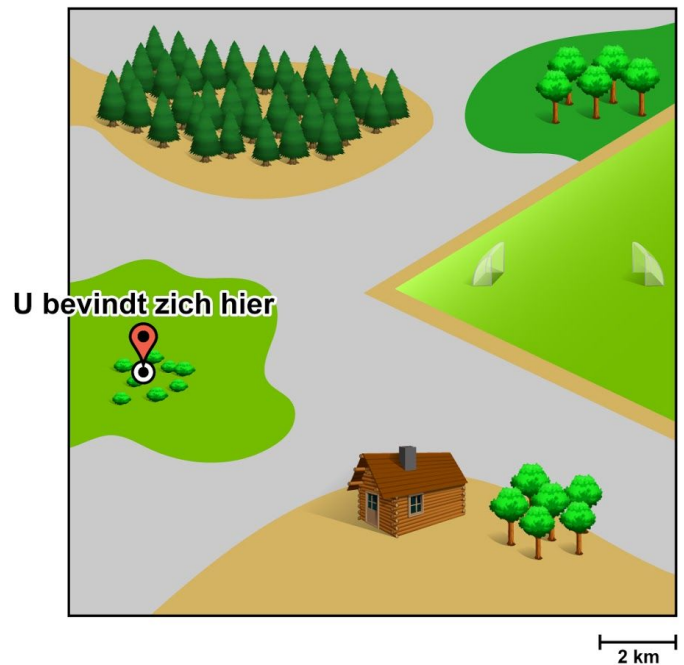
### Opgave 17 Teken een route.

Begin bij "U bevindt zich hier".

De route gaat als volgt:

- Loop naar het bos.
- Van het bos loop je naar het grasveldje.
- Van het grasveldje loop je naar de blokhut.
- En van de blokhut loop je weer terug naar het beginpunt.

Hoeveel kilometer is de route ongeveer in totaal? \_\_\_\_\_ km




### Opgave 18 Teken een route.

Begin bij "U bevindt zich hier".

De route gaat als volgt:

- Loop naar de blokhut.
- Vanuit daar loop je naar het bos.
- Van het bos loop je naar de Lunchroom.
- Van de Lunchroom loop je naar de brug.
- Je loopt de brug over en loopt weer terug naar het beginpunt.

Hoeveel kilometer is de route ongeveer in totaal? \_\_\_\_\_ km





### Opgave 19 Teken een route.

Begin bij "U bevindt zich hier".

De route gaat als volgt:

- Loop naar de speeltuin.
- Van de speeltuin loop je naar het bos.
- Vanuit het bos loop je naar de brug.
- Je loopt de brug over en loopt naar het strandtentje.
- Vanuit het strandtentje loop je weer terug naar het beginpunt.

Hoeveel kilometer is de route ongeveer in totaal? \_\_\_\_\_ km



2,5 km

### Opgave 20 Teken een route.

Begin bij "U bevindt zich hier".

De route gaat als volgt:

- Loop naar de paardenmanege.
- Vanuit daar loop je richting de duinen.
- Van de duinen loop je naar het bos.
- Vanuit het bos loop je naar de speeltuin.
- Tot slot loop je weer naar het beginpunt.

Hoeveel kilometer is de route ongeveer in totaal? \_\_\_\_\_ km



1,5 km

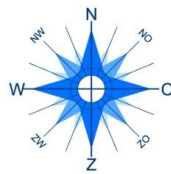
### Opgave 21 Teken een route.

Begin bij "U bevindt zich hier".

De route gaat als volgt:

- 4 km naar het noorden.
- 2 km door het bos naar het oosten.
- 5 km in zuidoostelijke richting naar de stad.
- Langs de rivier tot de kust.
- Dan in noordoostelijke richting terug naar de plek waar de route startte.

Hoeveel kilometer is de route ongeveer in totaal? \_\_\_\_\_ km



1 km

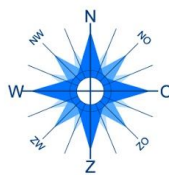
### Opgave 22 Teken een route.

Begin bij "U bevindt zich hier".

De route gaat als volgt:

- 6 km door het duingebied naar het noordoosten.
- 2 km door het bos naar het zuiden.
- 8 km in oostelijke richting naar de speeltuin.
- Vanuit de speeltuin naar de blokhut.
- Dan in noordwestelijke richting terug naar de plek waar de route startte.

Hoeveel kilometer is de route ongeveer in totaal? \_\_\_\_\_ km



2 km



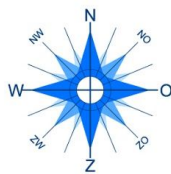
**Opgave 23 Teken een route.**

Begin bij "U bevindt zich hier".

De route gaat als volgt:

- 8 km door het bos naar het zuiden.
- 6 km door de duinen in noordoostelijke richting.
- 10 km in westelijke richting naar het strand.
- Op het strand in noordelijke richting naar het strandtentje.
- Vanuit het strandtentje weer terug naar de plek waar de route startte.

Hoeveel kilometer is de route ongeveer in totaal? \_\_\_\_\_ km



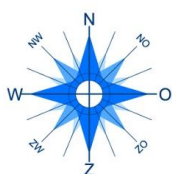
**Opgave 24 Teken een route.**

Begin bij "U bevindt zich hier".

De route gaat als volgt:

- 3 km door het duingebied naar het noorden.
- 4,5 km door het bos naar het oosten.
- 3 km in zuidoostelijke richting naar het kanaal.
- Lang het kanaal tot de kust.
- Dan in noordoostelijke richting terug naar de plek waar de route startte.

Hoeveel kilometer is de route ongeveer in totaal? \_\_\_\_\_ km



**Opgave 25 Teken een route.**

Begin bij "U bevindt zich hier".

De route gaat als volgt:

- 1,5 km in westelijke richting naar de kustlijn.
- 7,5 km in zuidelijke richting langs de kust.
- 1,5 km in oostelijke richting naar het spoor.
- 1,5 km langs het spoor.
- Vervolgens in noordelijke richting naar het bos.
- 1,5 km in oostelijke richting naar het spoor.
- Tot slot in noordwestelijke richting over het kanaal terug naar het beginpunt.

Hoeveel kilometer is de route ongeveer in totaal? \_\_\_\_\_ km

