

Getalbegrip 7B




Eiland: Tellen van hoeveelheden

Doel: Tellen van ongestructureerde hoeveelheden t/m 20

Opgave 1 Hoeveel watermeloenen tel je?

_____ watermeloenen



Opgave 2 Hoeveel horloges tel je?

_____ horloges




Opgave 3 Hoeveel gieters tel je?

_____ gieters




Opgave 4 Hoeveel spaarvarkens tel je?

_____ spaarvarkens




Opgave 5 Hoeveel leeuwen tel je?

_____ leeuwen




Opgave 6 Hoeveel knikkers tel je?

_____ knikkers



Opgave 7 Hoeveel hamburgers tel je?

_____ hamburgers



Opgave 8 Hoeveel gieters tel je?

_____ gieters

