

Getalbegrip 7C




Eiland: Tellen van hoeveelheden

Doel: Tellen van ongestructureerde hoeveelheden t/m 20


Opgave 1 Hoeveel scharen tel je?

_____ scharen




Opgave 2 Hoeveel hamburgers tel je?

_____ hamburgers




Opgave 3 Hoeveel leeuwen tel je?

_____ leeuwen



Opgave 4 Hoeveel knikkers tel je?

_____ knikkers



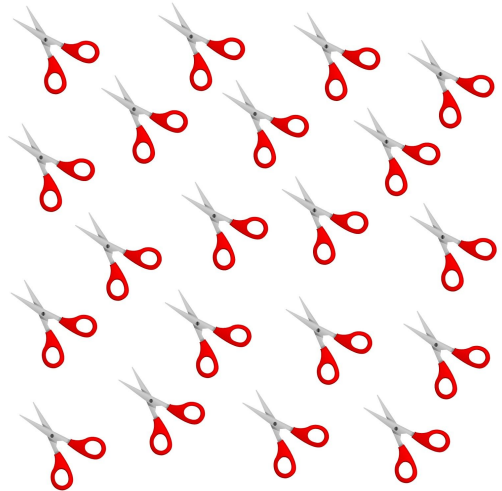
Opgave 5 Hoeveel tablets tel je?

_____ tablets




Opgave 6 Hoeveel scharen tel je?

_____ scharen



Opgave 7 Hoeveel spaarvarkens tel je?

_____ spaarvarkens



Opgave 8 Hoeveel gieters tel je?

_____ gieters

