

Getalbegrip 8A



Eiland: Tellen van hoeveelheden


Doel: Tellen in groepjes met hoeveelheden t/m 20

Opgave 1 Maak groepjes van 2.




Opgave 2 Hoeveel groepjes van 3?

_____ groepjes




Opgave 3 Maak 4 groepjes van 4.



Opgave 4 Maak groepjes van 5. Hoeveel houd je over?

_____ over



Opgave 5 Maak groepjes van 6.




Opgave 6 Hoeveel groepjes van 7?

_____ groepjes



Opgave 7 Maak 2 groepjes van 8.



Opgave 8 Maak groepjes van 9. Hoeveel houd je over?

_____ over

