


Getalbegrip 8B




Eiland: Tellen van hoeveelheden
Doel: Tellen in groepjes met hoeveelheden t/m 20

Opgave 1 Hoeveel groepjes van 2?

_____ groepjes




Opgave 2 Maak 5 groepjes van 3.



Opgave 3 Maak groepjes van 4. Hoeveel houd je over?

_____ over




Opgave 4 Maak groepjes van 5.



Opgave 5 Hoeveel groepjes van 6?

_____ groepjes



Opgave 6 Maak 2 groepjes van 7.



Opgave 7 Maak groepjes van 8. Hoeveel houd je over?

_____ over



Opgave 8 Maak groepjes van 9.

