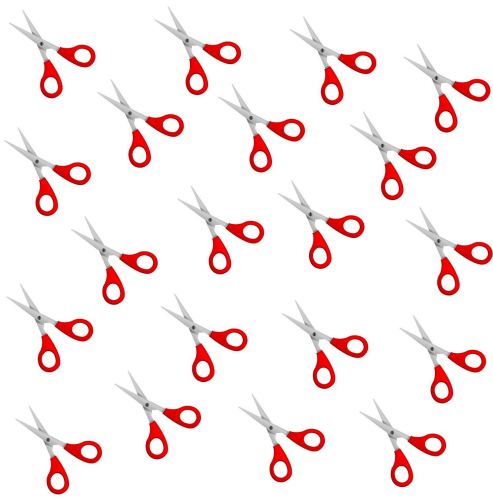


Getalbegrip 8C

Eiland: Tellen van hoeveelheden
Doel: Tellen in groepjes met hoeveelheden t/m 20




Opgave 1 Maak 10 groepjes van 2.




Opgave 2 Maak groepjes van 3. Hoeveel houd je over?

_____ over




Opgave 3 Maak groepjes van 4.



Opgave 4 Hoeveel groepjes van 5?

_____ groepjes




Opgave 5 Maak 3 groepjes van 6.




Opgave 6 Maak groepjes van 7. Hoeveel houd je over?

_____ over



Opgave 7 Maak groepjes van 8.



Opgave 8 Hoeveel groepjes van 9?

_____ groepjes

