

## Getalbegrip 9A




**Eiland:** Tellen van hoeveelheden

**Doel:** Tellen van ongestructureerde hoeveelheden t/m 100


### Opgave 1 Hoeveel ringen tel je?

\_\_\_\_\_ ringen




### Opgave 2 Hoeveel puntenslijpers tel je?

\_\_\_\_\_ puntenslijpers




### Opgave 3 Hoeveel paraplu's tel je?

\_\_\_\_\_ paraplu's




### Opgave 4 Hoeveel scharen tel je?

\_\_\_\_\_ scharen




## Opgave 5 Hoeveel kammen tel je?

\_\_\_\_\_ kammen



## Opgave 6 Hoeveel druppels tel je?

\_\_\_\_\_ druppels



## Opgave 7 Hoeveel emmers tel je?

\_\_\_\_\_ emmers



## Opgave 8 Hoeveel druppels tel je?

\_\_\_\_\_ druppels

