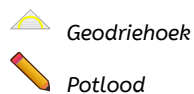
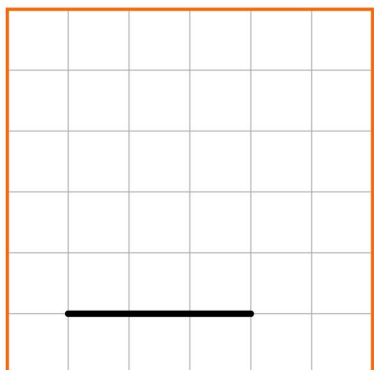


## Meetkunde 20B

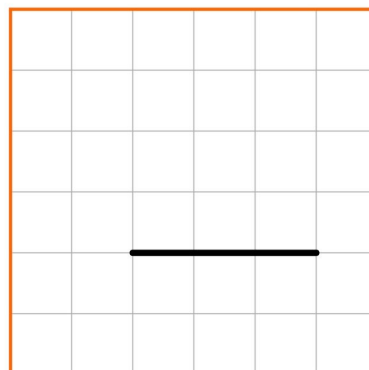
Eiland: Lijnen  
Leerdoel: Tekenen van loodrechte lijnen



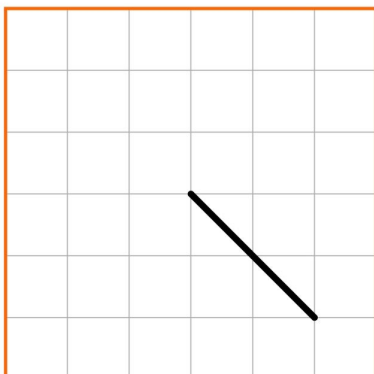
**Opgave 1** Teken een loodrechte lijn op deze lijn.



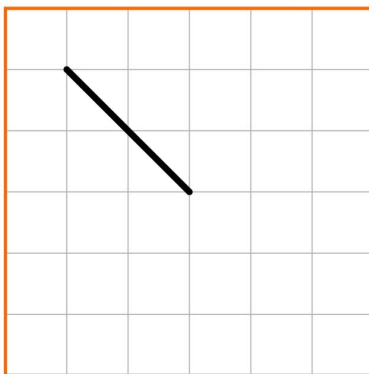
**Opgave 2** Teken een loodrechte lijn op deze lijn.



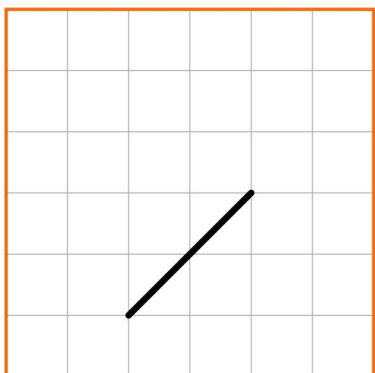
**Opgave 3** Teken een loodrechte lijn op deze lijn.




**Opgave 4** Teken een loodrechte lijn op deze lijn.



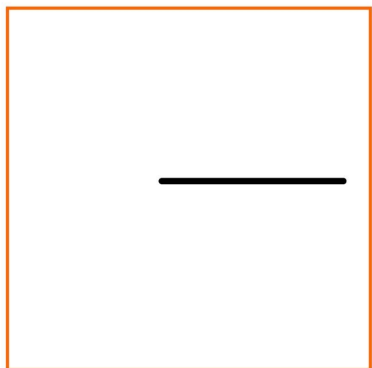
**Opgave 5** Teken twee loodrechte lijnen op deze lijn.




**Opgave 6** Teken een loodrechte lijn op deze lijn.



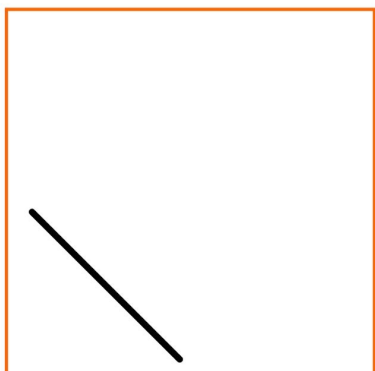
**Opgave 7** Teken twee loodrechte lijnen op deze lijn.



**Opgave 8** Teken twee loodrechte lijnen op deze lijn.



**Opgave 9** Teken twee loodrechte lijnen op deze lijn.



**Opgave 10** Teken twee loodrechte lijnen op deze lijn.

