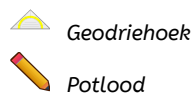
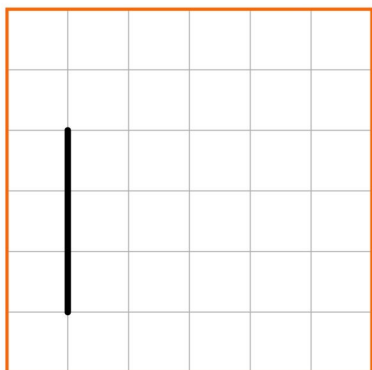


Meetkunde 20C

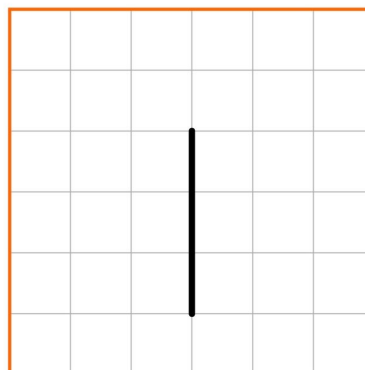
Eiland: Lijnen
Leerdoel: Tekenen van loodrechte lijnen



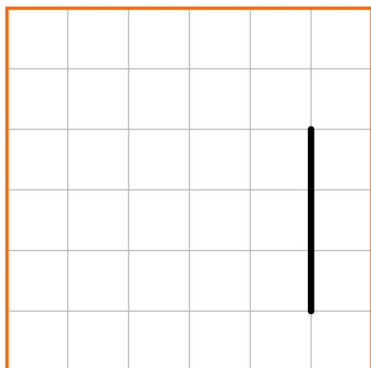
Opgave 1 Teken een loodrechte lijn op deze lijn.



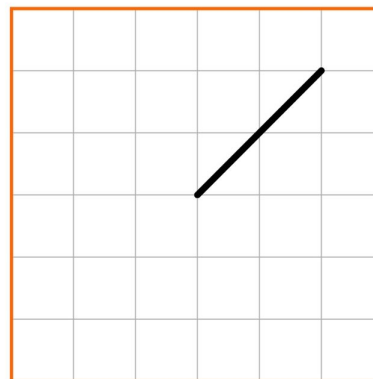
Opgave 2 Teken een loodrechte lijn op deze lijn.



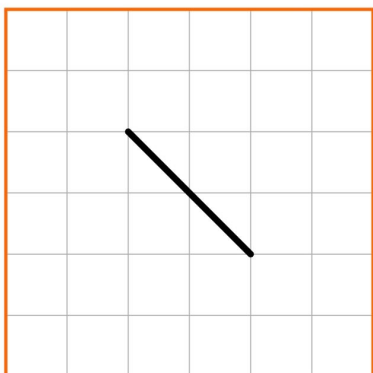
Opgave 3 Teken twee loodrechte lijnen op deze lijn.




Opgave 4 Teken een loodrechte lijn op deze lijn.




Opgave 5 Teken twee loodrechte lijnen op deze lijn.



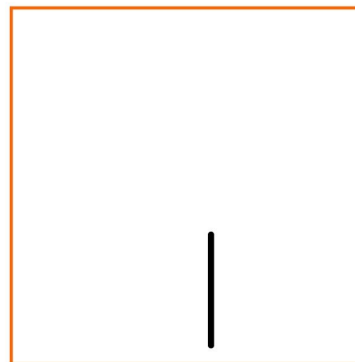
Opgave 6 Teken een loodrechte lijn op deze lijn.



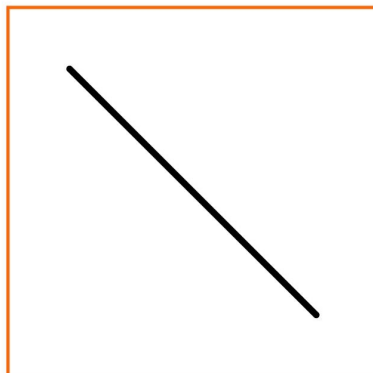
Opgave 7 Teken twee loodrechte lijnen op deze lijn.



Opgave 8 Teken twee loodrechte lijnen op deze lijn.



Opgave 9 Teken een loodrechte lijn op deze lijn.



Opgave 10 Teken twee loodrechte lijnen op deze lijn

