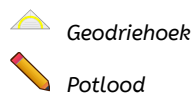
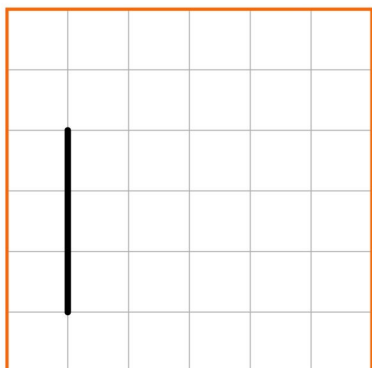


## Meetkunde 21C

Eiland: Lijnen  
Leerdoel: Teken van evenwijdige lijnen



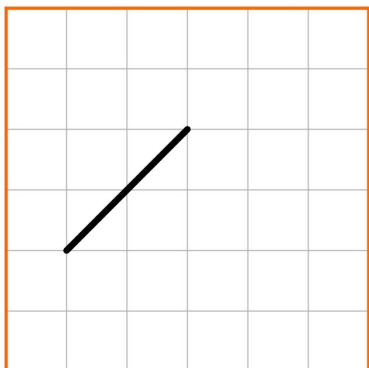
**Opgave 1** Teken een lijn die evenwijdig is aan deze lijn.



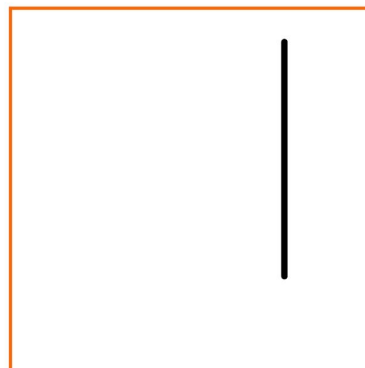
**Opgave 2** Teken een lijn die evenwijdig is aan deze lijn.



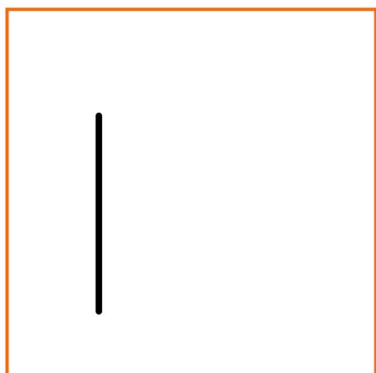
**Opgave 3** Teken een lijn die evenwijdig is aan deze lijn.



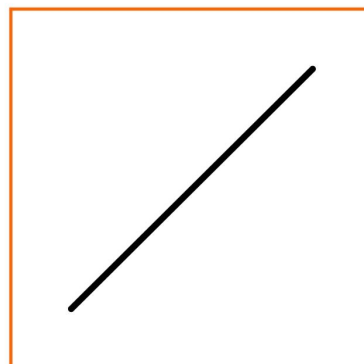
**Opgave 4** Teken een lijn die evenwijdig is aan deze lijn.




**Opgave 5** Teken een lijn die evenwijdig is aan deze lijn.



**Opgave 6** Teken een lijn die evenwijdig is aan deze lijn.




**Opgave 7** Teken twee evenwijdige lijnen.



**Opgave 8** Teken twee evenwijdige lijnen.



**Opgave 9** Teken twee evenwijdige lijnen.



**Opgave 10** Teken twee evenwijdige lijnen.

