

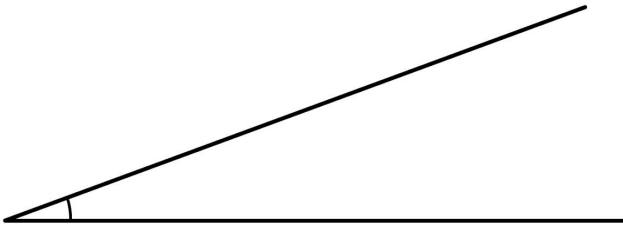
Meetkunde 23A

Eiland: Hoeken
Doel: Kunnen opmeten van een hoek



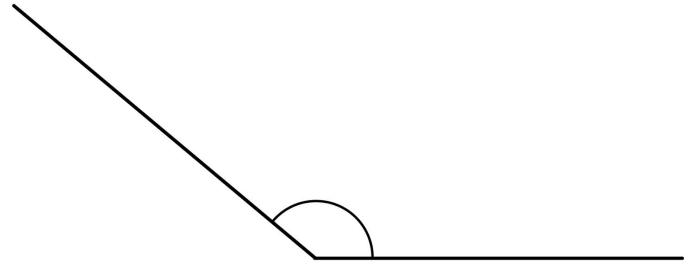
Opgave 1 Hoeveel graden is de hoek?

_____ °




Opgave 2 Hoeveel graden is de hoek?

_____ °



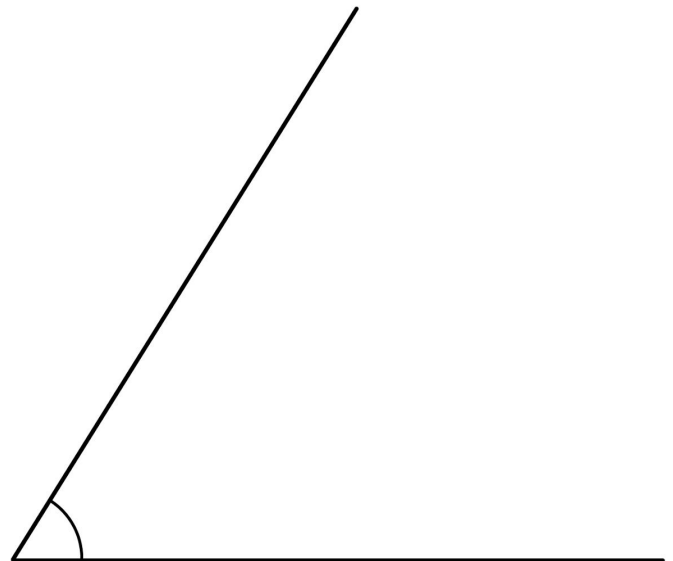
Opgave 3 Hoeveel graden is de hoek?

_____ °



Opgave 4 Hoeveel graden is de hoek?

_____ °



Opgave 5 Hoeveel graden is hoek A?

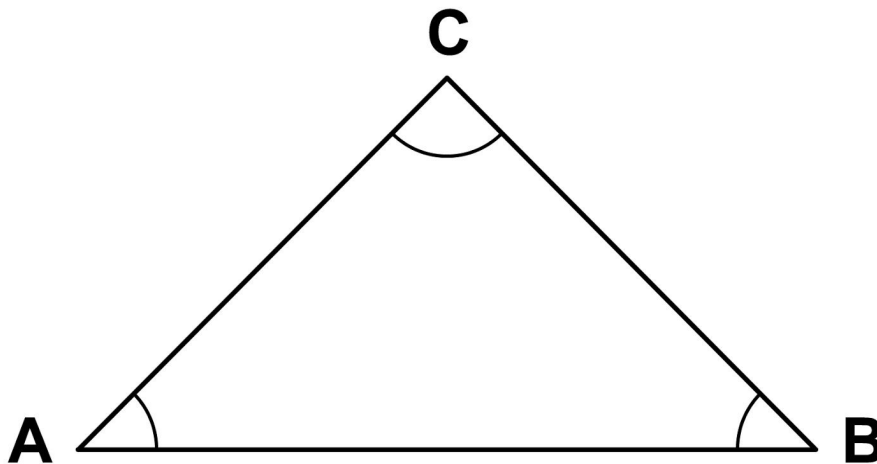
_____ °

Opgave 6 Hoeveel graden is hoek B?

_____ °

Opgave 7 Hoeveel graden is hoek C?

_____ °



Opgave 8 Wat is het verschil in graden tussen hoek A en hoek D?

_____ °

