

Meetkunde 24C

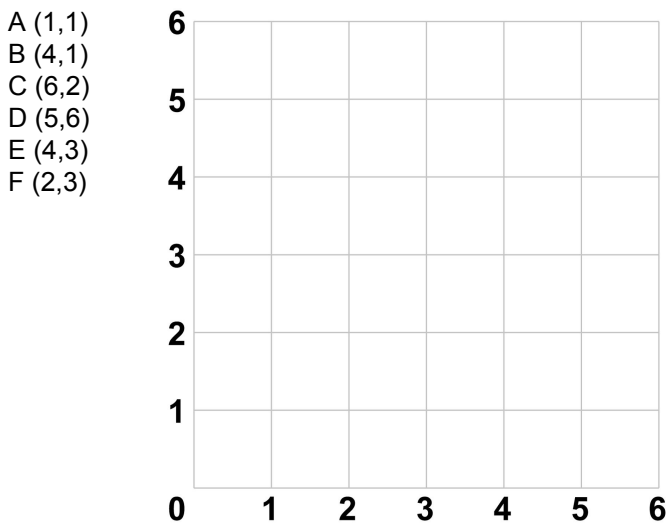
Eiland: Vlakke figuren
Leerdoel: Tekenen van figuren met coördinaten



Zet bij onderstaande opgaven de punten met de coördinaten in het rooster. Trek dan lijnen van punt A naar B, van B naar C enzovoort.

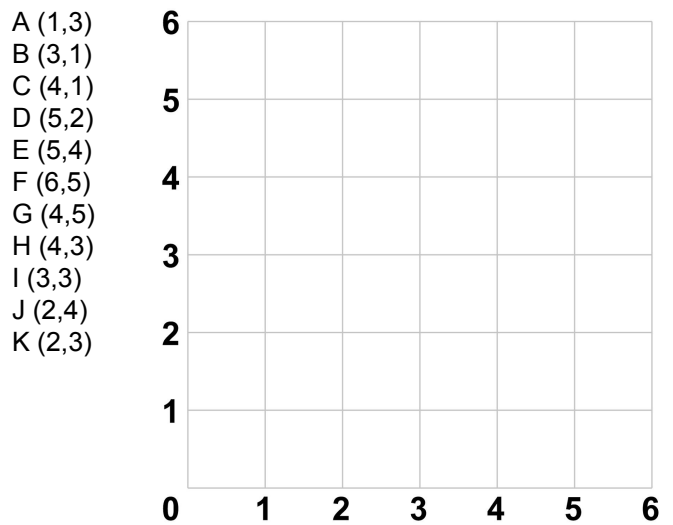
Opgave 1

Let op: Je moet van punt F ook weer naar punt A.




Opgave 2

Let op: Je moet van punt K ook weer naar punt A.



Opgave 3

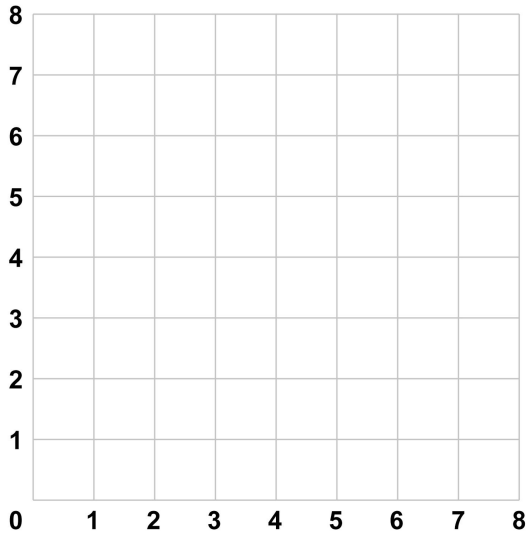
Let op: Je moet van punt P ook weer naar punt A.



Opgave 4

Let op: Je moet van punt L ook weer naar punt A.

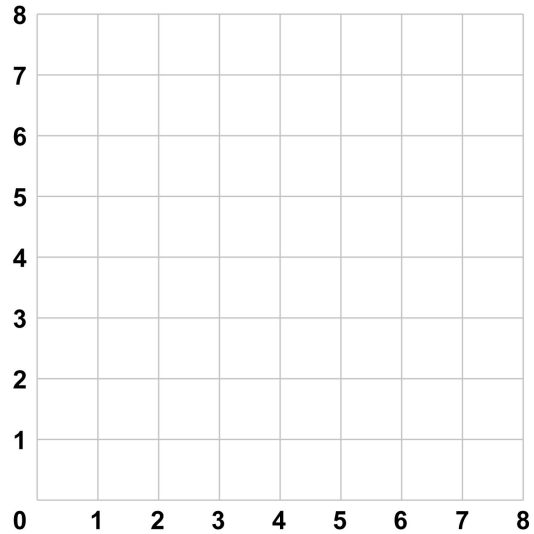
- | | | | |
|---------|---------|---------|---------|
| A (1,6) | D (6,7) | G (7,2) | J (2,1) |
| B (2,7) | E (7,6) | H (6,1) | K (1,2) |
| C (4,5) | F (5,4) | I (4,3) | L (3,4) |



Opgave 5

Let op: Je moet van punt P ook weer naar punt A.

- | | | | |
|---------|---------|---------|---------|
| A (0,7) | E (5,8) | I (6,3) | M (1,2) |
| B (0,8) | F (6,8) | J (6,2) | N (0,2) |
| C (1,8) | G (6,7) | K (5,2) | O (0,3) |
| D (3,6) | H (4,5) | L (3,4) | P (2,5) |



Opgave 6

Let op: Je moet van punt P ook weer naar punt A.

- A (0,5)
- B (1,2)
- C (3,3)
- D (2,1)
- E (5,0)
- F (2,-1)
- G (3,-3)
- H (1,-2)
- I (0,-5)
- J (-1,-2)
- K (-3,-3)
- L (-2,-1)
- M (-5,0)
- N (-2,1)
- O (-3,3)
- P (-1,2)

