

## Meetkunde 25B

**Eiland:** Vlakke figuren

**Leerdoel:** Tekenen van figuren met een passer



Linaal

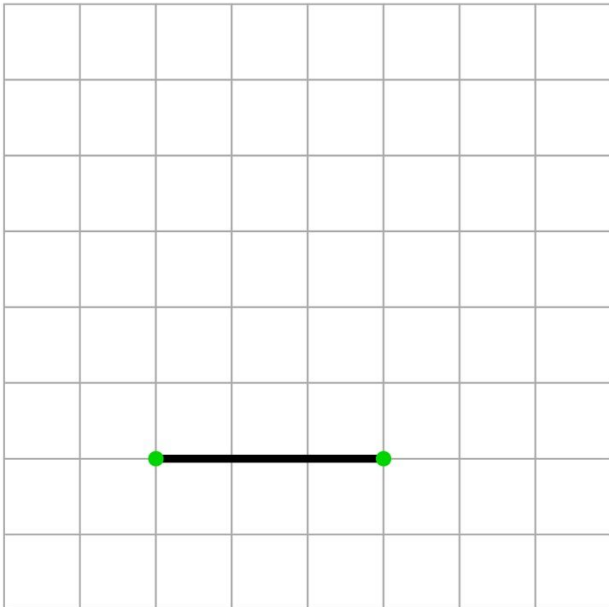


Potlood

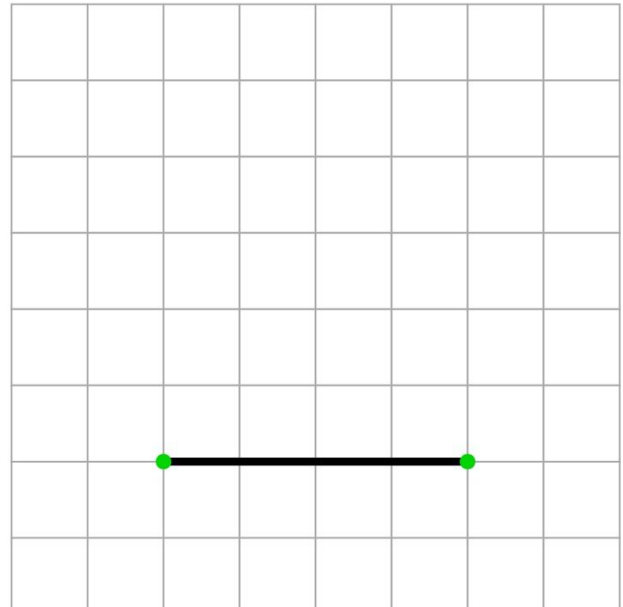


Passer

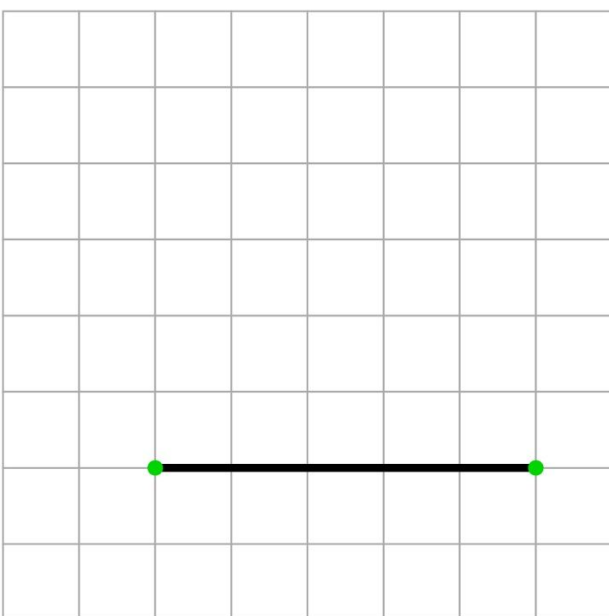
**Opgave 1** Maak de driehoek af met zijden van 3 cm.



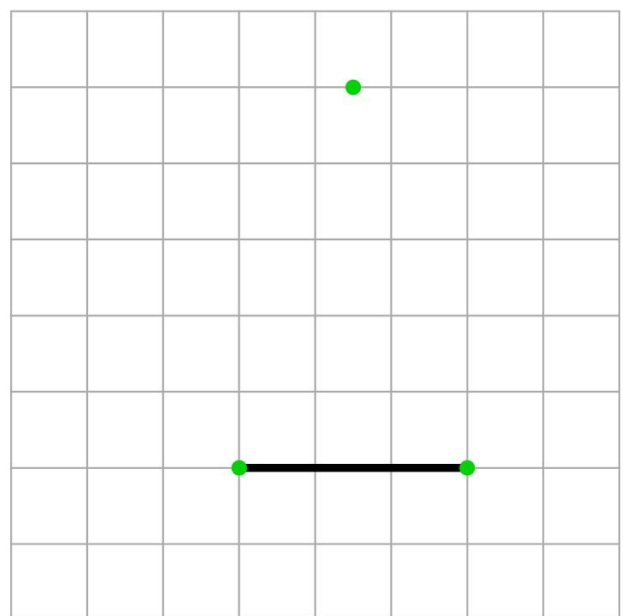
**Opgave 2** Maak de driehoek af met zijden van 4 cm.



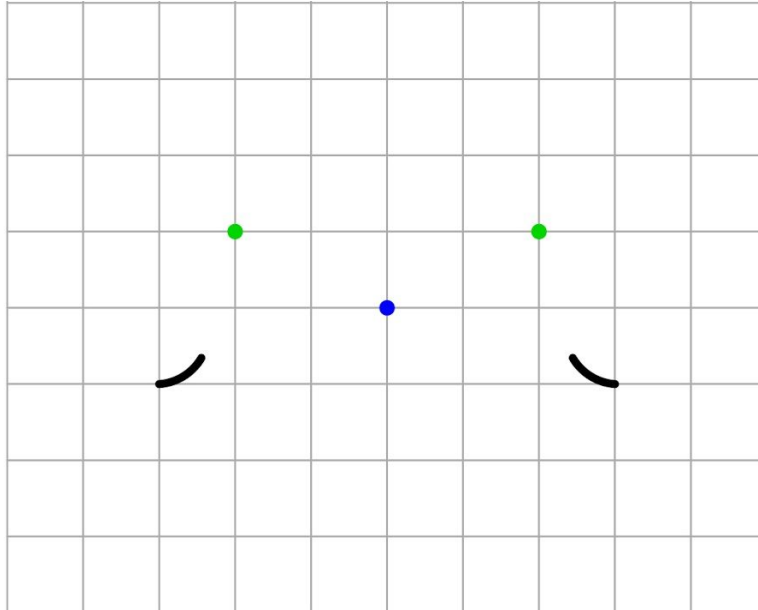
**Opgave 3** Maak de driehoek af met zijden van 5 cm.



**Opgave 4** Teken een vijfhoek met 5 zijden.



**Opgave 5** Teken vanaf de middelste stip een cirkel met een straal van 4 cm.  
Teken vanaf de twee andere stippen een cirkel met een straal van 1 cm.  
Teken vanaf de middelste stip een deel van een cirkel met een straal van 3 cm tussen de twee zwarte lijntjes.



**Opgave 6** Teken vanaf de middelste stip een cirkel met een straal van 3 cm en een cirkel met een straal van 1 cm. Teken vanaf de andere stippen ook een cirkel met een straal van 1 cm.

