

Meetkunde 25C

Eiland: Vlakke figuren

Leerdoel: Tekenen van figuren met een passer



Liniaal

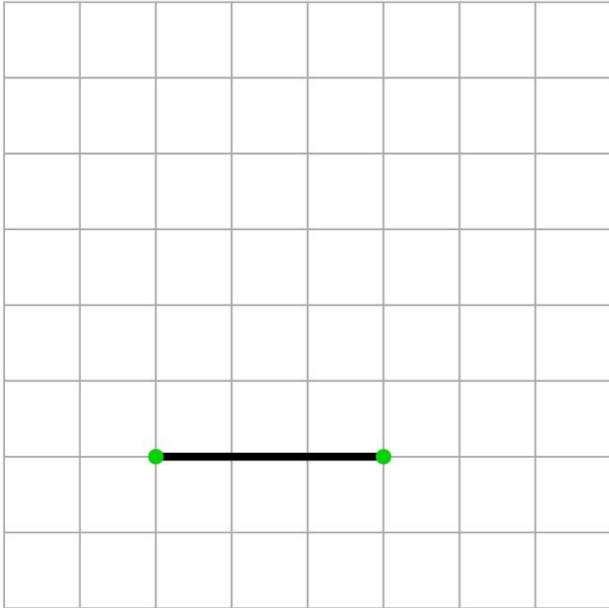


Potlood

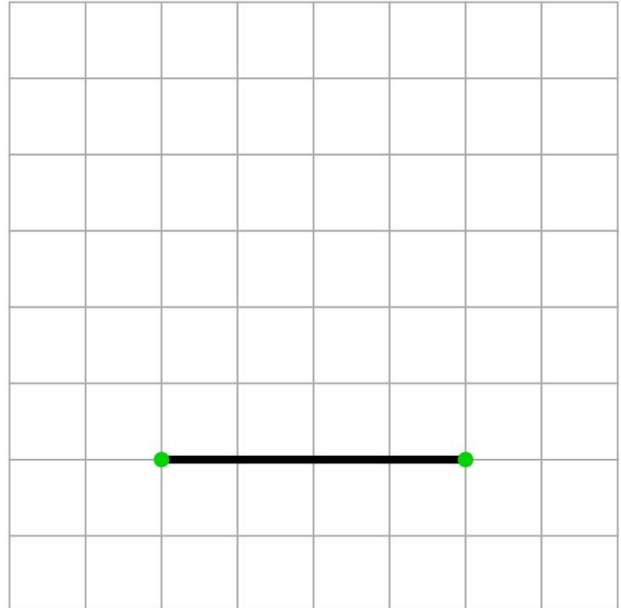


Passer

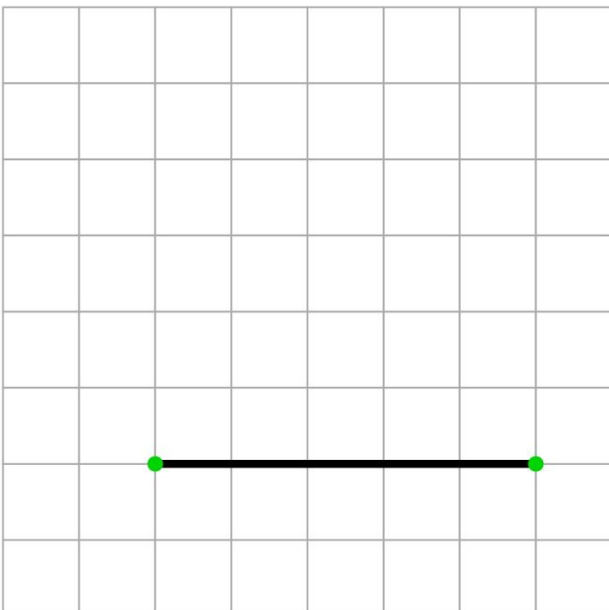
Opgave 1 Maak de driehoek af met zijden van 4 cm.



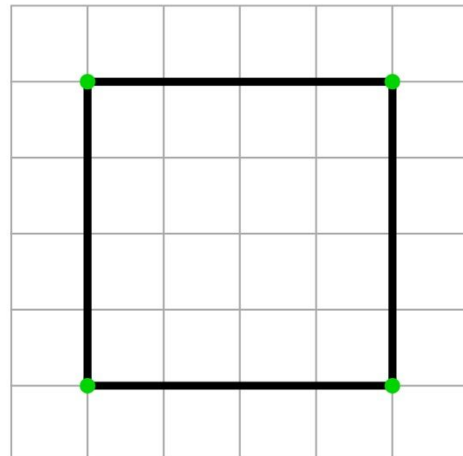
Opgave 2 Maak de driehoek af met zijden van 3 cm.



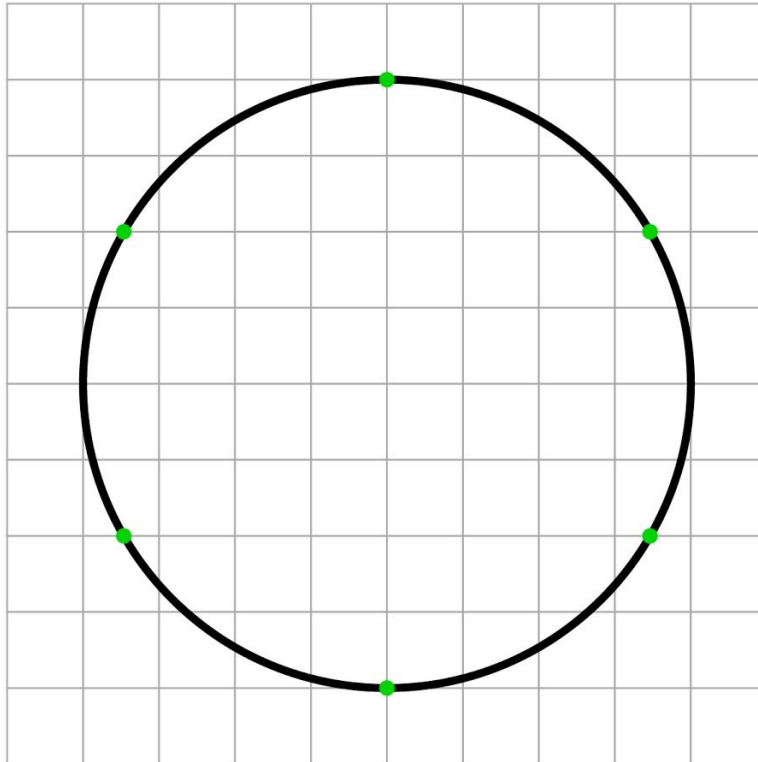
Opgave 3 Maak de driehoek af met zijden van 6 cm.



Opgave 4 Teken vanaf iedere stip een kwart cirkel met een straal van 4 cm.
Blijf binnen het zwarte vierkant.



Opgave 5 Teken vanaf iedere stip een deel van een cirkel met een straal van 4 cm.
Blijf binnen de zwarte cirkel.



Opgave 6 Teken vanaf de middelste stip een cirkel met en straal van 4 cm.
Teken vanaf de andere stippen een cirkel met een straal van 2 cm.

