

## Meetkunde 2A

Eiland: Aanzichten

Leerdoel: Teken van aanzichten van bouwwerken



Potlood



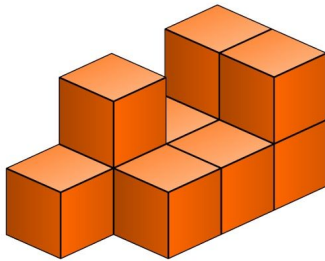
Kleurpotloden



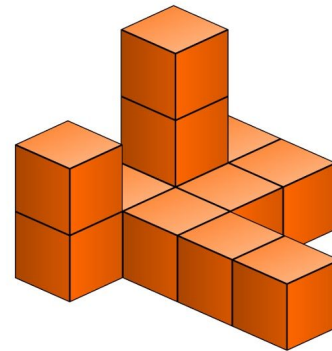
Hokjespapier

**Bij elke opdracht moet je een aanzicht tekenen van het bouwwerk. Gebruik hiervoor hokjespapier.**

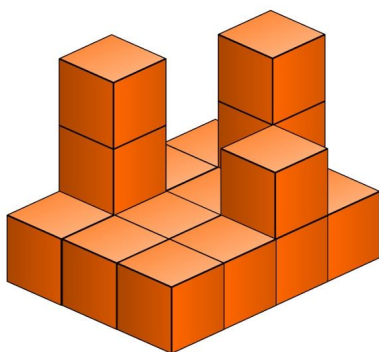
**Opgave 1** Teken het zijaanzicht van dit bouwwerk. *Kijk goed. Hoe ziet het bouwwerk er vanaf de zijkant uit?*



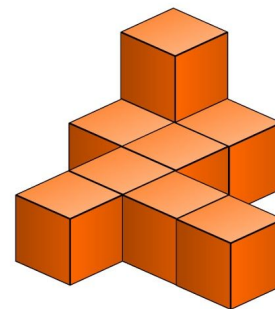
**Opgave 2** Teken het vooraanzicht van dit bouwwerk. *Kijk goed. Hoe ziet het bouwwerk er vanaf de voorkant uit?*




**Opgave 3** Teken het bovenaanzicht van dit bouwwerk. *Kijk goed. Hoe ziet het bouwwerk er vanaf de bovenkant uit?*




**Opgave 4** Teken het zijaanzicht van dit bouwwerk. *Kijk goed. Hoe ziet het bouwwerk er vanaf de zijkant uit?*



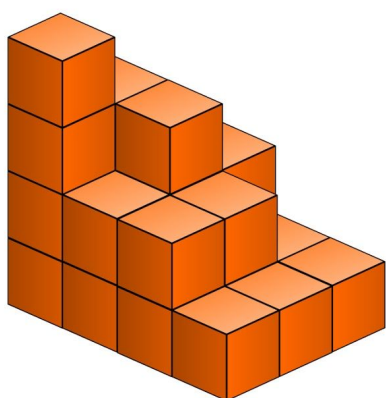
**Opgave 5** Teken het bovenaanzicht van dit **bouwwerk**. *Kijk goed. Hoe ziet het bouwwerk er vanaf de bovenkant uit?*



**Opgave 6** Teken het zijaanzicht van dit **bouwwerk**. *Kijk goed. Hoe ziet het bouwwerk er vanaf de zijkant uit?*



**Opgave 7** Teken het vooraanzicht van dit **bouwwerk**. *Kijk goed. Hoe ziet het bouwwerk er vanaf de voorkant uit?*



**Opgave 8** Teken het vooraanzicht van dit **bouwwerk**. *Kijk goed. Hoe ziet het bouwwerk er vanaf de voorkant uit?*

