

Meetkunde 2C

Eiland: Aanzichten

Leerdoel: Teken van aanzichten van bouwwerken



Potlood



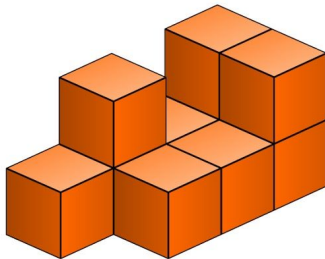
Kleurpotloden



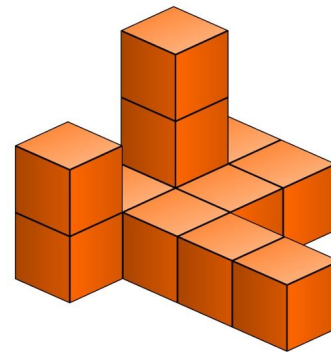
Hokjespapier

Bij elke opdracht moet je een aanzicht tekenen van het bouwwerk. Gebruik hiervoor hokjespapier.

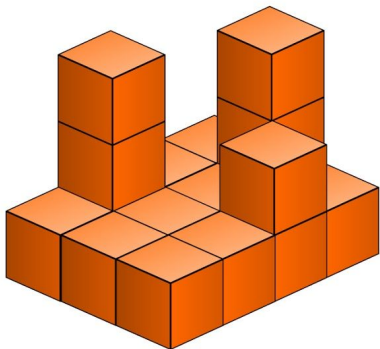
Opgave 1 Teken het vooraanzicht van dit bouwwerk. *Kijk goed. Hoe ziet het bouwwerk er vanaf de voorkant uit?*



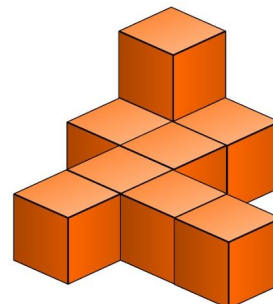
Opgave 2 Teken het bovenaanzicht van dit bouwwerk. *Kijk goed. Hoe ziet het bouwwerk er vanaf de bovenkant uit?*



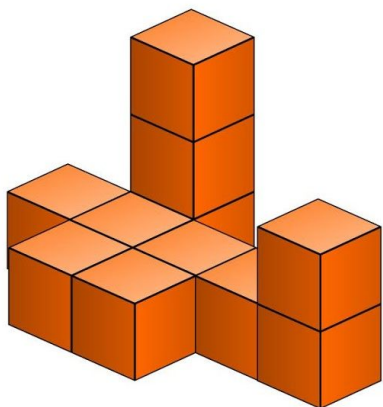
Opgave 3 Teken het zijaanzicht van dit bouwwerk. *Kijk goed. Hoe ziet het bouwwerk er vanaf de zijkant uit?*




Opgave 4 Teken het vooraanzicht van dit bouwwerk. *Kijk goed. Hoe ziet het bouwwerk er vanaf de voorkant uit?*




Opgave 5 Teken het vooraanzicht van dit bouwwerk. *Kijk goed. Hoe ziet het bouwwerk er vanaf de voorkant uit?*



Opgave 6 Teken het bovenaanzicht van dit bouwwerk. *Kijk goed. Hoe ziet het bouwwerk er vanaf de bovenkant uit?*



Opgave 7 Teken het bovenaanzicht van dit bouwwerk. *Kijk goed. Hoe ziet het bouwwerk er vanaf de bovenkant uit?*



Opgave 8 Teken het zijaanzicht van dit bouwwerk. *Kijk goed. Hoe ziet het bouwwerk er vanaf de zijkant uit?*

