

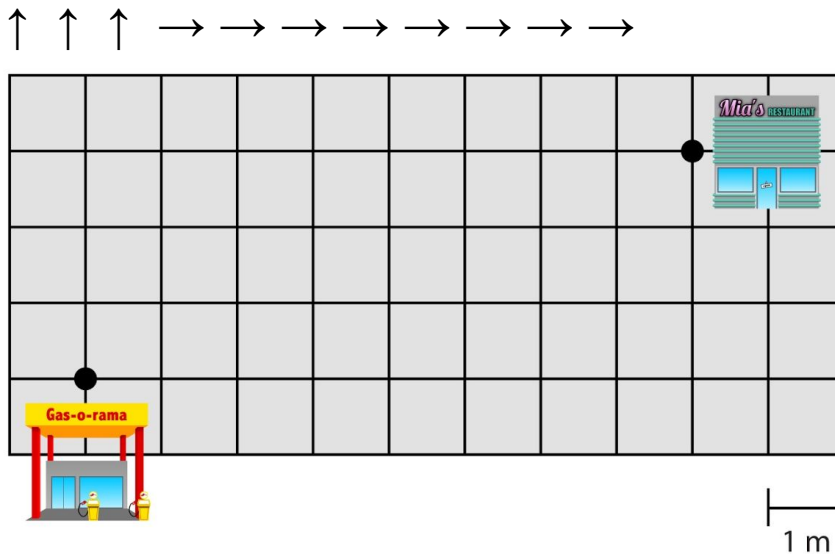
Meetkunde 3A

Eiland: Kaartlezen
Leerdoel: Bepalen van een route met pijlen



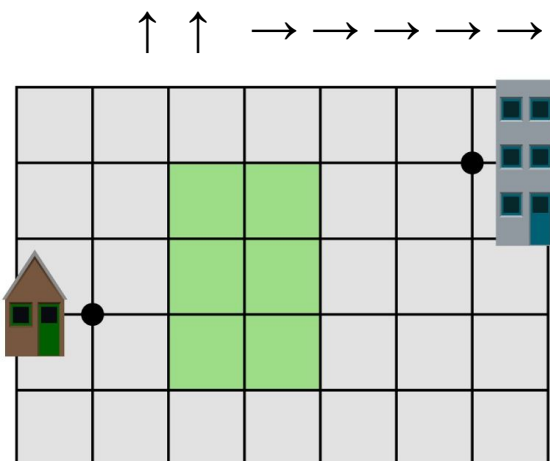
Opgave 1 Teken de route van het tankstation naar het restaurant.

Kijk goed naar de pijlen. Elke pijl is een streepje langs een hokje in die richting.



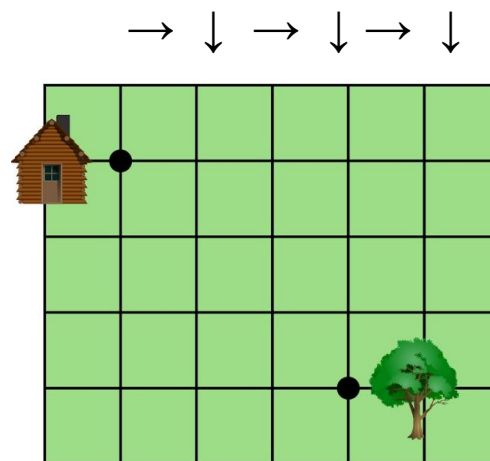
Opgave 2 Teken de route van het huis naar het kantoor.

Kijk goed naar de pijlen. Elke pijl is een streepje langs een hokje in die richting.



Opgave 3 Teken de route van het huis naar de boom.

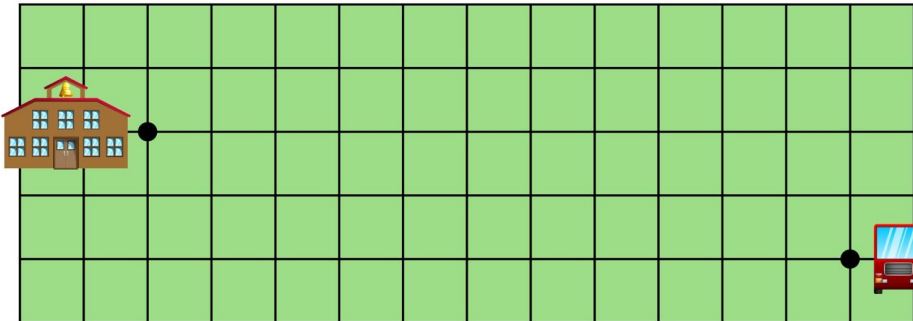
Kijk goed naar de pijlen. Elke pijl is een streepje langs een hokje in die richting.



Opgave 4 Teken de route van de school naar de bus.

Kijk goed naar de pijlen. Elke pijl is een streepje langs een hokje in die richting.

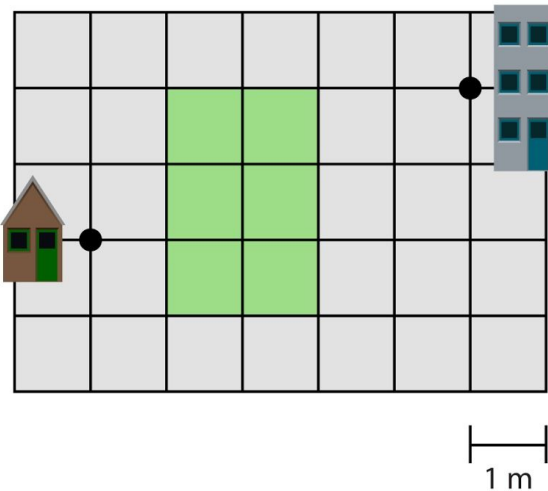
→ ↓ → ↓ → → → → → → → → → →



Opgave 5 Teken de route van het huis naar het kantoor.

Kijk goed naar de pijlen. Elke pijl is een streepje langs een hokje in die richting.

↑ ↑ → ↓ ↓ ↓ → → ↑ ↑ ↑ → →



Opgave 6 Teken de route van de brug naar de flat.

Kijk goed naar de pijlen. Elke pijl is een streepje langs een hokje in die richting.

↓ → ↑ ↑ → ↓ → → ↓ → → ↑ →

