

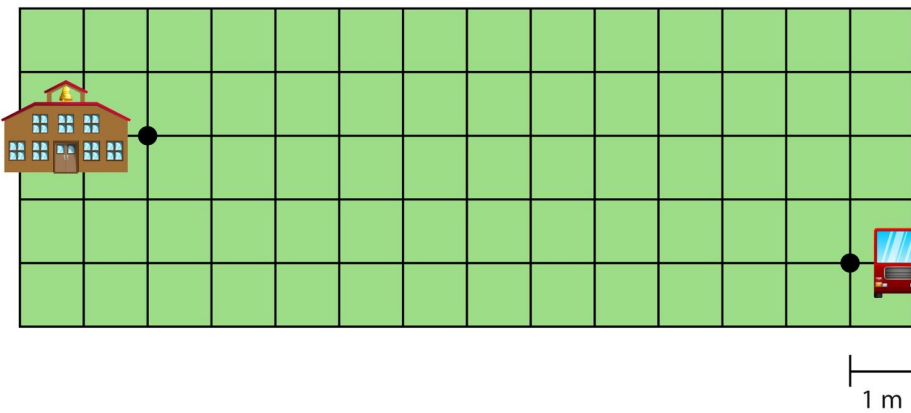
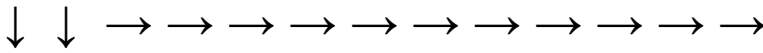
Meetkunde 3B

Eiland: Kaartlezen
Leerdoel: Bepalen van een route met pijlen



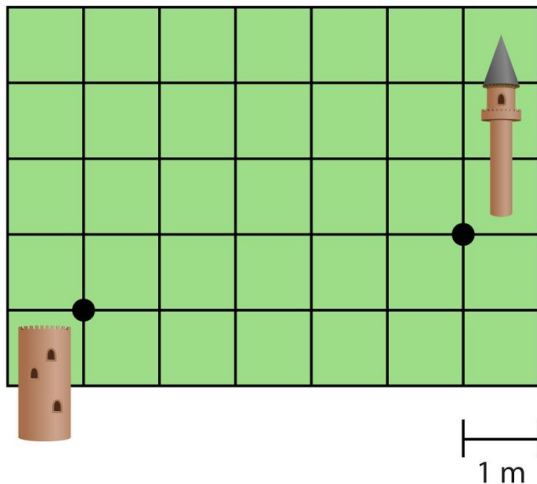
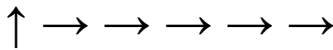
Opgave 1 Teken de route van de school naar de bus.

Kijk goed naar de pijlen. Elke pijl is een streepje langs een hokje in die richting.



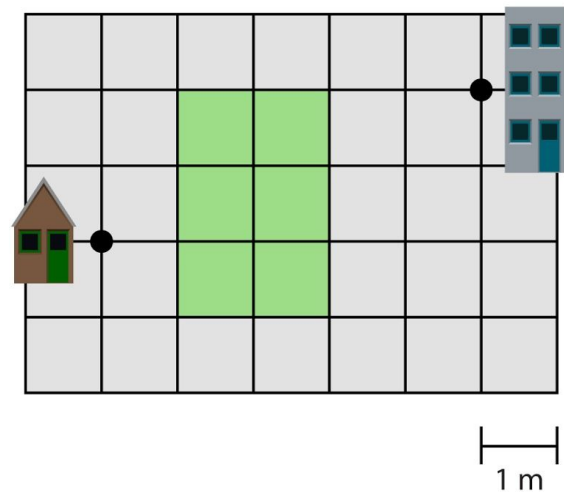
Opgave 2 Teken de route van de ene naar de andere toren.

Kijk goed naar de pijlen. Elke pijl is een streepje langs een hokje in die richting.



Opgave 3 Teken de route van het huis naar het kantoor.

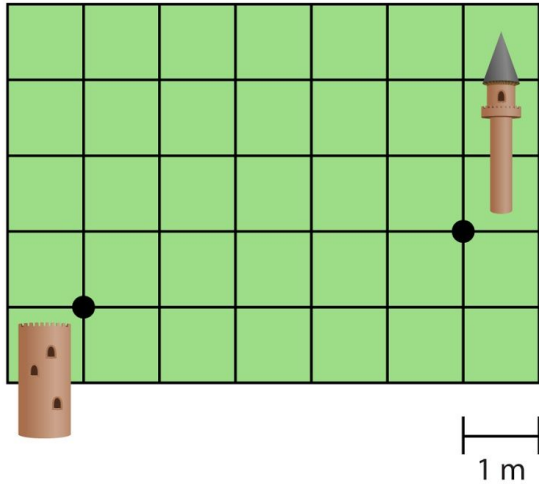
Kijk goed naar de pijlen. Elke pijl is een streepje langs een hokje in die richting.



Opgave 4 Teken de route van de ene naar de andere toren.

Kijk goed naar de pijlen. Elke pijl is een streepje langs een hokje in die richting.

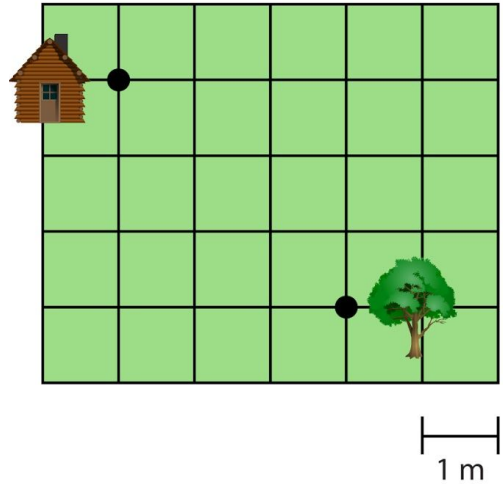
→ ↑ → → → →



Opgave 5 Teken de route van het huis naar de boom.

Kijk goed naar de pijlen. Elke pijl is een streepje langs een hokje in die richting.

↑ → ↓ ↓ ↓ → ↓ ↓ → ↑



Opgave 6 Teken de route van de ligstoel naar de parasol.

Kijk goed naar de pijlen. Elke pijl is een streepje langs een hokje in die richting.

← ← ← ↑ ↑ → ↑ → → → → → ↓ → ↑

