

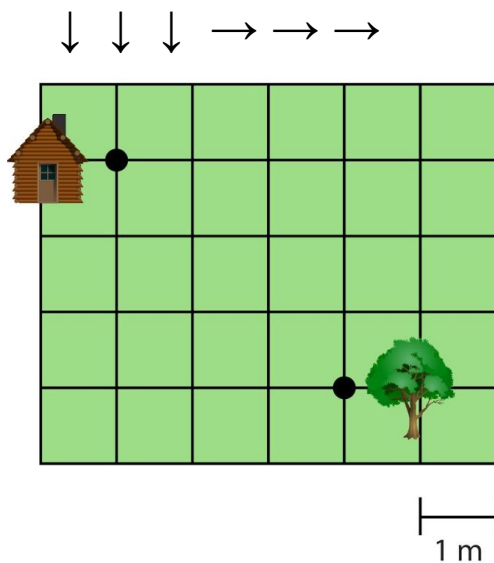
Meetkunde 3C

Eiland: Kaartlezen
Leerdoel: Bepalen van een route met pijlen



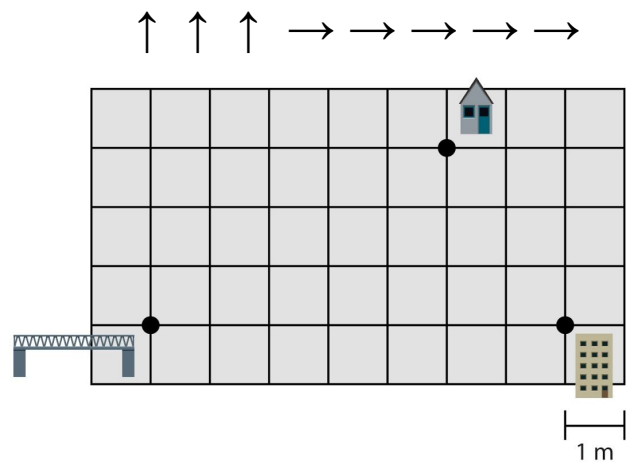
Opgave 1 Teken de route van het huis naar de boom.

Kijk goed naar de pijlen. Elke pijl is een streepje langs een hokje in die richting.



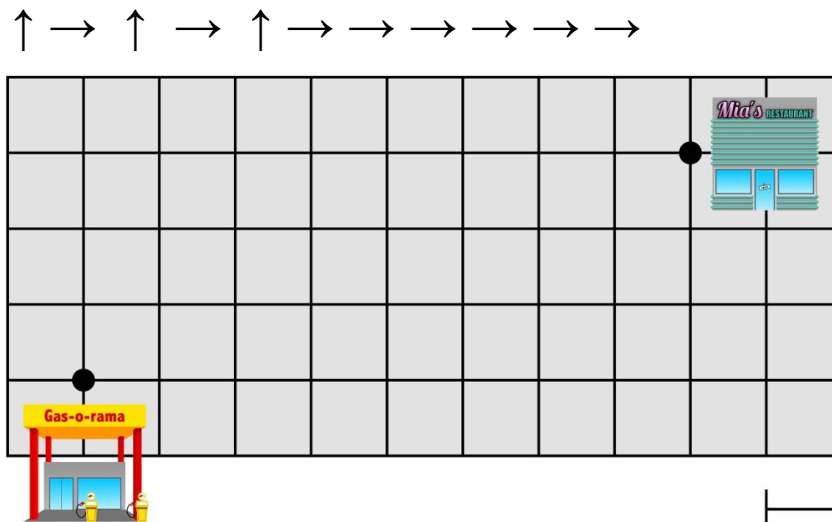
Opgave 2 Teken de route van de brug naar het huis.

Kijk goed naar de pijlen. Elke pijl is een streepje langs een hokje in die richting.



Opgave 3 Teken de route van het tankstation naar het restaurant.

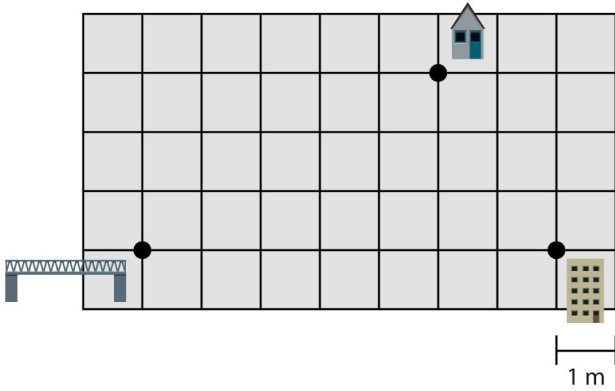
Kijk goed naar de pijlen. Elke pijl is een streepje langs een hokje in die richting.



Opgave 4 Teken de route van de brug naar het huis.

Kijk goed naar de pijlen. Elke pijl is een streepje langs een hokje in die richting.

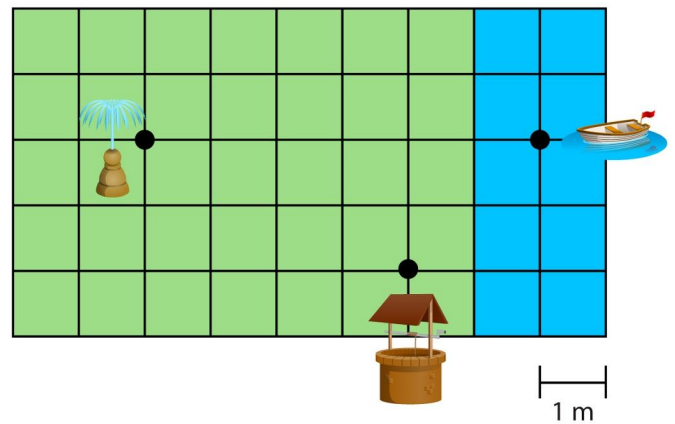
→ ↑ → ↑ → ↑ → →



Opgave 5 Teken de route van de put naar de fontein.

Kijk goed naar de pijlen. Elke pijl is een streepje langs een hokje in die richting.

↑ ↑ ↑ ← ← ↑ ← ↓ ← ↓



Opgave 6 Teken de route van het stopbord naar het stoplicht.

Kijk goed naar de pijlen. Elke pijl is een streepje langs een hokje in die richting.

← ← ← ↓ ← ↑ ← ↑ ↑ ↑ →

