

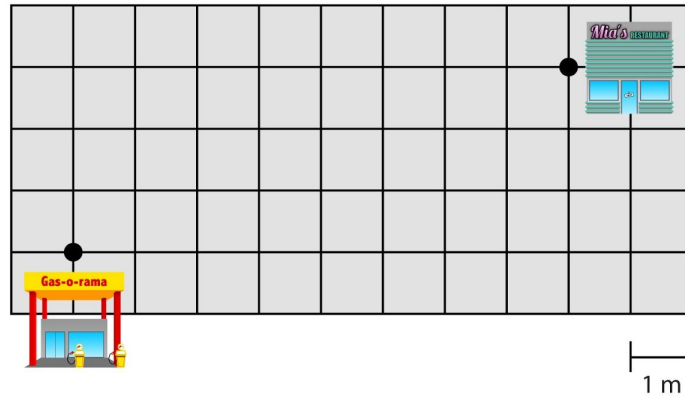
Meetkunde 5B

Eiland: Kaartlezen
Doel: Tekenen van een route op een rooster



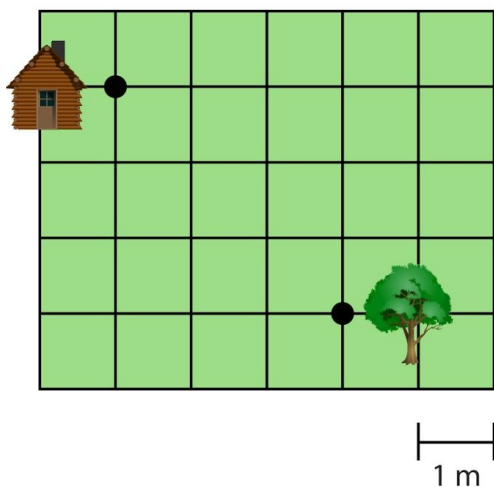
Opgave 1 Teken een route van het tankstation naar het restaurant.

Gebruik de lijnen van de hokjes.



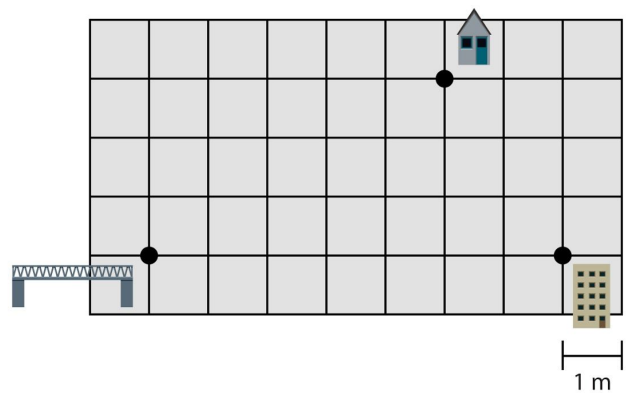
Opgave 2 Teken een route van 6 meter van de boom naar het huis.

Gebruik de lijnen van de hokjes.



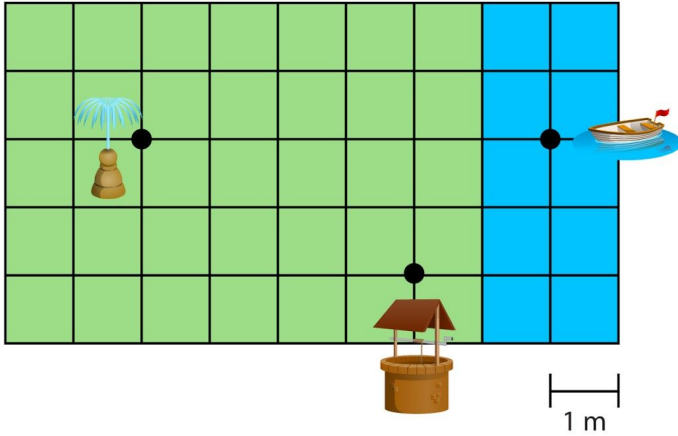
Opgave 3 Teken een route van de brug naar de flat via het huis.

Gebruik de lijnen van de hokjes.



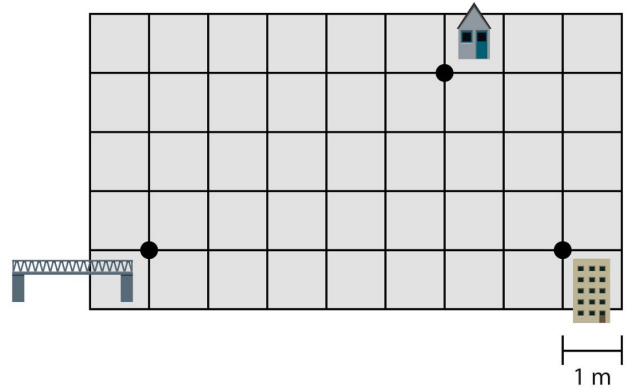
Opgave 4 Teken twee verschillende routes die even lang zijn van de boot naar de waterput via de fontein.

Gebruik de lijnen van de hokjes.



Opgave 5 Teken de kortste route van de flat naar het huis via de brug.

Gebruik de lijnen van de hokjes.



Opgave 6 Teken 2 routes. Teken een route van de tent naar de cactus en een route van de eetplek naar de strandstoel.

Gebruik de lijnen van de hokjes.

