


Meetkunde 5C

Eiland: Kaartlezen
Doel: Teken van een route op een rooster



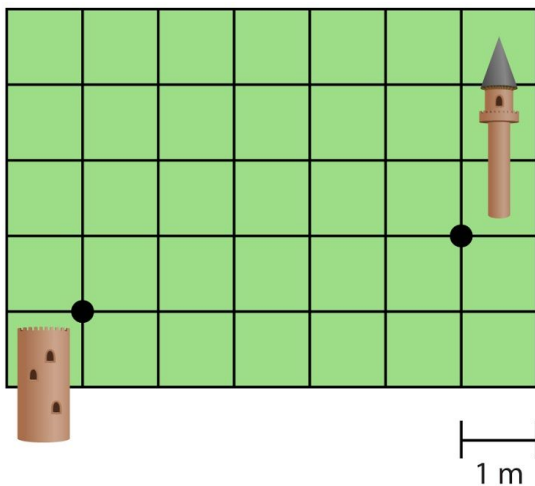
Opgave 1 Teken een route van de school naar de bus.

Gebruik de lijnen van de hokjes.



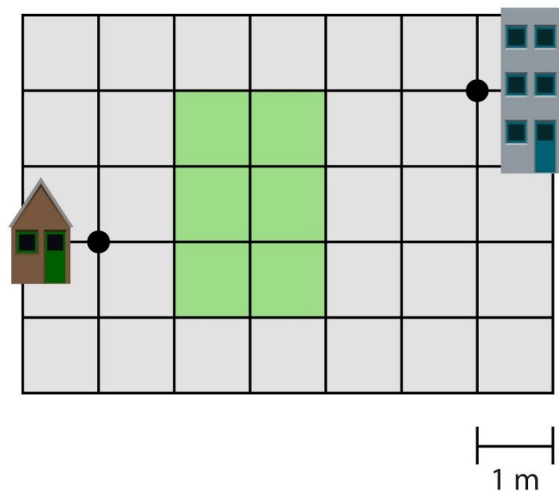
Opgave 2 Teken twee verschillende routes die even lang zijn van de ene naar de andere toren.

Gebruik de lijnen van de hokjes.

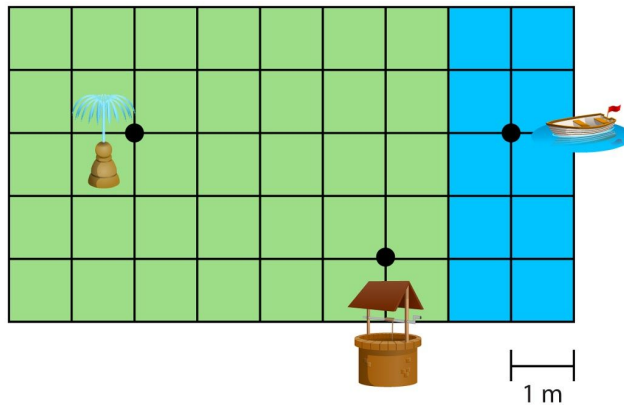


Opgave 3 Teken de kortste route van het huis naar de flat.

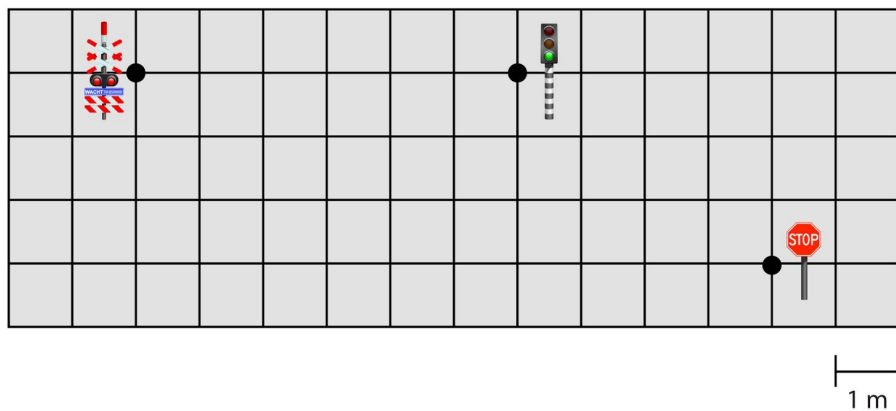
Gebruik de lijnen van de hokjes.



Opgave 4 Teken een route van 10 meter van de boot naar de fontein via de waterput.
Gebruik de lijnen van de hokjes.



Opgave 5 Teken de kortste van het stopbord naar de spoorwegovergang via het stoplicht.
Gebruik de lijnen van de hokjes.



Opgave 6 Teken een route van de tent naar de eethoek via de strandstoel en de cactus.
Gebruik de lijnen van de hokjes.

